

Probleme de fizică

Emil Petrescu Viorel Păun

October 6, 2004

Cuprins

1	OSCILAȚII	5
2	MECANICĂ ANALITICĂ	35
3	TERMODINAMICĂ	73
4	FIZICĂ STATISTICĂ	168
5	CÂMPUL ELECTROMAGNETIC	212

Capitolul 1

OSCILAȚII

PROBLEMA 1.1 Cunosând vitezele v_1 și v_2 ce corespund elongațiilor x_1 și x_2 ale unui oscilator armonic, să se determine amplitudinea și perioada oscilațiilor acestuia.

SOLUȚIE

Din expresiile elongației x_1 și a vitezei v_1

$$x_1 = A \sin(\omega t_1 + \varphi)$$

$$v_1 = \omega A \cos(\omega t_1 + \varphi)$$

rezultă

$$\frac{x_1}{A} = \sin(\omega t_1 + \varphi) \quad (1.1)$$

$$\frac{v_1}{\omega A} = \cos(\omega t_1 + \varphi) \quad (1.2)$$

Prin însumarea pătratelor expresiilor 1.1 și 1.2 rezultă:

$$\frac{x_1^2}{A^2} + \frac{v_1^2}{\omega^2 A^2} = 1 \quad (1.3)$$

În mod analog, se obține relația dintre elongația x_2 și viteza v_2 .

$$\frac{x_2^2}{A^2} + \frac{v_2^2}{\omega^2 A^2} = 1 \quad (1.4)$$

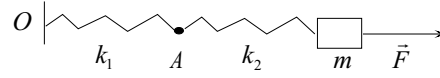


Figura 1.1: Resoarte legate în serie

Din sistemul format din relațiile 1.3 și 1.4 rezultă pulsația

$$\omega = \sqrt{\frac{v_2^2 - v_1^2}{x_1^2 - x_2^2}}$$

și amplitudinea

$$A = \sqrt{\frac{x_1^2 v_2^2 - x_2^2 v_1^2}{v_2^2 - v_1^2}}$$

Perioada oscilațiilor este

$$T = \frac{2\pi}{\omega} = 2\pi \sqrt{\frac{x_1^2 - x_2^2}{v_2^2 - v_1^2}}$$

PROBLEMA 1.2 O masă m este legată de un punct fix O prin intermediul a două resorturi cu constantele elastice k_1 și k_2 montate în serie, apoi în paralel. Să se determine în fiecare caz perioada micilor oscilații.

SOLUȚIE

a) Cazul resoartelor legate în serie (Fig. 1.1)

Se notează cu x_1 și x_2 deplasările punctului A și a masei m din pozițiile lor de echilibru. Aceasta înseamnă că deformarea celui de-al doilea resort este: $x_2 - x_1$.

Ecuția de mișcare a masei m este:

$$m \ddot{x}_2 = -k(x_2 - x_1) \quad (1.5)$$

Deoarece tensiunea în cele două resoarte este egală:

$$k_1 x_1 = k_2 (x_2 - x_1) \quad (1.6)$$

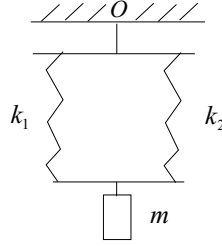


Figura 1.2: Resoarte legate în paralel

Se elimină x_1 din ecuațiile 1.5 și 1.6 și se obține

$$m \ddot{x}_2 + \frac{k_1 k_2}{k_1 + k_2} x_2 = 0$$

Aceasta este ecuația unui oscilator armonic cu pulsația

$$\omega = \sqrt{\frac{k_1 k_2}{m(k_1 + k_2)}}$$

În acest caz perioada micilor oscilații este:

$$T = \frac{2\pi}{\omega} \sqrt{\frac{m(k_1 + k_2)}{k_1 k_2}}$$

b) Cazul resoartelor legate în paralel (Fig. 1.2)

În acest caz deformarea celor două resoarte este egală. Ecuația de mișcare a corpului de masă m este

$$m \ddot{x} = -(k_1 + k_2) x$$

iar perioada de oscilație

$$T = 2\pi \sqrt{\frac{m}{k_1 + k_2}}$$

PROBLEMA 1.3 Un areometru (densimetru) de masă m cu diametrul tubului cilindric d efectuează mici oscilații verticale cu perioada T într-un lichid cu densitatea ρ . Să se determine densitatea lichidului.

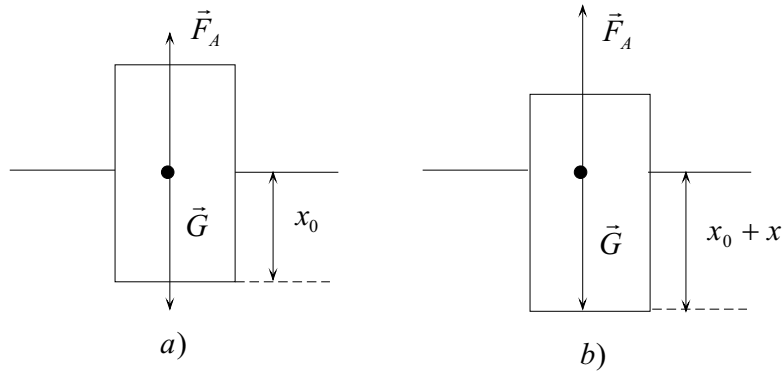


Figura 1.3: Areometru care oscilează în lichid

SOLUȚIE

Asupra areometrului acționează forța gravitațională și forța arhimedică.

În Fig. 1.3 sunt prezentate două situații:

- a) areometrul este în echilibru
- b) areometrul este scos puțin din poziția de echilibru.

Când areometrul este în poziția de echilibru, $F_A = G$, adică

$$\frac{\pi d^2}{4} x_0 \rho g = mg \quad (1.7)$$

unde m este masa areometrului.

Când areometrul este scos din poziția de echilibru și este introdus mai adânc în lichid forța arhimedică este mai mare decât forța gravitațională. Rezultanta celor două forțe este:

$$R = F_A - G = \frac{\pi d^2}{4} (x_0 + x) \rho g - mg \quad (1.8)$$

În expresia de mai sus s-a notat cu x deplasarea areometrului față de poziția de echilibru.

Ținând cont de relația 1.7, din 1.8 rezultă

$$R = \frac{\pi d^2}{4} \rho g x = kx \quad (1.9)$$

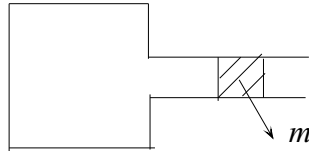


Figura 1.4: Piston care oscilează într-un tub

Deoarece rezultanta forțelor este proporțională cu deplasarea și este îndreptată în sensul revenirii areometrului în poziția de echilibru, rezultă

$$\omega = \frac{2\pi}{T} = \sqrt{\frac{\pi d^2}{4m} \rho g}$$

și

$$\rho = \frac{16\pi m}{gd^2 T^2}$$

PROBLEMA 1.4 În cazul recipientului reprezentat în Fig. 1.4 un piston de masă m poate culisa în interiorul tubului cilindric de secțiune S .

Când pistonul este în poziția de echilibru, volumul aerului din recipient este V , iar presiunea sa este egală cu presiunea atmosferică p_0 . Dacă pistonul este scos din poziția de echilibru el începe să oscileze. Dacă se consideră că interiorul cilindrului este izolat adiabatic, să se determine perioada micilor oscilații.

SOLUȚIE

Dacă pistonul este deplasat din poziția de echilibru cu distanța Δx volumul aerului din recipient crește cu:

$$\Delta V = \Delta x S$$

Din ecuația transformării adiabaticice

$$pV^\gamma = \text{const}$$

se obține

$$V^\gamma \Delta p + \gamma V^{\gamma-1} p \Delta V = 0$$

Rezultă astfel variația presiunii gazului din interiorul recipientului:

$$\Delta p = -\frac{\gamma p_0}{V} \Delta V$$

Se arată că dacă volumul de gaz din recipient crește presiunea acestuia scade astfel că forța rezultantă acționează din exterior înspre interior, iar dacă volumul de gaz se micșorează, rezultanta acționează spre exterior. Rezultă că forța are tendința de a readuce pistonul în poziția de echilibru. Expresia ei este:

$$F = \Delta p S = -\frac{\gamma p_0 S}{V} \Delta V = -\frac{\gamma p_0 S^2}{V} \Delta x$$

Această forță este de tip elastic astfel că pulsația este:

$$\omega = \sqrt{\frac{\gamma p_0 S^2}{Vm}}$$

iar perioada micilor oscilații

$$T = \frac{2\pi}{\omega} = 2\pi \sqrt{\frac{Vm}{\gamma p_0 S^2}}$$

PROBLEMA 1.5 Un punct material m se mișcă fără frecare în interiorul unei cicloide plasate în plan vertical. Ecuațiile parametrice ale cicloidei sunt:

$$x = R(\theta + \sin \theta) \quad (1.10)$$

$$z = R(1 - \cos \theta) \quad (1.11)$$

Să se calculeze abscisa curbilinie s în funcție de parametrul θ .

Să se arate că perioada oscilațiilor în jurul poziției de echilibru $x = 0$ și $z = 0$ este independentă de amplitudinea acestor oscilații.

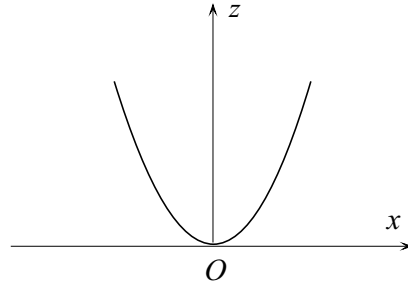


Figura 1.5: Forma unei cicloide în vecinătatea originii

SOLUȚIE

În Fig. 1.5 este arătată forma cicloidei. Punctul $x = 0$ și $z = 0$ corespunde valorii $\theta = 0$.

Deoarece:

$$ds = \sqrt{\left(\frac{dx}{d\theta}\right)^2 + \left(\frac{dz}{d\theta}\right)^2} d\theta \quad (1.12)$$

Introducând 1.10 și 1.11 în 1.12 rezultă:

$$ds = R\sqrt{(1 + \cos \theta)^2 + \sin^2 \theta} d\theta = 2R \cos \frac{\theta}{2} d\theta$$

și integrând

$$s = 4R \sin \frac{\theta}{2} \quad (1.13)$$

Energia cinetică a punctului material este:

$$E_c = \frac{1}{2}m \left(\frac{ds}{dt}\right)^2 = \frac{1}{2}m \dot{s}^2 \quad (1.14)$$

Energia potențială este de natură gravitațională și este dată de expresia:

$$E_p = mgz = mgR(1 - \cos \theta) = 2mgR \sin^2 \frac{\theta}{2} = \frac{mgs^2}{8R} \quad (1.15)$$

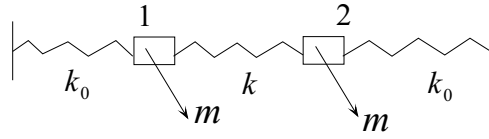


Figura 1.6: Sistem de trei resoarte și două corpuri care oscilează

Energia totală este:

$$E = E_c + E_p = \frac{1}{2}m \dot{s}^2 + \frac{mg}{8R}s^2 \quad (1.16)$$

Deoarece în sistem nu există forțe neconservative, energia mecanică se conservă. Derivând în raport cu timpul relația 1.16 se obține:

$$\ddot{s} + \frac{g}{4R}s = 0 \quad (1.17)$$

Relația 1.17 este ecuația unui oscilator armonic cu pulsația

$$\omega = \sqrt{\frac{g}{4R}}$$

Perioada micilor oscilațiilor este

$$T = 4\pi\sqrt{\frac{R}{g}}$$

PROBLEMA 1.6 Se consideră un sistem compus din două corpuri de mase m legate cu ajutorul a 3 resoarte cu constantele de elasticitate k_0 și k (vezi Fig. 1.6).

La momentul inițial se aplică un impuls corpului 1 astfel încât viteza acestuia să devină egală cu v_0 .

Să se determine ecuațiile de mișcare ale celor două corpuri.

SOLUȚIE

Pozițiile celor două corpuri vor fi date de deplasările acestora față de pozițiile de echilibru: x_1 pentru corpul 1 și x_2 pentru corpul 2.

Ecuatiile de mișcare ale celor două corpuri sunt:

$$m \ddot{x}_1 = -k_0 x_1 - k(x_1 - x_2) \quad (1.18)$$

$$m \ddot{x}_2 = -k_0 x_2 - k(x_2 - x_1) \quad (1.19)$$

Se adună cele două relații

$$m(\ddot{x}_1 + \ddot{x}_2) = -k_0(x_1 + x_2) \quad (1.20)$$

și se scad cele două relații

$$m(\ddot{x}_1 - \ddot{x}_2) = -(k_0 + 2k)(x_1 - x_2) \quad (1.21)$$

Atunci se pot face schimbările de variabile:

$$q_1 = x_1 + x_2 \quad (1.22)$$

$$q_2 = x_1 - x_2 \quad (1.23)$$

Ecuatiile de mișcare 1.20 și 1.21 devin:

$$\ddot{q}_1 + \frac{k_0}{m} q_1 = 0 \quad (1.24)$$

$$\ddot{q}_2 + \frac{k_0 + 2k}{m} q_2 = 0 \quad (1.25)$$

Soluțiile generale ale acestor ecuații sunt

$$q_1 = A_1 \sin(\omega_1 t + \varphi_1) \quad ; \quad \omega_1 = \sqrt{\frac{k_0}{m}} \quad (1.26)$$

$$q_2 = A_2 \sin(\omega_2 t + \varphi_2) \quad ; \quad \omega_2 = \sqrt{\frac{k_0 + 2k}{m}} \quad (1.27)$$

Condițiile inițiale la momentul t_0

$$\begin{aligned} x_1 &= 0 & ; & & \dot{x}_1 &= v_0 \\ x_2 &= 0 & ; & & \dot{x}_2 &= 0 \end{aligned}$$

devin pentru noile variabile:

$$\begin{aligned} q_1 &= 0 & ; & & \dot{q}_1 &= v_0 \\ q_2 &= 0 & ; & & \dot{q}_2 &= v_0 \end{aligned}$$

Utilizând condițiile inițiale rezultă

$$\begin{aligned} \varphi_1 &= \varphi_2 = 0 \\ A_1 &= \frac{v_0}{\omega_1} & A_2 &= \frac{v_0}{\omega_2} \end{aligned}$$

Astfel relațiile 1.26 și 1.27 devin:

$$q_1 = \frac{v_0}{\omega_1} \sin \omega_1 t \quad (1.28)$$

$$q_2 = \frac{v_0}{\omega_2} \sin \omega_2 t \quad (1.29)$$

Ținând cont de modul de definire a variabilelor q_1 și q_2 , rezultă:

$$\begin{aligned} x_1 &= \frac{v_0}{2} \left[\frac{\sin \omega_1 t}{\omega_1} + \frac{\sin \omega_2 t}{\omega_2} \right] \\ x_2 &= \frac{v_0}{2} \left[\frac{\sin \omega_1 t}{\omega_1} - \frac{\sin \omega_2 t}{\omega_2} \right] \end{aligned}$$

PROBLEMA 1.7 Un punct material de masă m și sarcină q se află într-un plan xOy sub acțiunea unei forțe $\vec{F} = -k\vec{r}$, unde \vec{r} este raza vectorială a punctului material. Dacă în această regiune există un câmp magnetic \vec{B} perpendicular pe planul xOy să se calculeze pulsația mișcării oscilatorii. Se va considera cazul unui câmp magnetic slab.

SOLUȚIE

În acest caz legea a doua a dinamicii este:

$$m \frac{d^2 \vec{r}}{dt^2} = -k\vec{r} + q\vec{v} \times \vec{B} \quad (1.30)$$

În planul xOy se obține:

$$\ddot{x} + \frac{k}{m}x = \frac{qB}{m} \dot{y} \quad (1.31)$$

$$\ddot{y} + \frac{k}{m}y = -\frac{qB}{m} \dot{x} \quad (1.32)$$

Se fac următoarele notații: $\omega_0^2 = k/m$ și $\omega_l = qB/2m$.

Se înmulțește ecuația 1.32 cu i și se adună cu 1.31. Rezultă:

$$(\ddot{x} + i\ddot{y}) + \omega_0^2(x + iy) = -i2\omega_l(\dot{x} + i\dot{y}) \quad (1.33)$$

Introducând o nouă variabilă:

$$u = x + iy$$

ecuația 1.33 devine

$$\ddot{u} + 2i\dot{u}\omega_l + \omega_0^2 u = 0 \quad (1.34)$$

Relația 1.34 este o ecuație diferențială de ordinul al doilea cu coeficienți constanți a cărei ecuație caracteristică este:

$$r^2 + 2i\omega_l r + \omega_0^2 = 0$$

și are soluțiile

$$r_{1,2} = -i\omega_l \pm i\sqrt{\omega_l^2 + \omega_0^2}$$

În cazul câmpurilor magnetice slabe B este mic astfel încât se poate considera că

$$\omega_l \ll \omega_0$$

Atunci soluțiile ecuației caracteristice pot fi puse sub forma mai simplă:

$$r_{1,2} = -i(\omega_l \pm \omega_0)$$

iar soluția ecuației 1.34 este

$$u = e^{-i\omega_l} [Ae^{i\omega_0 t} + Ce^{-i\omega_0 t}]$$

A și C sunt constante care se determină din condițiile inițiale.

Se constată că în câmp magnetic pulsația ω_0 se schimbă cu o valoare ω_l astfel încât:

$$\omega = \omega_0 \pm \omega_l$$

PROBLEMA 1.8 Asupra unei sfere de rază r care se deplasează cu o viteză v într-un fluid cu coeficientul de vâscozitate η acționează o forță de frecare care are expresia:

$$\vec{f} = -6\pi\eta r \vec{v}$$

O sferă de masă m este suspendată de un resort cu constanta elastică k . Perioada de oscilație în aer, unde frecarea este neglijabilă, este T_0 . Când sfera este introdusă într-un fluid perioada oscilațiilor devine $T < T_0$. Să se determine coeficientul de vâscozitate în funcție de T și T_0 .

SOLUȚIE

Legea a doua a lui Newton pentru sfera care oscilează în fluid este

$$m \ddot{x} = -kx - 6\pi\eta r \dot{x} \quad (1.35)$$

Notând $\lambda = 3\pi\eta r$, ecuația 1.35 devine:

$$m \ddot{x} + 2\lambda \dot{x} + kx = 0 \quad (1.36)$$

Ecuația caracteristică a ecuației diferențiale 1.36 este

$$mr^2 + 2\lambda r + k = 0$$

și are soluțiile

$$r_{1,2} = -\frac{\lambda}{m} \pm i\sqrt{\frac{k}{m} - \frac{\lambda^2}{m^2}} \quad (1.37)$$

În cazul în care $k/m \leq \lambda^2/m^2$ mișcarea este aperiodică. Deoarece se consideră că sfera efectuează oscilații în fluid se va considera cazul $k/m > \lambda^2/m^2$. Soluția ecuației 1.36 este:

$$x = Ae^{-\lambda t/m} \exp i(\omega t + \phi) \quad (1.38)$$

unde:

$$\omega = \sqrt{\frac{k}{m} - \frac{\lambda^2}{m^2}} \quad (1.39)$$

În cazul în care sfera oscilează în aer, forța de frecare este neglijabilă. Atunci se poate considera $\lambda = 0$ iar pulsația oscilațiilor este

$$\omega_0 = \sqrt{\frac{k}{m}} \quad (1.40)$$

Din 1.39 și 1.40 rezultă:

$$\lambda = m\sqrt{\omega_0^2 - \omega^2}$$

Deoarece $\lambda = 3\pi\eta r$, $\omega_0 = 2\pi/T_0$ și $\omega = 2\pi/T$

$$\eta = \frac{2m}{3r} \sqrt{\frac{1}{T_0^2} - \frac{1}{T^2}}$$

PROBLEMA 1.9 O particulă este legată de un resort cu constanta elastică k . Ea poate executa oscilații fără amortizare. La momentul inițial particula se află în poziția de echilibru. Asupra particulei acționează o forță F un timp egal cu τ secunde. Să se determine amplitudinea oscilațiilor după ce forța încetează.

SOLUȚIE

Ecuația de mișcare în intervalul de timp $[0, \tau]$ este

$$m \ddot{x} = -kx + F \quad (1.41)$$

cu condițiile inițiale

$$\begin{aligned}x(0) &= 0 \\ \dot{x}(0) &= 0\end{aligned}\tag{1.42}$$

Soluția ecuației de mai sus este de forma

$$x = A \cos(\omega t + \varphi) + \frac{F}{k}\tag{1.43}$$

unde: $\omega = \sqrt{k/m}$

Pentru determinarea constantelor A și φ se ține cont de condițiile inițiale. Rezultă

$$x = (1 - \cos \omega t) \frac{F}{k}\tag{1.44}$$

Ecuția de mișcare pentru $t > \tau$ este

$$m \ddot{x} = -kx\tag{1.45}$$

Soluția ecuației 1.45 este:

$$x = A' \cos[\omega(t - \tau) + \alpha]\tag{1.46}$$

Pentru determinarea amplitudinii A' se pune condiția de continuitate pentru elongație și viteză în momentul $t = \tau$

Se obține

$$(1 - \cos \omega \tau) \frac{F}{k} = A' \cos \alpha$$

$$\frac{F}{k} \sin \omega \tau = -A' \sin \alpha$$

Cele două relații se ridică la pătrat și se adună. Rezultă

$$A' = \frac{2F}{m} \sin \frac{\omega \tau}{2}$$

PROBLEMA 1.10 O masă m legată de un resort oscilează, decrementul logaritmic al amortizării fiind δ . După timpul t_1 , energia oscilatorului scade de n ori. Să se determine constanta de elasticitate a resortului.

SOLUȚIE

Deoarece energia unui oscilator este proporțională cu pătratul amplitudinii oscilației raportul energiilor oscilatorului corespunzătoare momentelor t_0 și t_1 este:

$$\frac{E_1}{E_0} = \left(\frac{A_1}{A_0} \right)^2 = \frac{1}{n} \quad (1.47)$$

Notând cu γ coeficientul de amortizare:

$$\frac{A_1}{A_0} = \exp(-\gamma t_1) \quad (1.48)$$

Din relațiile 1.47 și 1.48 rezultă:

$$\ln \sqrt{n} = \gamma t_1$$

și decrementul logaritmic este:

$$\delta = \gamma T = \frac{\ln \sqrt{n}}{t_1} T \quad (1.49)$$

Cum

$$\begin{aligned} \omega^2 &= \omega_0^2 - \gamma^2 = \frac{k}{m} - \gamma^2 \\ k &= m(\omega^2 + \gamma^2) = m \left(\frac{4\pi^2}{T^2} + \gamma^2 \right) \end{aligned} \quad (1.50)$$

Dacă se ține cont de relația 1.49 din relația 1.50 se obține constanta de elasticitate a resortului:

$$k = \left[\left(\frac{2\pi \ln \sqrt{n}}{\delta t_1} \right)^2 + \gamma^2 \right]$$

PROBLEMA 1.11 Un corp de masă m este suspendat de un resort cu constanta de elasticitate k . Forța de atracție este proporțională cu viteza. După s oscilații amplitudinea scade de n ori. Să se determine perioada de oscilație și decrementul logaritmic δ .

SOLUȚIE

Mișcarea corpului este o mișcare amortizată. Ea are loc după legea

$$x = A_0 e^{-\gamma t} \cos(\omega t + \phi) \quad (1.51)$$

unde:

$$\omega = \frac{2\pi}{T} = \sqrt{\omega_0^2 - \gamma^2} \quad (1.52)$$

$$\omega_0 = \sqrt{\frac{k}{m}} \quad (1.53)$$

Amplitudinea în timpul mișcării oscilatorii scade exponențial în timp:

$$A = A_0 e^{-\gamma t}$$

Conform datelor problemei:

$$\frac{A_0}{n} = A_0 e^{-\gamma s T} \quad (1.54)$$

Rezultă:

$$\ln n = \gamma s T \quad (1.55)$$

Din relațiile 1.52 și din 1.55 se obține:

$$\gamma = \frac{\omega_0 \ln n}{\sqrt{4\pi^2 s^2 + \ln^2 n}}$$

$$T = \frac{\ln n}{\gamma s} = \frac{\sqrt{4\pi^2 s^2 + \ln^2 n}}{s \omega_0}$$

Decrementul logaritmic este

$$\delta = \gamma T = \frac{\ln n}{s}$$

PROBLEMA 1.12 Un corp de masă $m=5$ kg este suspendat de un resort care oscilează. În absența forțelor de rezistență perioada de oscilație este $T_0 = 0,4\pi$ s. Atunci când există o forță de rezistență proporțională cu viteza, perioada de oscilație devine $T = 0,5\pi$ s. Să se determine ecuația de mișcare a corpului presupunând că în momentul inițial acesta se găsește la distanța $x_0 = 4$ cm față de poziția de echilibru și apoi este lăsat liber.

SOLUȚIE

Mișcarea corpului este o mișcare cvasiperiodică amortizată cu pulsația ω și perioada T date de relațiile:

$$\begin{aligned}\omega^2 &= \omega_0^2 - \gamma^2 \\ \frac{4\pi^2}{T^2} &= \frac{4\pi^2}{T_0^2} - \gamma^2\end{aligned}$$

Rezultă că:

$$\gamma = 2\pi \sqrt{\frac{T^2 - T_0^2}{T^2 T_0^2}} = \frac{2\pi}{T_0 T} \sqrt{T^2 - T_0^2} = 3 \text{ s}^{-1}$$

Deoarece ecuația de mișcare a corpului este de forma:

$$x = A_0 e^{-\gamma t} \sin(\omega t + \phi) \quad (1.56)$$

viteza sa este:

$$v = \frac{dx}{dt} = -A_0 \gamma e^{-\gamma t} \sin(\omega t + \phi) + \omega A_0 e^{-\gamma t} \cos(\omega t + \phi) \quad (1.57)$$

Aplicând condițiile inițiale

$$x(0) = x_0 \quad v(0) = 0$$

se obține:

$$0 = -A_0 \gamma \sin \phi + A_0 \omega \cos \phi \quad (1.58)$$

$$x_0 = A_0 \sin \phi \quad (1.59)$$

Din relațiile 1.58 și 1.59 rezultă $A_0 = 5 \text{ cm}$ și

$$\phi = \arcsin \frac{x_0}{A_0} = \arcsin \frac{4}{5}$$

Ecuația de mișcare este:

$$x = 5e^{-3t} \sin(4t + \arcsin 4/5) \text{ cm}$$

PROBLEMA 1.13 Să se scrie ecuația de mișcare a unui punct material de masă m care este supus acțiunii unei forțe elastice kx și unei forțe constante F_0 având aceeași direcție ca forța elastică. Se consideră că la momentul $t = 0$ în punctul $x = 0$ viteza este nulă.

SOLUȚIE

Legea a doua a mecanicii este:

$$m\ddot{x} + kx = F_0 \quad (1.60)$$

Soluția acestei ecuații diferențiale neomogene este suma dintre soluția generală a ecuației diferențiale omogene

$$x_1 = A \sin(\omega t + \phi_0) \quad \text{cu} \quad \omega = \sqrt{\frac{k}{m}} \quad (1.61)$$

și o soluție particulară a ecuației neomogene

$$x_2 = \frac{F_0}{k} \quad (1.62)$$

Atunci soluția ecuației 1.60 este:

$$x = x_1 + x_2 = \frac{F_0}{k} + A \sin(\omega t + \phi_0) \quad (1.63)$$

Viteza punctului material este

$$v = \frac{dx}{dt} = A\omega \cos(\omega t + \phi_0) \quad (1.64)$$

Din condițiile inițiale

$$x(0) = 0 \quad \text{și} \quad v(0) = 0$$

și din ecuațiile 1.63 și 1.64 se obține:

$$A = -\frac{F_0}{k} \quad \text{și} \quad \phi_0 = \frac{\pi}{2}$$

iar ecuația de mișcare este:

$$x = -\frac{F_0}{k} (1 - \cos \omega t)$$

PROBLEMA 1.14 Să se scrie ecuația de mișcare unidimensională a unui punct material de masă m care este supus acțiunii unei forțe elastice $-kx$ și unei forțe $F = at$ care are aceeași direcție ca și forța elastică. La momentul $t = 0$ în punctul $x = 0$ viteza este nulă.

SOLUȚIE

Legea a doua a mecanicii se scrie:

$$m\ddot{x} + kx = at \quad (1.65)$$

Soluția acestei ecuații diferențiale neomogene este suma dintre soluția generală a ecuației diferențiale omogene

$$x_1 = A \sin(\omega t + \varphi) \quad \text{cu} \quad \omega = \sqrt{\frac{k}{m}} \quad (1.66)$$

și o soluție particulară a ecuației neomogene

$$x_2 = \frac{at}{k} \quad (1.67)$$

Atunci soluția ecuației 1.65 este:

$$x = x_1 + x_2 = \frac{at}{k} + A \sin(\omega t + \varphi) \quad (1.68)$$

Viteza punctului material este

$$v = \frac{dx}{dt} = \frac{a}{k} + A\omega \cos(\omega t + \varphi) \quad (1.69)$$

Din condițiile inițiale

$$x(0) = 0 \quad \text{și} \quad v(0) = 0$$

și din ecuațiile 1.68 și 1.69 se obține:

$$A \sin \varphi = 0 \quad (1.70)$$

$$\frac{a}{k} + A\omega \cos \varphi = 0 \quad (1.71)$$

Din 1.70 și din 1.71 rezultă:

$$\varphi = 0 \quad A = -\frac{a}{k\omega}$$

Ecuția de mișcare 1.68 devine:

$$x = \frac{a}{k} \left(t - \frac{1}{\omega} \sin \omega t \right)$$

PROBLEMA 1.15 Să se scrie ecuația de mișcare unidimensională a unui punct material de masă m care este supus acțiunii unei forțe elastice $-kx$ și unei forțe $F = F_0 \exp(-\alpha t)$. La momentul $t = 0$ în punctul $x = 0$ viteza este nulă.

SOLUȚIE

Legea a doua a mecanicii se scrie:

$$m\ddot{x} + kx = F_0 \exp(-\alpha t) \quad (1.72)$$

Soluția acestei ecuații diferențiale neomogene este suma dintre soluția generală a ecuației diferențiale omogene

$$x_1 = A_1 \sin(\omega t + \varphi) \quad \text{cu} \quad \omega = \sqrt{\frac{k}{m}} \quad (1.73)$$

și o soluție particulară a ecuației neomogene de forma:

$$x_2 = A_2 \exp(-\alpha t) \quad (1.74)$$

Pentru a determina valoarea constantei A_2 introducem 1.74 în 1.72. Se obține:

$$m\alpha^2 A_2 \exp(-\alpha t) + kA_2 \exp(-\alpha t) = F_0 \exp(-\alpha t)$$

Rezultă:

$$A_2 = \frac{F_0}{m\alpha^2 + k} \quad (1.75)$$

Atunci soluția generală a ecuației 1.72 este:

$$x = x_1 + x_2 = \frac{F_0}{m\alpha^2 + k} \exp(-\alpha t) + A_1 \sin(\omega t + \varphi) \quad (1.76)$$

Viteza punctului material este

$$v = \frac{dx}{dt} = \frac{-\alpha F_0}{m\alpha^2 + k} \exp(-\alpha t) + A_1 \omega \cos(\omega t + \varphi) \quad (1.77)$$

Din condițiile inițiale

$$x(0) = 0 \quad \text{și} \quad v(0) = 0$$

și din ecuațiile 1.76 și 1.77 se obține:

$$\frac{F_0}{m\alpha^2 + k} + A_1 \sin \varphi = 0 \quad (1.78)$$

$$\frac{-\alpha F_0}{m\alpha^2 + k} + A_1 \omega \cos \varphi = 0 \quad (1.79)$$

Din 1.78 și din 1.79 se obține:

$$A_1 = \frac{F_0}{m\alpha^2 + k} \sqrt{1 + \frac{\alpha^2}{\omega^2}}$$

și, prin împărțirea acestora, unghiul φ :

$$\operatorname{tg} \varphi = -\frac{\omega}{\alpha}$$

PROBLEMA 1.16 O sursă aflată într-un mediu elastic unidimensional oscilează după legea

$$y = 0,5 \sin 100\pi t \quad \text{mm}$$

Lungimea de undă a undelor longitudinale emise este $\lambda = 20$ m.

a) După cât timp va începe să oscileze un punct aflat la distanța $x_1 = 8$ m față de sursă?

b) Ce defazaj există între oscilația punctului aflat la distanța x_1 de sursă și oscilația sursei?

c) La ce distanță se află două puncte ale căror oscilații sunt defazate cu $\pi/3$?

SOLUȚIE

a) Din ecuația de oscilație a sursei rezultă că $\omega = 100\pi$ astfel că:

$$T = \frac{2\pi}{100\pi} = 2 \times 10^{-2} \text{ s}$$

Deoarece lungimea de undă este $\lambda = vT$, viteza de propagare a undei este:

$$v = \frac{\lambda}{T} = 10^3 \text{ m/s}$$

Timpul după care punctul aflat la distanța x_1 începe să oscileze este:

$$t = \frac{x_1}{v} = \frac{8}{10^3} = 8 \times 10^{-3} \text{ s}$$

b) Ecuația undei este:

$$y_1 = 0,5 \sin 100\pi \left(t - \frac{x_1}{v} \right) \text{ mm}$$

Defazajul dintre oscilația sursei și oscilația punctului considerat este:

$$\Delta\varphi = \varphi_s - \varphi_p = 100\pi t - 100\pi \left(t - \frac{x_1}{v} \right) = 100\pi \frac{x_1}{v} = \frac{8\pi}{10} \text{ rad}$$

c) Se consideră defazajul dintre două puncte aflate la distanța Δx unul de altul

$$\Delta\varphi = 100\pi \left(t - \frac{x_2}{v} \right) - 100\pi \left(t - \frac{x_1}{v} \right) = \frac{100\pi (x_1 - x_2)}{v}$$

Atunci:

$$\Delta x = (x_1 - x_2) = \frac{v\Delta\varphi}{100\pi} = 3,3 \text{ m}$$

PROBLEMA 1.17 Un avion cu reacție zboară cu viteza constantă $v = 1000 \text{ m/s}$ la înălțimea $h = 10,2 \text{ km}$. Care este forma frontului undei de șoc produsă de avion? La ce distanță de o casă se va afla avionul când geamurile acesteia încep să vibreze? Viteza sunetului este $c = 340 \text{ m/s}$.

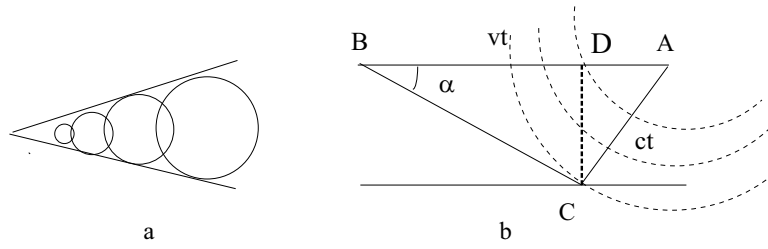


Figura 1.7: Unda de șoc produsă de un avion

SOLUȚIE

Dacă un corp (glonț, avion supersonic) se deplasează într-un fluid cu o viteză mai mare decât a undelor sonore apare așa numita undă de șoc. Undele produse de avion se propagă în toate direcțiile sub formă de unde sferice. Deoarece viteza v a avionului este mai mare decât a sunetului, frontul de undă are forma unui con în vârful căruia se află avionul în fiecare moment (Fig. 1.7).

Dacă la un moment dat avionul se afla în punctul A după trecerea timpului t , el s-a deplasat în punctul B iar $AB = vt$. Frontul unei unde emise în A va avea raza $AC = ct$. În punctul C se presupune că se află casa unde este simțită unda de soc. Se observă în Fig.1.7 că:

$$\sin \alpha = \frac{ct}{vt} = \frac{c}{v}$$

Distanța BC față de o casă aflată în punctul C de pe sol este:

$$d = \frac{h}{\sin \alpha} = \frac{hv}{c} = 30 \text{ km}$$

PROBLEMA 1.18 O sursă punctiformă emite unde sonore cu frecvența ν . Să se găsească frecvențele sunetului pe care-l recepționează un observator care se apropie de sursă cu viteza v . Să se găsească frecvența sunetului pe care același observator îl recepționează dacă se depărtează de sursă cu viteza v . Viteza sunetului în aer este c .

SOLUȚIE

Sursa fiind punctiformă undele emise de aceasta sunt sferice. Suprafețele de undă sunt sfere concentrice distanțate una de alta cu lungimea de undă. Dacă observatorul ar fi în repaus el ar recepționa ct/λ unde în timpul t . Dacă observatorul se apropie de sursă el va recepționa $(c + v)t/\lambda$ unde în timpul t . Frecvența cu care observatorul recepționează undele este

$$\nu' = \frac{(c + v)t}{\lambda t} = \frac{c + v}{\lambda} = \frac{(c + v)}{cT} = \nu \left(1 + \frac{v}{c}\right)$$

Dacă observatorul se depărtează de sursă cu viteza v el va recepționa $(c - v)t/\lambda$ unde în timpul t . Frecvența recepționată de observator va fi:

$$\nu' = \frac{(c - v)t}{\lambda t} = \frac{c - v}{\lambda} = \frac{(c - v)}{cT} = \nu \left(1 - \frac{v}{c}\right)$$

Putem astfel să exprimăm frecvența recepționată de observatorul care se apropie sau se depărtează de sursă astfel:

$$\nu' = \nu \left(1 \pm \frac{v}{c}\right)$$

unde semnul $+$ corespunde cazului când observatorul se apropie de sursă iar semnul $-$ corespunde cazului când observatorul se depărtează de sursă. Acesta este efectul Doppler.

PROBLEMA 1.19 O sursă punctiformă emite unde sonore cu frecvența ν . Să se găsească frecvențele sunetului pe care-l recepționează un observator în cazul în care sursa se apropie de observator cu viteza v . Să se găsească frecvența sunetului pe care același observator îl recepționează dacă sursă se depărtează de observator cu viteza v . Viteza sunetului în aer este c .

SOLUȚIE

Deoarece viteza de propagare a sunetului depinde numai de proprietățile mediului, în timpul unei oscilații unda se va propaga înainte cu distanța λ . Dar în timpul unei perioade și sursa se deplasează în sensul

de deplasare al undei cu vT , unde T este perioada. Atunci lungimea de undă va fi:

$$\lambda' = \lambda - vT = cT - vT = (c - v)T$$

Frecvența percepută de observator va fi:

$$\nu' = \frac{c}{\lambda'} = \frac{c}{c - v} \nu$$

Dacă sursa se depărtează de observator cu viteza v lungimea de undă va fi:

$$\lambda' = \lambda + vT = cT + vT = (c + v)T$$

Frecvența percepută de observator va fi:

$$\nu' = \frac{c}{\lambda'} = \frac{c}{c + v} \nu$$

Astfel în cazul în care sursa se apropie sau se depărtează de observator frecvența percepută de acesta este:

$$\nu' = \frac{c}{\lambda'} = \frac{c}{c \pm v} \nu$$

unde semnul $+$ corespunde cazului în care sursa se apropie de observator iar semnul $-$ corespunde cazului în care sursa se depărtează de observator.

PROBLEMA 1.20 Să se rezolve ecuația undelor

$$\frac{\partial^2 u}{\partial x^2} = \frac{1}{v^2} \frac{\partial^2 u}{\partial t^2}$$

pentru o coardă de lungime $l = 1$ care inițial este în repaus și prezintă proprietățile:

$$u(x, 0) = \begin{cases} x/5 & \text{dacă } 0 \leq x \leq 1/2 \\ (1-x)/5 & \text{dacă } 1/2 \leq x \leq 1 \end{cases}$$

SOLUȚIE

Soluția generală a ecuației undelor este o suprapunere de forma:

$$u(x, t) = \sum_{n=1}^{\infty} (A_n \cos n\pi vt + B_n \sin n\pi vt) \sin n\pi x \quad (1.80)$$

deoarece $l = 1$. Având în vedere că

$$\left[\frac{\partial u}{\partial t} \right]_{t=0} = \sum_{n=1}^{\infty} n\pi v (A_n \sin n\pi vt - B_n \cos n\pi vt)_{t=0} \sin n\pi x = 0$$

coeficienții B_n sunt nuli.

Atunci relația 1.80 devine:

$$u(x, t) = \sum_{n=1}^{\infty} A_n \cos n\pi vt \sin n\pi x \quad (1.81)$$

La momentul $t = 0$ din 1.81 se obține:

$$u(x, 0) = \sum_{n=1}^{\infty} A_n \sin n\pi x$$

Coeficienții A_n se calculează cu formulele:

$$A_n = 2 \int_0^1 u(x, 0) \sin n\pi x dx \quad (1.82)$$

Ținând seama de proprietățile funcției $u(x, 0)$ 1.82 devine:

$$A_n = \frac{2}{5} \int_0^{1/2} x \sin n\pi x dx + \frac{2}{5} \int_{1/2}^1 (1-x) \sin n\pi x dx$$

Se efectuează substituția:

$$n\pi x = \xi \quad x = \frac{\xi}{n\pi} \quad dx = \frac{d\xi}{n\pi}$$

Atunci:

$$A_n = \frac{2}{5} \int_0^{n\pi/2} \frac{\xi}{n\pi} \sin \xi \frac{d\xi}{n\pi} + \frac{2}{5} \int_{n\pi/2}^{n\pi} \left(1 - \frac{\xi}{n\pi} \right) \sin \xi \frac{d\xi}{n\pi}$$

$$A_n = \frac{2}{5(n\pi)^2} \left[\int_0^{n\pi/2} \xi \sin \xi d\xi + n\pi \int_{n\pi/2}^{n\pi} \sin \xi d\xi - \int_{n\pi/2}^{n\pi} \xi \sin \xi d\xi \right]$$

Dar

$$\int \xi \sin \xi d\xi = \sin \xi - \xi \cos \xi$$

și

$$\int \sin \xi d\xi = -\cos \xi$$

Atunci:

$$A_n = \frac{2}{5(n\pi)^2} \left[(\sin \xi - \xi \cos \xi) \Big|_0^{n\pi/2} - n\pi \cos \xi \Big|_{n\pi/2}^{n\pi} - (\sin \xi - \xi \cos \xi) \Big|_{n\pi/2}^{n\pi} \right]$$

și

$$A_n = \frac{4}{5(n\pi)^2} \sin \frac{n\pi}{2} \quad (1.83)$$

Soluția ecuației este:

$$u(x, t) = \sum_{n=1}^{\infty} \frac{4}{5(n\pi)^2} \sin \frac{n\pi}{2} \sin n\pi x \cos n\pi v t$$

PROBLEMA 1.21 Să se găsească unda rezultantă obținută prin suprapunerea a două unde care au aceeași amplitudine dar a căror lungime de undă și pulsație diferă puțin.

$$u_1(x, t) = A \sin \frac{2\pi}{\lambda_1} (x - v_1 t)$$

$$u_2(x, t) = A \sin \frac{2\pi}{\lambda_2} (x - v_2 t)$$

SOLUȚIE

Deoarece

$$k = \frac{2\pi}{\lambda} \quad \text{și} \quad \omega = 2\pi\nu = \frac{2\pi v}{\lambda}$$

$$u = u_1 + u_2 = 2A \sin \frac{k_1 x - \omega_1 t + k_2 x - \omega_2 t}{2} \cos \frac{k_1 x - \omega_1 t - k_2 x + \omega_2 t}{2}$$

$$u = 2A \sin \left[\frac{k_1 + k_2}{2}x - \frac{\omega_1 + \omega_2}{2}t \right] \cos \left[\frac{k_1 - k_2}{2}x - \frac{\omega_1 - \omega_2}{2}t \right]$$

În relația de mai sus vom introduce notațiile:

$$k_1 = k + dk \quad k_2 = k - dk$$

$$\omega_1 = \omega + d\omega \quad \omega_2 = \omega - d\omega$$

Atunci:

$$u = 2A \cos(xdk - td\omega) \sin(kx - \omega t)$$

Termenul

$$2A \cos(xdk - td\omega)$$

reprezintă amplitudinea unei progresive iar factorul de fază este:

$$\sin(kx - \omega t) = \sin \frac{2\pi}{\lambda} \left(x - \frac{\omega}{k}t \right)$$

PROBLEMA 1.22 Să se găsească legătura dintre viteza de fază și viteza de grup.

SOLUȚIE

$$v_g = \frac{d\omega}{dk} = \frac{d(v_f k)}{dk} = v_f + k \frac{dv_f}{dk}$$

Dar

$$k \frac{dv_f}{dk} = \frac{2\pi}{\lambda} \left(\frac{dv_f}{d\lambda} \frac{d\lambda}{dk} \right) = \frac{2\pi}{\lambda} \left(-\frac{2\pi}{k^2} \right) \frac{dv_f}{d\lambda}$$

$$k \frac{dv_f}{dk} = -\frac{4\pi^2}{\lambda} \frac{\lambda^2}{4\pi^2} \frac{dv_f}{d\lambda} = -\lambda \frac{dv_f}{d\lambda}$$

Atunci:

$$v_g = v_f - \lambda \frac{dv_f}{d\lambda}$$

Mărimea $dv_f/d\lambda$ măsoară dispersia cauzată de mediu. Dacă nu există dispersie, energia va fi transportată cu viteza de fază iar $v_f = v_g$.

PROBLEMA 1.23 Să se reducă ecuația undelor neomogene

$$\frac{\partial^2 u}{\partial x^2} = \frac{1}{v^2} \frac{\partial^2 u}{\partial t^2} + v(x)$$

la trei ecuații diferențiale.

SOLUȚIE

Dacă se încearcă substituția

$$u = X(x) T(t)$$

se obține:

$$T \frac{d^2 X}{dx^2} = \frac{X}{v^2} \frac{d^2 T}{dt^2} + v$$

Se observă că variabilele nu pot fi separate.

Se alege următoarea substituție:

$$u = X(x) T(t) + \gamma(x)$$

Atunci:

$$\begin{aligned} \frac{\partial u}{\partial x} &= T \frac{dX}{dx} + \frac{d\gamma}{dx} \\ \frac{\partial^2 u}{\partial x^2} &= T \frac{d^2 X}{dx^2} + \frac{d^2 \gamma}{dx^2} \end{aligned}$$

și

$$\frac{\partial^2 u}{\partial t^2} = X \frac{d^2 T}{dt^2}$$

Atunci

$$T \frac{d^2 X}{dx^2} + \frac{d^2 \gamma}{dx^2} = \frac{X}{v^2} \frac{d^2 T}{dt^2} + v(x) \quad (1.84)$$

Se alege funcția γ astfel:

$$\frac{d^2 \gamma}{dx^2} = v(x) \quad (1.85)$$

Atunci 1.84 devine:

$$T \frac{d^2 X}{dx^2} = \frac{X}{v^2} \frac{d^2 T}{dt^2}$$

Această ecuație se mai poate scrie:

$$\frac{v^2}{X} \frac{d^2 X}{dx^2} = \frac{1}{T} \frac{d^2 T}{dt^2}$$

Admițând soluții periodice se poate face o separare de variabile astfel încât:

$$\begin{aligned} \frac{d^2 X}{dx^2} + \left(\frac{\omega}{v}\right)^2 X &= 0 \\ \frac{d^2 T}{dt^2} + \omega^2 T &= 0 \end{aligned}$$

Se obțin astfel două ecuații diferențiale la care se mai poate adăuga și ecuația 1.85.

Capitolul 2

MECANICĂ ANALITICĂ

PROBLEMA 2.1 Să se scrie ecuațiile diferențiale de mișcare ale unui pendul matematic de masă m_2 și lungime l al cărui punct de suspensie de masă m_1 se deplasează orizontal (Fig. 2.1).

SOLUȚIE

Se aleg coordonatele generalizate ca fiind x – coordonata pe axa Ox a punctului cu masă m_1 și φ – unghiul făcut de firul pendului cu verticala.

$$x_1 = x \quad x_2 = x + l \sin \varphi$$

$$y_1 = 0 \quad y_2 = l \cos \varphi$$

Componentele vitezelor sunt:

$$\dot{x}_1 = \dot{x} \quad \dot{x}_2 = \dot{x} + l\dot{\varphi} \cos \varphi$$

$$\dot{y}_1 = 0 \quad \dot{y}_2 = -l\dot{\varphi} \sin \varphi$$

Energia cinetică a sistemului este:

$$E_c = \frac{m_1}{2}(\dot{x}_1^2 + \dot{y}_1^2) + \frac{m_2}{2}(\dot{x}_2^2 + \dot{y}_2^2) \quad (2.1)$$

sau

$$E_c = \frac{m_1}{2}\dot{x}^2 + \frac{m_2}{2}(\dot{x}^2 + 2l\dot{x}\dot{\varphi} \cos \varphi + \dot{\varphi}^2 l^2) \quad (2.2)$$

Energia potențială este datorată câmpului gravitațional:

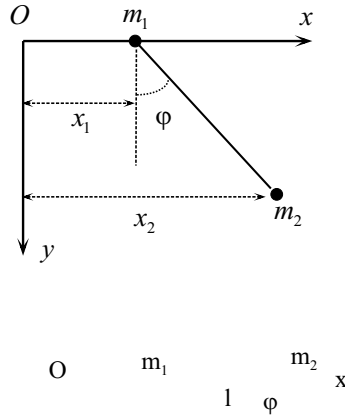


Figura 2.1: Pendul al cărui punct de suspensie se deplasează orizontal

$$E_p = -m_2 g y_2 = -m_2 g l \cos \varphi \quad (2.3)$$

Funcția lui Lagrange se obține din relațiile 2.2 și 2.3

$$L = E_c - E_p = \frac{m_1 + m_2}{2} \dot{x}^2 + \frac{m_2}{2} (\dot{\varphi}^2 l^2 + 2l\dot{x}\dot{\varphi} \cos \varphi) + m_2 g l \cos \varphi \quad (2.4)$$

Ecuatiile de mișcare sunt:

$$\frac{d}{dt} \left(\frac{\partial L}{\partial \dot{x}} \right) - \frac{\partial L}{\partial x} = 0 \quad (2.5)$$

$$\frac{d}{dt} \left(\frac{\partial L}{\partial \dot{\varphi}} \right) - \frac{\partial L}{\partial \varphi} = 0 \quad (2.6)$$

Pentru a determina forma concretă a acestor ecuații se va calcula fiecare termen separat.

$$\frac{\partial L}{\partial \dot{x}} = (m_1 + m_2) \dot{x} + m_2 l \dot{\varphi} \cos \varphi$$

$$\frac{d}{dt} \left(\frac{\partial L}{\partial \dot{x}} \right) = (m_1 + m_2) \ddot{x} + m_2 l (\ddot{\varphi} \cos \varphi - \dot{\varphi}^2 \sin \varphi)$$

Deoarece funcția lui Lagrange nu depinde de x

$$(\partial L / \partial x) = 0$$

și ecuația 2.5 devine:

$$(m_1 + m_2)\ddot{x} + m_2 l(\ddot{\varphi} \cos \varphi - \dot{\varphi}^2 \sin \varphi) = 0 \quad (2.7)$$

Ecuația 2.7 se poate integra în raport cu timpul. Se obține:

$$(m_1 + m_2)\dot{x} + m_2 l \dot{\varphi} \cos \varphi = \text{const} \quad (2.8)$$

Se observă că expresia din stânga reprezintă componenta după direcția Ox a impulsului total. Relația 2.8 exprimă conservarea componentei impulsului după axa Ox.

Pentru a obține forma concretă a ecuației 2.6 se vor calcula următoarele derivate parțiale:

$$\frac{\partial L}{\partial \dot{\varphi}} = m_2 l^2 \dot{\varphi} + m_2 l \dot{x} \cos \varphi$$

$$\frac{d}{dt} \left(\frac{\partial L}{\partial \dot{\varphi}} \right) = m_2 l^2 \ddot{\varphi} + m_2 l \ddot{x} \cos \varphi - m_2 l \dot{x} \dot{\varphi} \sin \varphi$$

$$\frac{\partial L}{\partial \varphi} = -m_2 l \dot{x} \dot{\varphi} \sin \varphi - m_2 g l \sin \varphi$$

Atunci ecuația 2.7 devine:

$$m_2 l^2 \ddot{\varphi} + m_2 l \ddot{x} \cos \varphi + m_2 g l \sin \varphi = 0 \quad (2.9)$$

Ecuațiile de mișcare sunt date de relațiile 2.7 și 2.9.

PROBLEMA 2.2 Să se determine ecuația de mișcare a unui electron în câmpul creat de un nucleu cu numărul atomic Z presupus fix (Fig. 2.2).

SOLUȚIE

Când nucleul este fix, forța de interacțiune este o forță centrală:

$$\vec{F}(r) = F(r)\vec{r}$$

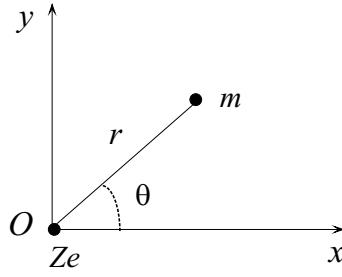


Figura 2.2: Electronul în câmpul electric al nucleului

Mișcarea are loc într-un plan. Astfel, prin derivarea egalității $\vec{l} = \vec{r} \times \vec{p}$ rezultă:

$$\frac{d\vec{l}}{dt} = \frac{d\vec{r}}{dt} \times \vec{p} + \vec{r} \times \frac{d\vec{p}}{dt} = \vec{v} \times m\vec{v} + \vec{r} \times \vec{F}(r) = 0$$

ceea ce arată că momentul cinetic se conservă. Rezultă că \vec{r} se află într-un plan care este perpendicular pe \vec{l} . Mișcarea se face într-un plan și există doar două grade de libertate. Se aleg coordonatele polare r și θ ca fiind coordonatele generalizate. Centrul O al sistemului de coordonate se consideră nucleul cu sarcina Ze . Atunci

$$x = r \cos \theta$$

$$y = r \sin \theta$$

$$\dot{x} = \dot{r} \cos \theta - r \dot{\theta} \sin \theta$$

$$\dot{y} = \dot{r} \sin \theta + r \dot{\theta} \cos \theta$$

Energia cinetică este:

$$E_c = \frac{m}{2} (\dot{x}^2 + \dot{y}^2) = \frac{m}{2} (\dot{r}^2 + r^2 \dot{\theta}^2) \quad (2.10)$$

Energia potențială se determină pornind de la faptul că forțele electrostatice sunt conservative. Deoarece

$$dE_p = -Fdr = \frac{Ze^2}{4\pi\epsilon_0 r^2} dr$$

prin integrare se obține:

$$E_p(r) = \int_{\infty}^r \frac{Ze^2}{4\pi\epsilon_0 r^2} dr = - \left. \frac{Ze^2}{4\pi\epsilon_0 r} \right|_{\infty}^r = - \frac{Ze^2}{4\pi\epsilon_0 r} \quad (2.11)$$

Funcția lui Lagrange este:

$$L = E_c - E_p = \frac{m}{2} (\dot{r}^2 + r^2 \dot{\theta}^2) + \frac{Ze^2}{4\pi\epsilon_0 r} \quad (2.12)$$

Ecuatiile de mișcare sunt:

$$\frac{d}{dt} \left(\frac{\partial L}{\partial \dot{\theta}} \right) - \frac{\partial L}{\partial \theta} = 0 \quad (2.13)$$

și

$$\frac{d}{dt} \left(\frac{\partial L}{\partial \dot{r}} \right) - \frac{\partial L}{\partial r} = 0 \quad (2.14)$$

Pentru a determina forma concretă a acestor ecuații se va calcula fiecare termen în parte.

$$\frac{\partial L}{\partial \dot{\theta}} = mr^2 \dot{\theta}; \quad \frac{d}{dt} \left(\frac{\partial L}{\partial \dot{\theta}} \right) = mr^2 \ddot{\theta} + 2mr \dot{\theta} \dot{r}$$

Deoarece L nu depinde explicit de θ

$$\frac{\partial L}{\partial \theta} = 0$$

Relația 2.13 devine:

$$mr^2 \ddot{\theta} + 2mr \dot{\theta} \dot{r} = 0 \quad (2.15)$$

Prin integrarea acestei relații se obține:

$$mr^2 \dot{\theta} = mr^2 \omega = mrv = \text{const}$$

Relația reprezintă legea de conservare a momentului cinetic.

$$l = mr^2 \dot{\theta} = mrv = \text{const} \quad (2.16)$$

Mărimea $mr^2 \dot{\theta}$ este o integrală primă a mișcării.

Pentru a obține forma concretă a ecuației 2.14 se calculează:

$$\begin{aligned}\frac{\partial L}{\partial \dot{r}} &= m\dot{r}; & \frac{d}{dt} \left(\frac{\partial L}{\partial \dot{r}} \right) &= m\ddot{r} \\ \frac{\partial L}{\partial r} &= mr\dot{\theta}^2 - \frac{Ze^2}{4\pi\epsilon_0 r^2}\end{aligned}$$

Ecuția 2.15 devine:

$$m\ddot{r} - mr\dot{\theta}^2 + \frac{Ze^2}{4\pi\epsilon_0 r^2} = 0 \quad (2.17)$$

Această ecuație poate fi scrisă doar în funcție de r . Pentru aceasta se ține cont de relațiile 2.16 și 2.17. Rezultă:

$$m\ddot{r} - \frac{l^2}{mr^3} + \frac{Ze^2}{4\pi\epsilon_0 r^2} = 0 \quad (2.18)$$

PROBLEMA 2.3

Să se demonstreze că în cazul în care L nu depinde de timp (sisteme conservative) mărimea

$$H = \sum_k \dot{q}_k \frac{\partial L}{\partial \dot{q}_k} - L \quad (2.19)$$

este o integrală primă a mișcării și reprezintă energia totală a sistemului.

SOLUȚIE

Deoarece $L = L(q_k, \dot{q}_k)$ atunci:

$$\frac{dL}{dt} = \sum_k \frac{\partial L}{\partial q_k} \frac{dq_k}{dt} + \sum_k \frac{\partial L}{\partial \dot{q}_k} \frac{d\dot{q}_k}{dt} \quad (2.20)$$

Se ține cont de ecuațiile de mișcare

$$\frac{d}{dt} \left(\frac{\partial L}{\partial \dot{q}_k} \right) - \frac{\partial L}{\partial q_k} = 0$$

și se obține:

$$\frac{dL}{dt} = \sum_k \frac{d}{dt} \left(\frac{\partial L}{\partial \dot{q}_k} \right) \dot{q}_k + \sum_k \frac{\partial L}{\partial \dot{q}_k} \frac{d\dot{q}_k}{dt}$$

sau

$$\frac{dL}{dt} = \sum_k \frac{d}{dt} \left(\frac{\partial L}{\partial \dot{q}_k} \dot{q}_k \right)$$

de unde rezultă:

$$\frac{d}{dt} \left[L - \sum_k \frac{\partial L}{\partial \dot{q}_k} \dot{q}_k \right] = 0 \quad (2.21)$$

Atunci:

$$H = \sum_k \dot{q}_k \frac{\partial L}{\partial \dot{q}_k} - L = \text{const}$$

Mărimea H poartă denumirea de hamiltonian, iar în cazul de față este o integrală primă a mișcării.

În plus:

$$\sum_k \dot{q}_k \frac{\partial L}{\partial \dot{q}_k} = \sum_k \dot{q}_k \frac{\partial E_c}{\partial \dot{q}_k} = 2E_c$$

deoarece E_c este o funcție omogenă (formă pătratică) în raport cu \dot{q}_k .

Atunci

$$H = 2E_c - L = 2E_c - E_c + E_p = E_c + E_p = \text{const}$$

Rezultă că hamiltonianul sistemului în acest caz coincide cu energia mecanică a sistemului considerat.

PROBLEMA 2.4 Pe o parabolă (Fig. 2.3) cu vârful în jos, având ca axă de simetrie verticală și care se rotește cu viteza unghiulară $\omega = \text{const}$ în jurul acestei axe, se poate mișca fără frecare un punct material de masă m . Să se determine la ce înălțime h se poate ridica punctul material dacă la momentul inițial acesta se află în vârful parabolei și are viteza v_0 .

SOLUȚIE

Problema se va discuta într-un sistem neinertial cu centrul în vârful parabolei și care se rotește odată cu aceasta.

Deoarece punctul material se poate mișca doar pe această parabolă sistemul are un singur grad de libertate. Coordonata generalizată este

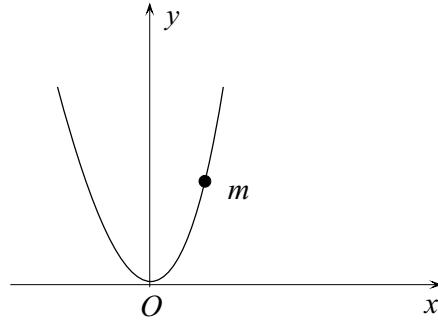


Figura 2.3: Particulă care se misca pe o parabolă

coordonata x a punctului în sistemul considerat. Ordonata punctului material este: $y = ax^2$. Aceasta reprezintă și ecuația parabolei ($a > 0$). Energia cinetică a punctului material este:

$$E_c = \frac{m}{2} (\dot{x}^2 + \dot{y}^2) = \frac{m}{2} (1 + 4a^2x^2) \dot{x}^2 \quad (2.22)$$

Mișcarea de rotație face ca asupra punctului să acționeze o forță centrifugă $F_c = m\omega^2x$. Energia potențială datorată rotației este:

$$E_{pc} = - \int_0^x F_c dx = - \int_0^x m\omega^2x dx = - \frac{m\omega^2x^2}{2} \quad (2.23)$$

Particula se află în câmp gravitațional iar energia potențială gravitațională este:

$$E_{pg} = mgy = amgx^2 \quad (2.24)$$

Energia potențială totală a punctului material este

$$E_p = E_{pc} + E_{pg} = - \frac{m\omega^2x^2}{2} + amgx^2 \quad (2.25)$$

Atunci funcția lui Lagrange este:

$$L = E_c - E_p = \frac{m}{2}(1 + 4a^2x^2)\dot{x}^2 + \frac{m\omega^2x^2}{2} - mga x^2 \quad (2.26)$$

Deoarece L nu depinde explicit de timp, hamiltonianul sistemului

$$H = \dot{x} \frac{\partial L}{\partial \dot{x}} - L \quad (2.27)$$

se conservă și reprezintă energia punctului material. Cum:

$$\frac{\partial L}{\partial \dot{x}} = m(1 + 4a^2x^2)\dot{x}$$

relația 2.27 devine:

$$H = \frac{m}{2}(1 + 4a^2x^2)\dot{x}^2 - \frac{m\omega^2x^2}{2} + gmax^2 = \text{const} \quad (2.28)$$

La momentul inițial $\dot{x} = v_0$ și $x = 0$. La momentul final $\dot{x} = 0$ (punctul material s-a oprit) și $x = x_f$.

Deoarece hamiltonianul este o mărime care se conservă valoarea lui este aceeași în starea inițială și finală. Atunci:

$$\frac{1}{2}mv_0^2 = -\frac{1}{2}m\omega^2x_f^2 + gmax_f^2 \quad (2.29)$$

de unde

$$x_f^2 = \frac{v_0^2}{2ag - \omega^2}$$

și

$$h = ax_f^2 = \frac{av_0^2}{2ag - \omega^2} \quad (2.30)$$

Dacă $\omega^2 > 2ag$ atunci expresia lui h din 2.30 nu are sens. Aceasta înseamnă că viteza punctului nu poate deveni nulă și el urcă până ajunge la marginea parabolei.

Se observă că dacă $\omega^2 < 2ag$ și $\omega^2 \rightarrow 2ag$ atunci $h \rightarrow \infty$, iar particula se deplasează la infinit pe ramura principală.

Pentru ca particula să se ridice la o înălțime finită este necesar ca $\omega^2 < 2ag$.

PROBLEMA 2.5 Un tub foarte lung aflat într-un plan vertical se rotește în jurul capătului său O , cu viteza unghiulară constantă ω (Fig. 2.4). La momentul $t = 0$ tubul se află în poziție orizontală. În interiorul tubului se mișcă fără frecare o bilă de masă m care la momentul inițial se află în punctul O . Tubul se mișcă în sensul acelor de ceasornic. Să se determine ecuația de mișcare a bilei.

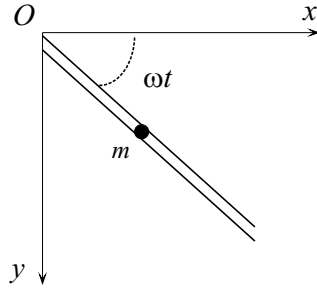


Figura 2.4: Bilă de masă m ce se mișcă într-un tub care se rotește în planul vertical Oxy în jurul punctului O

SOLUȚIE

Sistemul are un singur grad de libertate deoarece bila nu se poate mișca decât în lungul tubului. În figura 2.4 este ilustrat sistemul de coordonate ales. Coordonata generalizată este r (distanța de la punctul O la bila de masă m).

Atunci:

$$x = r \cos \omega t$$

$$y = r \sin \omega t$$

$$\dot{x} = \dot{r} \cos \omega t - r\omega \sin \omega t$$

$$\dot{y} = \dot{r} \sin \omega t + r\omega \cos \omega t$$

Energia cinetică este:

$$E_c = \frac{m}{2} (\dot{x}^2 + \dot{y}^2) = \frac{m}{2} (\dot{r}^2 + r^2 \omega^2) \quad (2.31)$$

Energia potențială este doar de natură gravitațională :

$$E_p = -mgy = -mgr \sin \omega t \quad (2.32)$$

Funcția lui Lagrange este:

$$L = E_c - E_p = \frac{m}{2} (\dot{r}^2 + r^2 \omega^2) + mgr \sin \omega t \quad (2.33)$$

iar ecuația de mișcare:

$$\frac{d}{dt} \left(\frac{\partial L}{\partial \dot{r}} \right) - \frac{\partial L}{\partial r} = 0 \quad (2.34)$$

Calculând fiecare termen în parte se obține:

$$\frac{\partial L}{\partial \dot{r}} = m\dot{r}; \quad \frac{d}{dt} \left(\frac{\partial L}{\partial \dot{r}} \right) = m\ddot{r}$$

$$\frac{\partial L}{\partial r} = mr\omega^2 + mg \sin \omega t$$

iar ecuația 2.34 devine:

$$\ddot{r} - \omega^2 r - g \sin \omega t = 0 \quad (2.35)$$

Ecuția 2.35 este o ecuație diferențială de ordinul al doilea neomogenă. Soluția generală este dată de suma dintre soluția generală a ecuației omogene și o soluție particulară a ecuației neomogene.

Ecuția omogenă este:

$$\ddot{r} - \omega^2 r = 0 \quad (2.36)$$

Cum soluțiile ecuației caracteristice $t^2 - \omega^2 = 0$ sunt $t_1 = \omega$ și $t_2 = -\omega$, soluția generală a ecuației omogene 2.36 este:

$$r = Ae^{-\omega t} + Be^{\omega t} \quad (2.37)$$

unde A și B sunt constante.

Pentru ecuația neomogenă se consideră o soluție de forma:

$$r = a \sin \omega t$$

unde a este o constantă. Înlocuind în ecuația 2.35 se obține:

$$-a\omega^2 \sin \omega t - a\omega^2 \sin \omega t - g \sin \omega t = 0 \quad (2.38)$$

Rezultă:

$$a = -\frac{g}{2\omega^2}$$

și

$$r = -\frac{g}{2\omega^2} \sin \omega t$$

Soluția generală a ecuației 2.35 este:

$$r = Ae^{-\omega t} + Be^{\omega t} - \frac{g}{2\omega^2} \sin \omega t \quad (2.39)$$

Viteza punctului material este:

$$\dot{r}(t) = -\omega Ae^{-\omega t} + \omega Be^{\omega t} - \frac{g}{2\omega} \cos \omega t$$

Constantele A și B se determină din condițiile inițiale $r(0) = 0$ și $\dot{r}(0) = 0$ (inițial corpul este în repaus). Rezultă:

$$\begin{aligned} A + B &= 0 \\ -\omega A + \omega B - \frac{g}{2\omega} &= 0 \end{aligned}$$

Prin rezolvarea acestui sistem de ecuații se obține:

$$A = -B = -\frac{g}{4\omega^2}$$

Atunci ecuația de mișcare este:

$$r = \frac{g}{4\omega^2} [e^{\omega t} - e^{-\omega t} - 2 \sin \omega t]$$

PROBLEMA 2.6 Un tub de lungime foarte mare se rotește cu viteza unghiulară ω_0 în jurul unui ax vertical cu care face un unghi θ_0 în tot cursul mișcării. Axul intersectează tubul considerat (Fig.2.5). În interiorul tubului se află o bilă de diametru aproape egal cu cel al tubului și care se mișcă în interiorul acestuia fără frecare și fără viteză inițială. Să se determine legea de mișcare a bilei.

SOLUȚIE

Alegem coordonata generalizată r – distanța din punctul O la bilă. Atunci în raport cu sistemul de coordonate din Fig. 2.5:

$$x_1 = r \sin \theta_0 \cos \omega_0 t$$

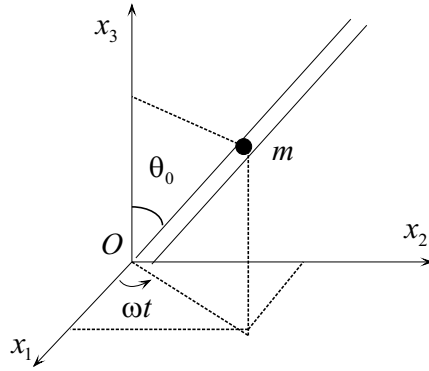


Figura 2.5: Bilă într-un tub vertical care se rotește în jurul axei Ox_3 cu viteză unghiulară constantă

$$x_2 = r \sin \theta_0 \sin \omega_0 t$$

$$x_3 = r \cos \theta_0$$

Derivatele coordonatelor în raport cu timpul sunt:

$$\dot{x}_1 = \dot{r} \sin \theta_0 \cos \omega_0 t - r \omega_0 \sin \theta_0 \sin \omega_0 t$$

$$\dot{x}_2 = \dot{r} \sin \theta_0 \sin \omega_0 t + r \omega_0 \sin \theta_0 \cos \omega_0 t$$

$$\dot{x}_3 = \dot{r} \cos \theta_0$$

Energia cinetică a bilei este:

$$E_c = \frac{m}{2} (\dot{x}_1^2 + \dot{x}_2^2 + \dot{x}_3^2) = \frac{m}{2} (\dot{r}^2 + r^2 \omega_0^2 \sin^2 \theta_0) \quad (2.40)$$

Energia potențială este de natură gravitațională și are expresia:

$$E_p = mgx_3 = mgr \cos \theta_0 \quad (2.41)$$

Funcția lui Lagrange este:

$$L = E_c - E_p = \frac{m}{2} [\dot{r}^2 + r^2 \omega_0^2 \sin^2 \theta_0] - mgr \cos \theta_0 \quad (2.42)$$

Ecuația de mișcare este:

$$\frac{d}{dt} \left(\frac{\partial L}{\partial \dot{r}} \right) - \frac{\partial L}{\partial r} = 0 \quad (2.43)$$

Calculând fiecare termen în parte se obține:

$$\frac{\partial L}{\partial \dot{r}} = m\dot{r}; \quad \frac{d}{dt} \left(\frac{\partial L}{\partial \dot{r}} \right) = m\ddot{r}$$

$$\frac{\partial L}{\partial r} = mr\omega_0^2 \sin^2 \theta_0 - mg \cos \theta_0$$

și ecuația 2.43 devine:

$$\ddot{r} - r\omega_0^2 \sin^2 \theta_0 = -g \cos \theta_0 \quad (2.44)$$

Ecuația obținută este o ecuație diferențială de ordinul doi neomogenă.
Ecuația omogenă este:

$$\ddot{r} - r\omega_0^2 \sin^2 \theta_0 = 0$$

și are ecuația caracteristică:

$$t^2 - \omega_0^2 \sin^2 \theta_0 = 0$$

cu soluțiile $t_{1,2} = \pm \omega_0 \sin \theta_0$

Astfel soluția ecuației omogene este:

$$r = Ae^{\omega_0 t \sin \theta_0} + Be^{-\omega_0 t \sin \theta_0} \quad (2.45)$$

Soluția generală o vom găsi folosind metoda variației constantelor.
Considerând A și B dependente de t , se obține:

$$\dot{A}e^{\omega_0 t \sin \theta_0} + \dot{B}e^{-\omega_0 t \sin \theta_0} = 0$$

$$\dot{A}\omega_0 \sin \theta_0 e^{\omega_0 t \sin \theta_0} - \dot{B}\omega_0 \sin \theta_0 e^{-\omega_0 t \sin \theta_0} = -g \cos \theta_0$$

Rezultă:

$$\dot{A} = -\frac{g \cos \theta_0}{2\omega_0 \sin \theta_0} \exp^{-\omega_0 t \sin \theta_0}$$

$$\dot{B} = \frac{g \cos \theta_0}{2\omega_0 \sin \theta_0} e^{\omega_0 t \sin \theta_0}$$

Astfel:

$$A = \left(\frac{g \cos \theta_0}{2\omega_0^2 \sin^2 \theta_0} e^{-\omega_0 t \sin \theta_0} + A_1 \right)$$

$$B = \left(\frac{g \cos \theta_0}{2\omega_0^2 \sin^2 \theta_0} e^{\omega_0 t \sin \theta_0} + B_1 \right)$$

Soluția generală este:

$$r = A_1 e^{\omega_0 t \sin \theta_0} + B_1 e^{-\omega_0 t \sin \theta_0} + \frac{g \cos \theta_0}{\omega_0^2 \sin^2 \theta_0} \quad (2.46)$$

Considerând că la momentul inițial $r(0) = R_0$ și $\dot{r}(0) = 0$ (bila este în repaus), rezultă că:

$$A_1 = B_1 = \frac{1}{2} \left[R_0 - \frac{g \cos \theta_0}{\omega_0^2 \sin^2 \theta_0} \right]$$

Cu condițiile inițiale de mai sus soluția ecuației de mișcare este:

$$r = \left[R_0 - \frac{g \cos \theta_0}{\omega_0^2 \sin^2 \theta_0} \right] [\operatorname{ch}(\omega_0 \sin \theta_0 t)] + \frac{g \cos \theta_0}{\omega_0^2 \sin^2 \theta_0} \quad (2.47)$$

Discuție:

a) $\theta_0 < \pi/2$

Dacă:

$$R_0 < \frac{g \cos \theta_0}{\omega_0^2 \sin^2 \theta_0}$$

r scade în timp și bila se apropie de origine.

Dacă:

$$R_0 = \frac{g \cos \theta_0}{\omega_0^2 \sin^2 \theta_0}$$

bila este în echilibru instabil în raport cu tubul.

Dacă:

$$R_0 > \frac{g \cos \theta_0}{\omega_0^2 \sin^2 \theta_0}$$

r crește în timp și bila urcă în tub.

b) $\theta_0 = \pi/2$

$$r = R_0 \operatorname{ch} \omega_0 t$$

tubul este orizontal și bila se depărtează de origine.

c) $\theta_0 > \pi/2$

Tubul este orientat în jos astfel că bila va coborî depărtându-se de origine.

PROBLEMA 2.7 Să se discute mișcarea unui punct material greu, de masă m care se deplasează, fără frecare, de-a lungul unei cicloide, aflată în plan vertical care are ecuațiile parametrice:

$$x = a(\zeta + \sin \zeta)$$

$$y = a(1 - \cos \zeta)$$

unde $\zeta \in [-\pi, \pi]$

SOLUȚIE

Se alege drept coordonata generalizată parametrul ζ .
Atunci:

$$\dot{x} = a\dot{\zeta}(1 + \cos \zeta)$$

$$\dot{y} = a\dot{\zeta} \sin \zeta$$

Energia cinetică este:

$$E_c = \frac{m}{2} (\dot{x}^2 + \dot{y}^2) = ma^2\dot{\zeta}^2 (1 + \cos \zeta) \quad (2.48)$$

iar energia potențială:

$$E_p = mgy = mga(1 - \cos \zeta) \quad (2.49)$$

Funcția lui Lagrange este:

$$L = E_c - E_p = ma^2\dot{\zeta}^2 (1 + \cos \zeta) - mga(1 - \cos \zeta) \quad (2.50)$$

sau

$$L = 2ma^2\dot{\zeta}^2 \cos^2 \frac{\zeta}{2} - 2mga \sin^2 \frac{\zeta}{2} \quad (2.51)$$

Se efectuează schimbarea de variabilă:

$$z = \sin \frac{\zeta}{2} \quad \text{și} \quad \dot{z} = \frac{\dot{\zeta}}{2} \cos \frac{\zeta}{2}$$

Atunci funcția lui Lagrange devine:

$$L = 8a^2 m \dot{z}^2 - 2mgaz^2 \quad (2.52)$$

Considerând z noua coordonată generalizată ecuația de mișcare se va scrie astfel:

$$\frac{d}{dt} \left(\frac{\partial L}{\partial \dot{z}} \right) - \frac{\partial L}{\partial z} = 0$$

Se calculează fiecare termen în parte:

$$\begin{aligned} \frac{\partial L}{\partial \dot{z}} &= 16a^2 m \dot{z}; & \frac{d}{dt} \left(\frac{\partial L}{\partial \dot{z}} \right) &= 16a^2 m \ddot{z} \\ \frac{\partial L}{\partial z} &= -4mgaz \end{aligned}$$

Atunci forma ecuației de mișcare devine:

$$4a\ddot{z} + gz = 0 \quad (2.53)$$

Ecuația obținută este o ecuație diferențială omogenă de ordinul al doilea. Soluțiile ecuației caracteristice sunt $\pm i\sqrt{g/4a}$

Soluția ecuației de mișcare se poate pune sub forma:

$$z = a_1 \sin \sqrt{\frac{g}{4a}} t + b_1 \cos \sqrt{\frac{g}{4a}} t \quad (2.54)$$

Să considerăm că la momentul inițial $\zeta = \zeta_0$ și $\dot{\zeta} = 0$. Atunci la $t = 0$, $z = z_0 = \sin(\zeta_0/2)$, $\dot{z}(0) = 0$

Ținând cont de condițiile inițiale obținem:

$$a_1 = 0$$

$$b_1 = z_0$$

Atunci relația 2.54 devine:

$$z = z_0 \cos \sqrt{\frac{g}{4a}} t = \sin \frac{\zeta_0}{2} \cos \sqrt{\frac{g}{4a}} t \quad (2.55)$$

Cum:

$$\sin \frac{\zeta}{2} = \sin \frac{\zeta_0}{2} \cos \sqrt{\frac{g}{4a}} t$$

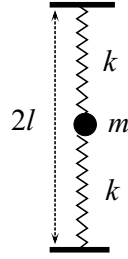


Figura 2.6: Particula ce oscilează între două resoarte

din 2.55 obținem:

$$\zeta = 2 \arcsin \left[\frac{\zeta_0}{2} \cos \sqrt{\frac{g}{4a}} t \right]$$

PROBLEMA 2.8 Să se determine perioada micilor oscilații executate de o particulă de masă m legată de două resoarte precum și legea de mișcare a acesteia (Fig. 2.6). Sistemul se află în câmp gravitațional, particula se poate mișca numai pe verticală iar lungimea nedeformată a fiecărui resort este l . La momentul inițial particula se află în repaus între cele două resoarte nedeformate.

SOLUȚIE

Alegem ca sistem de referință axa Oy cu originea în punctul de legătură cu suportul a resortului inferior. Fie y – coordonata particulei de masă m . Energia sa cinetică este:

$$E_c = \frac{m\dot{y}^2}{2} \quad (2.56)$$

Energia potențială este suma dintre energia potențială gravitațională a particulei și energia potențială a resoartelor:

$$E_p = mgy + \frac{k}{2}(y - l)^2 + \frac{k}{2}(l - y)^2 = mgy + k(y - l)^2 \quad (2.57)$$

Poziția de echilibru stabil se determină din condiția de minim a energiei potențiale:

$$\frac{dE_p}{dy} = 0 \quad (2.58)$$

Din 2.57 și 2.58 rezultă:

$$y_0 = l - \frac{mg}{2k} \quad (2.59)$$

Funcția lui Lagrange a sistemului este:

$$L = \frac{m\dot{y}^2}{2} - mgy - k(y - l)^2 \quad (2.60)$$

Se introduce o nouă coordonată:

$$z = y - y_0$$

care reprezintă deplasarea particulei față de poziția de echilibru. Atunci 2.60 devine:

$$L = \frac{m\dot{z}^2}{2} - kz^2 - mgl + \frac{3m^2g^2}{4k} \quad (2.61)$$

Ecuția de mișcare este:

$$\frac{d}{dt} \left(\frac{\partial L}{\partial \dot{z}} \right) - \frac{\partial L}{\partial z} = 0 \quad (2.62)$$

adică

$$\ddot{z} + \frac{2k}{m}z = 0$$

Aceasta este ecuația unui oscilator armonic liniar cu soluția:

$$z = A \sin(\omega t + \varphi) \quad \text{cu} \quad \omega = \sqrt{\frac{2k}{m}}$$

Rezultă:

$$y = y_0 + A \sin(\omega t + \varphi)$$

Viteza particulei este:

$$v = \dot{y} = \omega A \cos(\omega t + \varphi)$$



Figura 2.7: Particulă încărcată electric care oscilează într-un tub la capetele căruia se află sarcini de același semn cu cele a particulei

Constantele A și φ se determină din condițiile inițiale $y(0) = l$ și $v(0) = 0$.

Rezultă

$$\varphi = \frac{\pi}{2} \quad \text{și} \quad A = \frac{mg}{2k}$$

PROBLEMA 2.9 La capetele unui tub neconductor de lungime $2l$ sunt fixate două sarcini q_0 (Fig 2.7). În centrul tubului se poate mișca fără frecare o bilă de masă m încărcată cu sarcina q de același semn ca sarcinile q_0 . Să se determine pulsația micilor oscilații ale bilei.

SOLUȚIE

Se alege ca sistem de referință o axă în lungul tubului cu originea în centrul tubului. Coordonata generalizată este coordonata x la care se află particula și ea reprezintă deplasarea față de poziția de echilibru.

Energia cinetică este:

$$E_c = \frac{1}{2}m\dot{x}^2 \quad (2.63)$$

Energia potențială a particulei de masă m este datorată interacției acesteia cu sarcinile q_0 de la capetele tubului.

$$\begin{aligned} E_p &= \frac{qq_0}{4\pi\epsilon_0} \frac{1}{l-x} + \frac{qq_0}{4\pi\epsilon_0} \frac{1}{l+x} = \frac{qq_0}{4\pi\epsilon_0} \left(\frac{1}{l-x} + \frac{1}{l+x} \right) \\ E_p &= \frac{qq_0}{4\pi\epsilon_0} \frac{2l}{l^2 - x^2} = \frac{qq_0}{2\pi\epsilon_0 l} \left(\frac{1}{1 - (x^2/l^2)} \right) \end{aligned} \quad (2.64)$$

Considerând cazul micilor oscilații ($x \ll l$) se obține pentru expresia energiei potențiale:

$$E_p \simeq \frac{qq_0}{2\pi\epsilon_0 l} \left(1 + \frac{x^2}{l^2}\right) \quad (2.65)$$

Funcția lui Lagrange este:

$$L = E_c - E_p = \frac{1}{2}m\dot{x}^2 - \frac{qq_0}{2\pi\epsilon_0 l} \left(1 + \frac{x^2}{l^2}\right) \quad (2.66)$$

Ecuția de mișcare poate fi pusă sub forma:

$$\frac{d}{dt} \left(\frac{\partial L}{\partial \dot{x}} \right) - \frac{\partial L}{\partial x} = 0$$

Calculând pe rând fiecare termen din ecuația de mișcare se obține:

$$\ddot{x} + \frac{qq_0}{m\pi\epsilon_0 l^3} x = 0 \quad (2.67)$$

Relația 2.67 este ecuația unui oscilator armonic liniar cu pulsația:

$$\omega = \sqrt{\frac{qq_0}{m\pi\epsilon_0 l^3}}$$

Ecuția de mișcare este:

$$y = A \sin \omega t + B \cos \omega t$$

unde A și B sunt constante care se determină din condițiile inițiale.

PROBLEMA 2.10 Să se găsească frecvența oscilațiilor unui corp de masă m ce se poate deplasa pe o dreaptă și este fixat de un resort a cărui extremitate este fixată într-un punct A la o distanță l de dreaptă (Fig. 2.8). Când lungimea resortului este egală cu l el este solicitat de o forță F .

SOLUȚIE

Considerăm coordonata generalizată ca fiind x – deplasarea corpului față de punctul O . Energia cinetică a acestuia este:

$$E_c = \frac{m\dot{x}^2}{2} \quad (2.68)$$

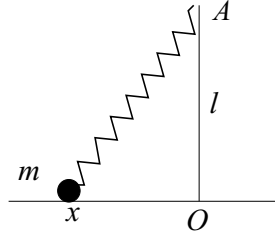


Figura 2.8: Corp legat de un resort care oscilează pe o dreaptă orizontală

iar energia potențială este:

$$E_p = F \Delta l \quad (2.69)$$

unde Δl este alungirea resortului considerată foarte mică. Atunci:

$$\Delta l = \sqrt{l^2 + x^2} - l = l \sqrt{1 + \frac{x^2}{l^2}} - l \simeq l \left(1 + \frac{1}{2} \frac{x^2}{l^2} \right) - l = \frac{1}{2} \frac{x^2}{l}$$

Astfel relația 2.69 devine:

$$E_p = \frac{F x^2}{2l} \quad (2.70)$$

Funcția lui Lagrange este:

$$L = \frac{m \dot{x}^2}{2} - \frac{F x^2}{2l} \quad (2.71)$$

Ecuția de mișcare este:

$$\frac{d}{dt} \left(\frac{\partial L}{\partial \dot{x}} \right) - \frac{\partial L}{\partial x} = 0 \quad (2.72)$$

Rezultă:

$$\ddot{x} + \frac{F}{ml} x = 0 \quad (2.73)$$

Relația 2.73 este ecuația unui oscilator armonic liniar cu pulsația:

$$\omega = \sqrt{\frac{F}{ml}}$$

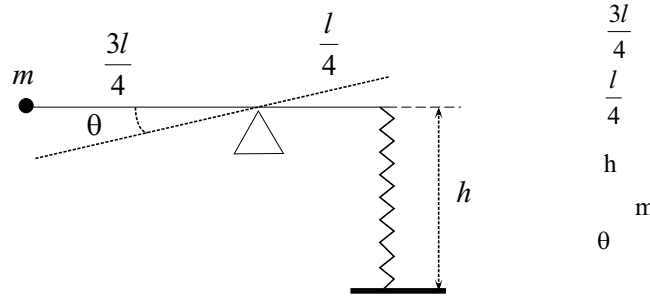


Figura 2.9: Bara care la un capăt este legată de un resort iar la celălalt capăt are un corp de masă m care oscilează

PROBLEMA 2.11 Să se găsească perioada micilor oscilații ale sistemului din Fig. 2.9. Bara de lungime l are o masă neglijabilă. Lungimea resortului nedeformat este h .

SOLUȚIE

Alegem coordonata generalizată ca fiind θ – unghiul de înclinare al barei față de orizontală. Energia cinetică este:

$$E_c = \frac{mv^2}{2} = \frac{m}{2} \left(\frac{3l}{4} \dot{\theta} \right)^2 = \frac{m}{2} \left(\frac{3l}{4} \right)^2 \dot{\theta}^2 \quad (2.74)$$

Energia potențială este dată de suma dintre energia potențială gravitațională și cea elastică. Valoarea de zero a energiei potențiale gravitaționale se poate alege în poziția în care bara este orizontală.

$$E_p = \frac{k}{2} \left(\frac{l}{4} \theta \right)^2 - mg \frac{3l}{4} \theta \quad (2.75)$$

unde k este constanta de elasticitate.

În expresia de mai sus s-a considerat de la început că θ este mic. Poziția de echilibru a sistemului se determină prin punerea condiției ca energia potențială să fie minimă:

$$\left. \frac{dE_p}{d\theta} \right|_{\theta_0} = 0$$

adică

$$\frac{l^2}{16}k\theta_0 - mg\frac{3l}{4} = 0$$

Rezultă:

$$\theta_0 = \frac{12mg}{kl} \quad (2.76)$$

Introducând schimbarea de variabilă:

$$\varphi = \theta - \theta_0 \quad (2.77)$$

unde φ reprezintă deplasarea unghiulară a barei față de poziția de echilibru, expresiile 2.74 și 2.75 care reprezintă energiile cinetică, respectiv potențială devin:

$$E_c = \frac{m}{2} \left(\frac{3l}{4} \right)^2 \dot{\theta}^2 = \frac{m}{2} \left(\frac{3l}{4} \right)^2 \dot{\varphi}^2 \quad (2.78)$$

$$E_p = \frac{k}{2} \left(\frac{l}{4} \right)^2 (\varphi + \theta_0)^2 - mg\frac{3l}{4}(\varphi + \theta_0) = \frac{kl^2}{32}\varphi^2 - \frac{9m^2g^2}{2k} \quad (2.79)$$

Funcția lui Lagrange se poate scrie astfel:

$$L = E_c - E_p = \frac{m}{2} \left(\frac{3l}{4} \right)^2 \dot{\varphi}^2 - \frac{kl^2}{32}\varphi^2 \quad (2.80)$$

deoarece termenul constant din energia potențială se poate omite.

Ecuția de mișcare este:

$$\frac{d}{dt} \left(\frac{\partial L}{\partial \dot{\varphi}} \right) - \frac{\partial L}{\partial \varphi} = 0 \quad (2.81)$$

Rezultă:

$$\ddot{\varphi} + \frac{k}{9m}\varphi = 0$$

Se obține ecuația unui oscilator armonic liniar cu pulsația:

$$\omega = \sqrt{\frac{k}{9m}}$$

PROBLEMA 2.12 Să se determine frecvența oscilațiilor unui pendul al cărui punct de suspensie de masă m se poate deplasa orizontal.

SOLUȚIE

Utilizăm rezultatele obținute în problema 2.1. Ecuatiile de mișcare sunt:

$$(m_1 + m_2)\dot{x} + m_2l(\ddot{\varphi} \cos \varphi - \dot{\varphi}^2 \sin \varphi) = 0 \quad (2.82)$$

$$m_2l^2\ddot{\varphi} + (m_2l \cos \varphi)\ddot{x} + m_2gl \sin \varphi = 0 \quad (2.83)$$

Deoarece se studiază cazul micilor oscilații unghiul φ este mic și se vor folosi aproximațiile:

$$\sin \varphi \simeq \varphi; \quad \cos \varphi \simeq 1$$

În plus se neglijează produsele în care apar puteri mai mari ca 2 ale lui φ .

Atunci ecuațiile 2.82 și 2.83 devin:

$$(m_1 + m_2)\ddot{x} + m_2l\ddot{\varphi} = 0 \quad (2.84)$$

$$l\ddot{\varphi} + \ddot{x} + g\varphi = 0 \quad (2.85)$$

Din relația 2.84 rezultă

$$\ddot{x} = -\frac{m_2l}{m_1 + m_2}\ddot{\varphi}$$

Introducând expresia lui \ddot{x} în 2.85 se obține ecuația:

$$\ddot{\varphi} + \frac{g(m_1 + m_2)}{m_1l}\varphi = 0$$

care este ecuația unui oscilator armonic liniar cu pulsația:

$$\omega = \sqrt{\frac{g(m_1 + m_2)}{m_1l}}$$

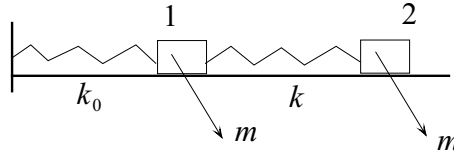


Figura 2.10: Sistem format din două resoarte și două corpuri care oscilează într-un plan orizontal.

PROBLEMA 2.13 Să se determine ecuațiile de mișcare pentru sistemul format din două mase $m_1 = m_2 = m$ și două resoarte cu constantele elastice $k_1 = k_2 = k$ (Fig. 2.10). Ambele resoarte nedeformate au o lungime egală cu l_0 .

SOLUȚIE

Dacă se notează cu x_1 și x_2 coordonatele celor două corpuri energia cinetică a sistemului este:

$$E_c = \frac{m_1 \dot{x}_1^2}{2} + \frac{m_2 \dot{x}_2^2}{2} \quad (2.86)$$

Energia potențială este determinată de deformarea resorturilor

$$E_p = \frac{k_1}{2} (x_1 - l_0)^2 + \frac{k_2}{2} (x_2 - x_1 - l_0)^2 \quad (2.87)$$

Introducând schimbarea de variabile:

$$\eta_1 = x_1 - l_0$$

$$\eta_2 = x_2 - 2l_0$$

relațiile 2.86 și 2.87 devin:

$$E_c = \frac{m_1 \dot{\eta}_1^2}{2} + \frac{m_2 \dot{\eta}_2^2}{2} \quad (2.88)$$

$$E_p = \frac{k_1}{2} \eta_1^2 + \frac{k_2}{2} (\eta_2 - \eta_1)^2 \quad (2.89)$$

Funcția lui Lagrange este:

$$L = \frac{m_1 \dot{\eta}_1^2}{2} + \frac{m_2 \dot{\eta}_2^2}{2} - \frac{k_1}{2} \eta_1^2 - \frac{k_2}{2} (\eta_2 - \eta_1)^2 \quad (2.90)$$

Ecuatiile de mișcare sunt determinate dacă se rezolvă ecuațiile Lagrange:

$$\frac{d}{dt} \left(\frac{\partial L}{\partial \dot{\eta}_1} \right) - \frac{\partial L}{\partial \eta_1} = 0$$

$$\frac{d}{dt} \left(\frac{\partial L}{\partial \dot{\eta}_2} \right) - \frac{\partial L}{\partial \eta_2} = 0$$

Acestea devin:

$$m_1 \ddot{\eta}_1 + k_1 \eta_1 - k_2 (\eta_2 - \eta_1) = 0 \quad (2.91)$$

$$m_2 \ddot{\eta}_2 + k_2 (\eta_2 - \eta_1) = 0 \quad (2.92)$$

Pentru rezolvarea acestui sistem de ecuații diferențiale se aleg η_1 și η_2 de forma:

$$\eta_1 = A_1 \sin(\omega t + \phi)$$

$$\eta_2 = A_2 \sin(\omega t + \phi)$$

Prin introducerea acestor expresii în relațiile 2.91 și 2.92 se obține sistemul omogen:

$$(k_1 + k_2 - m_1 \omega^2) A_1 - k_2 A_2 = 0$$

$$-k_2 A_1 + (k_2 - m_2 \omega^2) A_2 = 0$$

Sistemul este compatibil dacă determinantul său este nul.

$$\begin{vmatrix} k_1 + k_2 - m_1 \omega^2 & -k_2 \\ -k_2 & k_2 - m_2 \omega^2 \end{vmatrix} = 0$$

Se obține astfel ecuația bipătrată:

$$m_1 m_2 \omega^4 - [(m_1 + m_2) k_2 + m_2 k_1] \omega^2 + k_1 k_2 = 0$$

În cazul considerat $m_1 = m_2 = m$ și $k_1 = k_2 = k$. Soluțiile ecuației de mai sus sunt:

$$\omega_1^2 = \frac{3 + \sqrt{5}}{2} \frac{k}{m}$$

$$\omega_2^2 = \frac{3 - \sqrt{5}}{2} \frac{k}{m}$$

În cazul când $\omega = \omega_1$ soluțiile sistemului algebric sunt:

$$A_1 = A$$

$$A_2 = \frac{1 + \sqrt{5}}{2} A$$

unde A este o constantă.

În cazul când $\omega = \omega_2$ soluțiile sistemului algebric sunt

$$A_1 = B$$

$$A_2 = \frac{1 - \sqrt{5}}{2} B$$

unde B este o constantă.

Atunci:

$$\eta_1 = A \sin(\omega_1 t + \phi_1) + B \sin(\omega_2 t + \phi_2)$$

$$\eta_2 = \frac{1 + \sqrt{5}}{2} A \sin(\omega_1 t + \phi_1) + \frac{1 - \sqrt{5}}{2} B \sin(\omega_2 t + \phi_2)$$

Constantele A , B , ϕ_1 și ϕ_2 se determină din condițiile inițiale.

PROBLEMA 2.14 Să se determine funcția lui Lagrange în cazul unui pendul dublu, format din două pendule suspendate unul de celălalt cu masele m_1 respectiv m_2 și lungimile l_1 și l_2 (Fig. ??). Pentru cazul particular când tije au lungimi egale să se determine pulsațiile micilor oscilații iar în cazul maselor egale să se determine și ecuațiile de mișcare.

SOLUȚIE

Se aleg drept coordonate generalizate unghiurile de deviație ale celor două pendule față de verticală θ_1 și θ_2 . Atunci coordonatele maselor m_1 și m_2 sunt:

$$x_1 = l_1 \sin \theta_1$$

$$y_1 = -l_1 \cos \theta_1$$

$$x_2 = l_1 \sin \theta_1 + l_2 \sin \theta_2$$

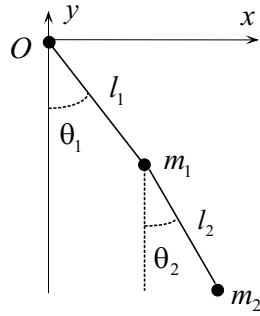


Figura 2.11: Pendulul dublu

$$y_2 = -l_1 \cos \theta_1 - l_2 \cos \theta_2$$

Derivatele în raport cu timpul ale acestor coordonate sunt:

$$\dot{x}_1 = l_1 \dot{\theta}_1 \cos \theta_1$$

$$\dot{y}_1 = l_1 \dot{\theta}_1 \sin \theta_1$$

$$\dot{x}_2 = l_1 \dot{\theta}_1 \cos \theta_1 + l_2 \dot{\theta}_2 \cos \theta_2$$

$$\dot{y}_2 = l_1 \dot{\theta}_1 \sin \theta_1 + l_2 \dot{\theta}_2 \sin \theta_2$$

Energia cinetică totală este suma energiilor cinetice ale celor două particule

$$E_c = E_{c1} + E_{c2} \quad (2.93)$$

unde

$$E_{c1} = \frac{m_1 (\dot{x}_1^2 + \dot{y}_1^2)}{2} = \frac{m_1 l_1^2 \dot{\theta}_1^2}{2} \quad (2.94)$$

și

$$E_{c2} = \frac{m_2 (\dot{x}_2^2 + \dot{y}_2^2)}{2} = \frac{m_2}{2} \left[l_1^2 \dot{\theta}_1^2 + l_2^2 \dot{\theta}_2^2 + 2l_1 l_2 \dot{\theta}_1 \dot{\theta}_2 \cos (\theta_2 - \theta_1) \right] \quad (2.95)$$

Energia potențială este:

$$E_p = -m_1 g l_1 \cos \theta_1 - m_2 g (l_1 \cos \theta_1 + l_2 \cos \theta_2) \quad (2.96)$$

Atunci funcția lui Lagrange este:

$$\begin{aligned} L = & \frac{m_1 + m_2}{2} l_1^2 \dot{\theta}_1^2 + \frac{m_2}{2} l_2^2 \dot{\theta}_2^2 + m_2 l_1 l_2 \dot{\theta}_1 \dot{\theta}_2 \cos(\theta_2 - \theta_1) + \\ & + (m_1 + m_2) g l_1 \cos \theta_1 + m_2 g l_2 \cos \theta_2 \end{aligned} \quad (2.97)$$

În cazul în care θ_1 și θ_2 sunt foarte mici sinusurile se pot aproxima cu unghiurile iar $\cos \theta \simeq 1 - 2 \sin^2 \theta/2$. Atunci relația 2.97 devine:

$$\begin{aligned} L = & \frac{m_1 + m_2}{2} l_1^2 \dot{\theta}_1^2 + \frac{m_2}{2} l_2^2 \dot{\theta}_2^2 + m_2 l_1 l_2 \dot{\theta}_1 \dot{\theta}_2 - \\ & - \frac{(m_1 + m_2) g l_1 \theta_1^2}{2} - \frac{m_2 g l_2 \theta_2^2}{2} + (m_1 + m_2) g l_1 + m_2 g l_2 \end{aligned} \quad (2.98)$$

Din

$$\frac{d}{dt} \left(\frac{\partial L}{\partial \dot{\theta}_1} \right) - \frac{\partial L}{\partial \theta_1} = 0$$

și

$$\frac{d}{dt} \left(\frac{\partial L}{\partial \dot{\theta}_2} \right) - \frac{\partial L}{\partial \theta_2} = 0$$

rezultă:

$$l_1 (m_1 + m_2) \ddot{\theta}_1 + l_2 m_2 \ddot{\theta}_2 + (m_1 + m_2) g \theta_1 = 0 \quad (2.99)$$

respectiv

$$l_2 m_2 \ddot{\theta}_2 + l_1 m_2 \ddot{\theta}_1 + m_2 g \theta_2 = 0 \quad (2.100)$$

Dacă se consideră cazul $l_1 = l_2 = l$ ecuațiile 2.99 și 2.100 devin:

$$\begin{aligned} l (m_1 + m_2) \ddot{\theta}_1 + l m_2 \ddot{\theta}_2 + (m_1 + m_2) g \theta_1 &= 0 \\ l m_2 \ddot{\theta}_1 + l m_2 \ddot{\theta}_2 + m_2 g \theta_2 &= 0 \end{aligned}$$

Dacă pentru acest sistem se aleg soluții de forma:

$$\theta_1 = A_1 \sin(\omega t + \gamma)$$

$$\theta_2 = A_2 \sin(\omega t + \gamma)$$

se obține următorul sistem omogen:

$$(m_1 + m_2) \left(\frac{g}{l} - \omega^2 \right) A_1 - m_2 \omega^2 A_2 = 0$$

$$-m_2\omega^2 A_1 + m_2 \left(\frac{g}{l} - \omega^2 \right) A_2 = 0$$

Pentru ca sistemul să aibă soluții nebanale determinantul său trebuie să fie egal cu zero:

$$\begin{vmatrix} (m_1 + m_2) \left(\frac{g}{l} - \omega^2 \right) & m_2\omega^2 \\ -m_2\omega^2 & m_2 \left(\frac{g}{l} - \omega^2 \right) \end{vmatrix} = 0$$

Rezultă ecuația:

$$\omega^4 - 2 \left(1 + \frac{m_2}{m_1} \right) \frac{g}{l} \omega^2 + \left(1 + \frac{m_2}{m_1} \right) \left(\frac{g}{l} \right)^2 = 0 \quad (2.101)$$

Soluțiile ecuației 2.101 sunt:

$$(\omega^2)_{12} = \left(1 + \frac{m_2}{m_1} \right) \frac{g}{l} \pm \sqrt{\frac{m_2}{m_1} \left(1 + \frac{m_2}{m_1} \right) \frac{g}{l}} \quad (2.102)$$

Pentru $m_1 = m_2 = m$ soluțiile ecuației devin:

$$\begin{aligned} \omega_1^2 &= (2 + \sqrt{2}) \frac{g}{l} \\ \omega_2^2 &= (2 - \sqrt{2}) \frac{g}{l} \end{aligned}$$

Pentru $\omega = \omega_1$ prin rezolvarea sistemului de ecuații algebrice se obține $A_1 = A$ și $A_2 = -\sqrt{2}A$. Pentru $\omega = \omega_2$, $A_1 = B$ iar $A_2 = \sqrt{2}B$

Atunci expresiile pentru θ_1 și θ_2 sunt:

$$\theta_1 = A \sin(\omega_1 t + \gamma_1) + B \sin(\omega_2 t + \gamma_2)$$

$$\theta_2 = -\sqrt{2}A \sin(\omega_1 t + \gamma_1) + \sqrt{2}B \sin(\omega_2 t + \gamma_2)$$

unde constantele A , B , γ_1 , și γ_2 se determină din condițiile inițiale.

PROBLEMA 2.15 O particulă de masă m se mișcă în lungul axei Ox într-un câmp pentru care hamiltonianul este dat de expresia:

$$H = \frac{1}{2m} p^2 - F_0 t x$$

unde F_0 este o constantă. Să se utilizeze ecuația Hamilton - Jacobi pentru a obține legea de mișcare. Se va presupune că $x(0) = x_0$ și $v(0) = v_0$.

SOLUȚIE

Ecuția Hamilton - Jacobi este:

$$\frac{\partial S}{\partial t} + \frac{1}{2m} \left(\frac{\partial S}{\partial x} \right)^2 - F_0 t x = 0 \quad (2.103)$$

Deoarece nu putem separa variabilele iar energia potențială depinde doar liniar de x , se va căuta o integrală de forma:

$$S = f(t)x + g(t) \quad (2.104)$$

Atunci ecuația 2.103 devine:

$$x \left[\dot{f}(t) - F_0 t \right] + \dot{g} + \frac{1}{2m} f^2 = 0 \quad (2.105)$$

Ecuția 2.105 trebuie satisfăcută pentru orice x . Acest lucru implică satisfacerea simultană a ecuațiilor

$$\dot{f}(t) - F_0 t = 0 \quad (2.106)$$

și

$$\dot{g} + \frac{1}{2m} f^2 = 0 \quad (2.107)$$

Soluția ecuației 2.106 este:

$$f = \frac{1}{2} F_0 t^2 + a \quad (2.108)$$

unde a este o constantă

Soluția ecuației 2.107 este:

$$g = -\frac{1}{2m} \left[\frac{F_0^2 t^5}{20} + \frac{F_0 a t^3}{3} + a^2 t \right] \quad (2.109)$$

Atunci funcția S se poate scrie:

$$S = \left(\frac{1}{2} F_0 t^2 + a \right) x - \frac{1}{2m} \left[\frac{F_0^2 t^5}{20} + \frac{F_0 a t^3}{3} + a^2 t \right] \quad (2.110)$$

De aici rezultă o nouă constantă b :

$$b = \frac{\partial S}{\partial a} = x - \frac{1}{6m} F_0 t^3 - \frac{at}{m}$$

Atunci legea de mișcare este:

$$x = b + \frac{1}{6m}F_0t^3 + \frac{at}{m} \quad (2.111)$$

iar impulsul asociat coordonatei x este:

$$p = \frac{\partial S}{\partial x} = \frac{1}{2}F_0t^2 + a \quad (2.112)$$

Pentru determinarea constantelor se ține cont de condițiile inițiale. Deoarece la $t = 0$, $x = x_0$ rezultă $x_0 = b$ iar din faptul că la $t = 0$, $v = v_0$ rezultă $mv_0 = a$.

Legea de mișcare este:

$$x = x_0 + v_0t + \frac{1}{6m}F_0t^3$$

$$p = mv_0 + \frac{1}{2}F_0t^2$$

PROBLEMA 2.16 Pentru ce valori ale parametrilor a și b transformarea:

$$Q = q^a \cos bp, \quad P = q^a \sin bp$$

este canonică? Determinați funcția generatoare în cazul că funcția este complet canonică.

SOLUȚIE

Pentru aceasta este necesar ca:

$$\{P, Q\}_{p,q} = \frac{\partial P}{\partial p} \frac{\partial Q}{\partial q} - \frac{\partial Q}{\partial p} \frac{\partial P}{\partial q} = 1 \quad (2.113)$$

Se vor calcula derivatele parțiale:

$$\frac{\partial Q}{\partial q} = aq^{a-1} \cos bp$$

$$\frac{\partial Q}{\partial p} = -q^a b \sin bp$$

$$\begin{aligned}\frac{\partial P}{\partial q} &= aq^{a-1} \sin bp \\ \frac{\partial P}{\partial p} &= q^a b \cos bp\end{aligned}$$

Cu aceste valori paranteza Poisson $\{P, Q\}_{p,q}$ devine:

$$\{P, Q\}_{p,q} = baq^{2a-1} \quad (2.114)$$

Ținând cont de 2.113 rezultă că $a = 1/2$ iar $b = 2$
Astfel transformarea canonică devine:

$$Q = \sqrt{q} \cos 2p \quad (2.115)$$

$$P = \sqrt{q} \sin 2p \quad (2.116)$$

Condiția de canonicitate se scrie:

$$pdq - (H - \tilde{H})dt - PdQ = dF$$

Deoarece transformarea este complet canonică $H = \tilde{H}$ și rezultă

$$pdq - PdQ = dF \quad (2.117)$$

Deoarece

$$dQ = \frac{1}{2\sqrt{q}} \cos 2p dq - 2\sqrt{q} \sin 2p dp$$

din 2.117 rezultă:

$$dF = pdq - \frac{\sin 2p \cos 2p dq}{2} + 2q \sin^2 2p dp \quad (2.118)$$

De aici se obțin ecuațiile:

$$\frac{\partial F}{\partial q} = p - \frac{\sin 4p}{4} \quad (2.119)$$

$$\frac{\partial F}{\partial p} = 2q \sin^2 2p \quad (2.120)$$

Prin integrarea celor două ecuații rezultă:

$$F = q \left(p - \frac{\sin 4p}{4} \right)$$

PROBLEMA 2.17 Să se demonstreze că transformarea:

$$X = \frac{1}{\sqrt{2m\omega}}(m\omega x + ip)e^{i\omega t}$$

$$P = \frac{i}{\sqrt{2m\omega}}(m\omega x - ip)e^{-i\omega t}$$

este o transformare canonică și să se determine funcția generatoare F .

SOLUȚIE

Pentru a demonstra canonicitatea transformării este necesar să se arate că:

$$\{P, X\}_{p,x} = \frac{\partial P}{\partial p} \frac{\partial X}{\partial x} - \frac{\partial P}{\partial x} \frac{\partial X}{\partial p} = 1 \quad (2.121)$$

Pentru aceasta se calculează derivatele parțiale

$$\frac{\partial X}{\partial x} = \frac{m\omega e^{i\omega t}}{\sqrt{2m\omega}}$$

$$\frac{\partial X}{\partial p} = \frac{ie^{i\omega t}}{\sqrt{2m\omega}}$$

$$\frac{\partial P}{\partial x} = \frac{im\omega e^{-i\omega t}}{\sqrt{2m\omega}}$$

$$\frac{\partial P}{\partial p} = \frac{e^{-i\omega t}}{\sqrt{2m\omega}}$$

care introduse în relația 2.121 o satisfac.

$$\{P, X\}_{p,x} = \frac{m\omega}{2m\omega} - \frac{i^2 m\omega}{2m\omega} = 1$$

Rezultă că transformarea este canonică.

Din condiția de canonicitate a transformării:

$$pdx - (H - \tilde{H})dt - PdX = dF \quad (2.122)$$

rezultă:

$$p = \frac{\partial F}{\partial x} \quad (2.123)$$

$$P = -\frac{\partial F}{\partial X} \quad (2.124)$$

Din relația:

$$X = \frac{1}{\sqrt{2m\omega}}(m\omega x + ip)e^{i\omega t}$$

rezultă:

$$p = im\omega x - i\sqrt{2m\omega}Xe^{-i\omega t} \quad (2.125)$$

Ținând cont de relația 2.123 se obține:

$$\frac{\partial F}{\partial x} = im\omega x - i\sqrt{2m\omega}Xe^{-i\omega t} \quad (2.126)$$

Pentru a obține $P = P(x, X)$, în relația

$$P = \frac{i}{2m\omega}(m\omega x - ip)e^{-i\omega t}$$

se substitue p dat de 2.125. Se obține:

$$P = i\sqrt{2m\omega}xe^{-i\omega t} - iXe^{-2i\omega t} = -\frac{\partial F}{\partial X} \quad (2.127)$$

Prin integrarea ecuațiilor 2.126 și 2.127 se obține pentru funcția generatoare expresia:

$$F = \frac{im\omega x^2}{2} - i\sqrt{2m\omega}e^{-i\omega t}Xx + \frac{iX^2}{2}e^{-2i\omega t} \quad (2.128)$$

PROBLEMA 2.18 Să se arate că pentru un sistem cu un singur grad de libertate, o rotație în spațiul fazelor

$$Q = q \cos \alpha - p \sin \alpha$$

$$P = q \sin \alpha + p \cos \alpha$$

este o transformare canonică și să se determine funcția generatoare a transformării.

SOLUȚIE

Condiția de canonicitate este:

$$\{P, Q\}_{p,q} = \frac{\partial P}{\partial p} \frac{\partial Q}{\partial q} - \frac{\partial P}{\partial q} \frac{\partial Q}{\partial p} = 1 \quad (2.129)$$

Se calculează derivatele parțiale:

$$\frac{\partial Q}{\partial p} = -\sin \alpha$$

$$\frac{\partial P}{\partial q} = \sin \alpha$$

$$\frac{\partial Q}{\partial q} = \cos \alpha$$

$$\frac{\partial P}{\partial p} = \cos \alpha$$

Înlocuind aceste derivate în expresia 2.129 aceasta este satisfăcută.

Din condiția de canonicitate:

$$pdq - PdQ - (H - \tilde{H})dt = dF$$

rezultă

$$p = \frac{\partial F}{\partial q}$$

$$P = -\frac{\partial F}{\partial Q}$$

Din relațiile de definiție a transformării vom exprima $p = p(q, Q)$ și $P = P(q, Q)$. Se obține

$$P = \frac{q}{\sin \alpha} - Q \operatorname{ctg} \alpha = \frac{\partial F}{\partial Q} \quad (2.130)$$

$$p = q \operatorname{ctg} \alpha - \frac{Q}{\sin \alpha} = \frac{\partial F}{\partial q} \quad (2.131)$$

Prin integrarea ecuațiilor 2.130 și 2.131 se obține funcția generatoare

$$F = \frac{1}{2}(q^2 + Q^2) \operatorname{ctg}^2 \alpha - \frac{qQ}{\sin \alpha}$$

Capitolul 3

TERMODINAMICĂ

PROBLEMA 3.1 a) Să se demonstreze că în cazul unui proces adiabatic aplicat unui gaz ideal este adevărată relația:

$$pV^\gamma = \text{const} \quad (3.1)$$

b) Să se calculeze lucrul mecanic efectuat în cursul unui astfel de proces, când gazul trece din starea caracterizată prin parametri p_1 , V_1 , T_1 în starea caracterizată prin parametri p_2 , V_2 , T_2 .

SOLUȚIE

a) Se utilizează principiul I al termodinamicii:

$$dU = \delta Q - pdV \quad (3.2)$$

în care $dU = \nu C_V dT$ și $\delta Q = 0$ deoarece procesul este adiabatic.

Atunci relația 3.2 devine:

$$\nu C_V dT = -pdV \quad (3.3)$$

Cum pentru gazul ideal ecuația termică de stare este $pV = \nu RT$, unde ν este numărul de kmoli, relația 3.3 devine:

$$\nu C_V dT = -\nu RT \frac{dV}{V} \quad (3.4)$$

Prin integrarea acestei relații se obține:

$$\frac{C_V}{R} \ln T = -\ln V + a \quad (3.5)$$

unde a este o constantă. Cum relația Robert-Mayer pentru gazul ideal este $C_p = C_V + R$ și $\gamma = C_p/C_V$ rezultă:

$$C_V = \frac{R}{\gamma - 1} \quad (3.6)$$

Astfel din relația 3.5 se obține:

$$TV^{\gamma-1} = \text{const} \quad (3.7)$$

Substituind p din ecuația termică de stare rezultă:

$$pV^\gamma = \text{const} \quad (3.8)$$

b)

$$L = \int_{V_1}^{V_2} p dV \quad (3.9)$$

unde $p = \text{const}/V^\gamma$. Atunci:

$$L = \int_{V_1}^{V_2} \text{const} \frac{dV}{V^\gamma} = -\text{const} \frac{V_2^{-\gamma+1} - V_1^{-\gamma+1}}{\gamma - 1} \quad (3.10)$$

Deoarece $p_1 V_1^\gamma = p_2 V_2^\gamma = \text{const}$, se obține

$$L = -\frac{p_2 V_2 - p_1 V_1}{\gamma - 1} \quad (3.11)$$

PROBLEMA 3.2 Un gaz ideal trece din starea caracterizată de parametri p_1 , V_1 în starea caracterizată de parametri p_2 , V_2 printr-un proces descris de ecuația

$$p = a - bV \quad (3.12)$$

unde a și b sunt constante pozitive.

a) Să se calculeze lucrul mecanic efectuat de gaz în cursul acestui proces.

b) Să se stabilească dependența temperaturii de presiune.

SOLUȚIE

a) Avem

$$L = \int_{V_1}^{V_2} p dV = \int_{V_1}^{V_2} (a - bV) dV$$

$$L = a(V_2 - V_1) - b \frac{(V_2^2 - V_1^2)}{2} \quad (3.13)$$

b) Se elimină V din ecuația termică de stare ($pV = \nu RT$) și ecuația procesului considerat ($p = a - bV$). Rezultă:

$$T = \frac{(ap - p^2)}{\nu R p} = \frac{a - p}{\nu R} \quad (3.14)$$

PROBLEMA 3.3 Să se determine o expresie pentru lucrul mecanic efectuat de mediul extern asupra unui corp solid atunci când presiunea crește de la valoarea p_1 la valoarea p_2 , iar temperatura rămâne constantă. Coeficientul de compresibilitate izoterm

$$K_T = - \left(\frac{1}{V} \right) \left(\frac{\partial V}{\partial p} \right)_T \quad (3.15)$$

se consideră constant.

SOLUȚIE

$\delta L = -pdV$ deoarece lucrul mecanic este efectuat de mediul extern asupra sistemului. Deoarece $V = V(p, T)$

$$dV = \left(\frac{\partial V}{\partial T} \right)_p dT + \left(\frac{\partial V}{\partial p} \right)_T dp \quad (3.16)$$

Compresia fiind izotermă $dT = 0$ și relația 3.16 devine:

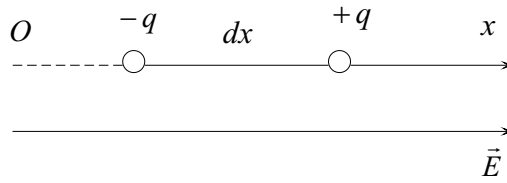


Figura 3.1: Dipol în câmp electric

$$dV = \left(\frac{\partial V}{\partial p} \right)_T dp = -V K_T dp \quad (3.17)$$

Atunci:

$$\delta L = V K_T p dp \quad (3.18)$$

Dacă se neglijează variația volumului în cursul transformării:

$$L = V K_T \int_{p_1}^{p_2} p dp = K_T V \frac{p_2^2 - p_1^2}{2} \quad (3.19)$$

PROBLEMA 3.4 Să se determine lucrul mecanic elementar de polarizare a unității de volum a unui dielectric dacă:

- Sistemul este adus de la infinit în câmpul generat de o sarcină fixă.
- Dacă se aplică o diferență de potențial pe plăcile unui condensator plan având ca dielectric substanța considerată.

SOLUȚIE

a) Dacă se notează cu n concentrația de dipoli cu momentul dipolar \vec{p} , densitatea de polarizare este $\vec{P} = n\vec{p}$. Considerând un dipol într-un câmp electric orientat ca în Fig. 3.1 forța ce acționează asupra acestuia pe direcția Ox este:

$$f_x = -qE_x(x) + qE_x(x + dx) \quad (3.20)$$

Dezvoltând în serie cel de-al doilea termen din 3.20 se obține:

$$f_x = -qE_x(x) + q \left[E_x(x) + \frac{dE_x}{dx} dx \right] = q \frac{dE_x}{dx} dx$$

$$f_x = p_x \left(\frac{dE_x}{dx} \right) \quad (3.21)$$

deoarece câmpul electric este orientat de-a lungul axei Ox.

Se consideră dipolii orientați pe direcția axei Ox și câmpul orientat după aceeași direcție. Forța totală ce va acționa asupra dipolilor din unitatea de volum este:

$$F_x = np \left(\frac{dE}{dx} \right) = P \frac{dE}{dx} \quad (3.22)$$

Lucrul mecanic efectuat când sistemul de dipoli este deplasat cu dx în câmpul electric este:

$$\delta L = -F_x dx = -\vec{P} d\vec{E} \quad (3.23)$$

semnul minus intervenind deoarece mediul extern efectuează un lucru mecanic asupra sistemului.

b) În cazul considerat dielectricul este plasat între plăcile unui condensator plan cu aria armăturilor egală cu S și distanța dintre ele egală cu h . Se presupune că dielectricul umple complet spațiul dintre armături iar condensatorul este suficient de mare pentru a neglija efectele de margine. Când se aplică o diferență de potențial, la trecerea sarcinii dq de pe o armătură pe alta se efectuează un lucru mecanic din exterior $\delta L = -Udq$ unde $U = Eh$ iar $dq = d\sigma S = SdD$ (E este intensitatea câmpului electric iar $\sigma = D$, unde D este inducția electrică). Atunci:

$$\delta L = -EhSdD = -VE dD \quad (3.24)$$

unde $V = Sh$. Generalizând putem scrie că:

$$\delta L = -V \vec{E} d\vec{D} \quad (3.25)$$

Cum $\vec{D} = \varepsilon_0 \vec{E} + \vec{P}$, 3.25 devine:

$$\delta L = -V \vec{E}(\varepsilon_0 d\vec{E} + d\vec{P}) = -V d\left(\varepsilon_0 \frac{\vec{E}^2}{2}\right) - V \vec{E} d\vec{P} \quad (3.26)$$

Pe unitatea de volum:

$$\frac{\delta L}{V} = -d\left(\varepsilon_0 \frac{\vec{E}^2}{2}\right) - \vec{E} d\vec{P} \quad (3.27)$$

Primul termen reprezintă lucrul mecanic necesar pentru generarea câmpului electric care ar exista și în absența dielectricului iar cel de-al doilea termen reprezintă lucrul mecanic efectuat pentru polarizarea unității de volum al unui dielectric izotrop.

PROBLEMA 3.5 Să se determine lucrul mecanic elementar efectuat de o sursă de tensiune electromotoare pentru a realiza magnetizarea unității de volum a unei substanțe din care este realizat miezul unei bobine. Se presupune că intensitatea câmpului magnetic H și densitatea de magnetizare M sunt uniforme, iar corpul nu se deformează în timpul magnetizării sale.

SOLUȚIE

Intensitatea câmpului magnetic creat în interiorul unei bobine cu aria secțiunii S și cu lungimea d suficient de mare este:

$$H = \frac{NI}{d} \quad (3.28)$$

unde N este numărul de spire iar I este intensitatea curentului electric ce trece prin bobină.

Fluxul inducției magnetice prin bobină este:

$$\Phi = NSB \quad (3.29)$$

Când I crește, cresc deasemenea H și M și deci și B . Aceasta duce la apariția unei tensiuni electromotoare autoinduse:

$$e = -\frac{d\Phi}{dt} = -SN \frac{dB}{dt} \quad (3.30)$$

Energia furnizată de sursă în circuit în acest caz este:

$$dW = Ied\mathbf{t} = SNIdB \quad (3.31)$$

Atunci lucrul mecanic efectuat de sursă este:

$$\delta L = -SNIdB = -(Sd) \left(\frac{NI}{d} \right) dB = -VHdB \quad (3.32)$$

Semnul minus apare deoarece lucrul mecanic calculat este un lucru mecanic efectuat de mediul exterior asupra sistemului considerat.

Cum $B = \mu_0(H + M)$ relația 3.32 devine

$$\delta L = -VH(\mu_0 dH + \mu_0 dM) = -Vd \left(\mu_0 \frac{H^2}{2} \right) - \mu_0 VHdM \quad (3.33)$$

și lucrul mecanic necesar magnetizării unității de volum este:

$$\frac{\delta L}{V} = -d \left(\mu_0 \frac{H^2}{2} \right) - \mu_0 HdM \quad (3.34)$$

Primul termen din relația 3.34 reprezintă lucrul mecanic necesar pentru a crea câmpul H independent de existența corpului magnetic. Al doilea termen este lucrul mecanic efectuat pentru a magnetiza unitatea de volum a substanței date.

PROBLEMA 3.6 Pentru un gaz ideal să se determine:

a) Coeficientul de dilatare izobar

$$\alpha = \frac{1}{V} \left(\frac{\partial V}{\partial T} \right)_p$$

b) Coeficientul de variație a presiunii cu temperatura

$$\beta = \frac{1}{p} \left(\frac{\partial p}{\partial T} \right)_V$$

c) Coeficientul de compresibilitate izotermă

$$K_T = -\frac{1}{V} \left(\frac{\partial V}{\partial p} \right)_T$$

SOLUȚIE

Se utilizează ecuația termică de stare a gazului ideal $pV = \nu RT$. Din aceasta rezultă:

$$\left(\frac{\partial V}{\partial T}\right)_p = \frac{\nu R}{p} \quad (3.35)$$

Atunci:

$$\alpha = \frac{1}{V} \left(\frac{\partial V}{\partial T}\right)_p = \frac{\nu R}{pV} = \frac{1}{T} \quad (3.36)$$

Deoarece:

$$\left(\frac{\partial V}{\partial p}\right)_T = -\nu \frac{RT}{p^2} \quad (3.37)$$

Atunci:

$$K_T = -\frac{1}{V} \left(\frac{\partial V}{\partial p}\right)_T = \frac{1}{p} \quad (3.38)$$

Deoarece:

$$\left(\frac{\partial p}{\partial T}\right)_V = \frac{\nu R}{V} \quad (3.39)$$

Atunci:

$$\beta = \frac{1}{p} \left(\frac{\partial p}{\partial T}\right)_V = \frac{1}{T} \quad (3.40)$$

PROBLEMA 3.7 Să se demonstreze următoarea relație între coeficientul de compresibilitate adiabatică și coeficientul de compresibilitate izoterm:

$$K_S = - \left(\frac{C_V}{C_p}\right) K_T \quad (3.41)$$

(formula lui Reech)

Coeficienții de compresibilitate adiabatică K_S , respectiv izotermă K_T sunt dați de expresiile:

$$K_S = -\frac{1}{V} \left(\frac{\partial V}{\partial p} \right)_S \quad (3.42)$$

$$K_T = -\frac{1}{V} \left(\frac{\partial V}{\partial p} \right)_T \quad (3.43)$$

SOLUȚIE

În cazul unui proces adiabatic $\delta Q = 0$ și atunci:

$$dU + p dV = 0 \quad (3.44)$$

Se consideră $U = U(p, V)$ și atunci:

$$dU = \left(\frac{\partial U}{\partial p} \right)_V dp + \left(\frac{\partial U}{\partial V} \right)_p dV \quad (3.45)$$

Relația 3.44 devine:

$$\left(\frac{\partial U}{\partial p} \right)_V dp + \left[\left(\frac{\partial U}{\partial V} \right)_p + p \right] dV = 0 \quad (3.46)$$

și

$$\left(\frac{\partial p}{\partial V} \right)_S = - \frac{\left[p + \left(\frac{\partial U}{\partial V} \right)_p \right]}{\left(\frac{\partial U}{\partial p} \right)_V} \quad (3.47)$$

Se pun sub o altă formă expresiile care apar la numitor, respectiv la numărătorul relației 3.47:

$$\left(\frac{\partial U}{\partial p} \right)_V = \left(\frac{\partial U}{\partial T} \right)_V \left(\frac{\partial T}{\partial p} \right)_V = C_V \left(\frac{\partial T}{\partial p} \right)_V \quad (3.48)$$

unde

$$C_V = \left(\frac{\partial U}{\partial T} \right)_V \quad (3.49)$$

este capacitatea calorică a sistemului la volum constant.

$$\left(\frac{\partial U}{\partial V}\right)_p = \left(\frac{\partial U}{\partial T}\right)_p \left(\frac{\partial T}{\partial V}\right)_p \quad (3.50)$$

Ținând cont de relația 3.50 numărătorul expresiei 3.47 se poate scrie:

$$p + \left(\frac{\partial U}{\partial V}\right)_p = p \left(\frac{\partial V}{\partial T}\right)_p \left(\frac{\partial T}{\partial V}\right)_p + \left(\frac{\partial U}{\partial T}\right)_p \left(\frac{\partial T}{\partial V}\right)_p \quad (3.51)$$

sau

$$p + \left(\frac{\partial U}{\partial V}\right)_p = \left[\left(\frac{\partial U}{\partial T}\right)_p + p \left(\frac{\partial V}{\partial T}\right)_p \right] \left(\frac{\partial T}{\partial V}\right)_p \quad (3.52)$$

Din $\delta Q = dU + pdV$ rezultă:

$$C_p = \left(\frac{\delta Q}{dT}\right)_p = \left(\frac{\partial U}{\partial T}\right)_p + p \left(\frac{\partial V}{\partial T}\right)_p \quad (3.53)$$

Atunci relația 3.52 devine:

$$p + \left(\frac{\partial U}{\partial V}\right)_p = C_p \left(\frac{\partial T}{\partial V}\right)_p \quad (3.54)$$

Se utilizează relațiile 3.48 și 3.54 și atunci relația 3.47 devine:

$$\left(\frac{\partial p}{\partial V}\right)_S = -\frac{C_p}{C_V} \frac{\left(\frac{\partial T}{\partial V}\right)_p}{\left(\frac{\partial T}{\partial p}\right)_V} = \frac{C_p}{C_V} \left(\frac{\partial p}{\partial V}\right)_T \quad (3.55)$$

astfel că:

$$-\frac{1}{V} \left(\frac{\partial V}{\partial p}\right)_S = \frac{C_V}{C_p} \left[-\frac{1}{V} \left(\frac{\partial V}{\partial p}\right)_T \right] \quad (3.56)$$

Introducând în 3.56 relațiile 3.42 și 3.43 se obține:

$$K_S = \frac{C_V}{C_p} K_T \quad (3.57)$$

PROBLEMA 3.8 În cazul unei substanțe a cărei ecuație termică de stare este de forma $p = p(V, T)$, să se arate că

$$p\beta = \frac{\alpha}{K_T} \quad (3.58)$$

unde β este coeficientul de variație al presiunii cu temperatura, α este coeficientul de dilatare liniar iar K_T este coeficientul de compresibilitate izoterm.

SOLUȚIE

Din relația $p = p(V, T)$ rezultă:

$$dp = \left(\frac{\partial p}{\partial T} \right)_V dT + \left(\frac{\partial p}{\partial V} \right)_T dV \quad (3.59)$$

iar din 3.40

$$\left(\frac{\partial p}{\partial T} \right)_V = p\beta \quad (3.60)$$

precum și

$$\left(\frac{\partial p}{\partial V} \right)_T = -\frac{1}{VK_T} \quad (3.61)$$

Substituind 3.60 și 3.61 în 3.59 rezultă:

$$dp = p\beta dT - \frac{1}{K_T} \frac{dV}{V} \quad (3.62)$$

Când $p = \text{const}$, $dp = 0$ și relația 3.62 devine:

$$p\beta dT - \frac{1}{K_T} \frac{dV}{V} = 0 \quad (3.63)$$

de unde:

$$\alpha = \frac{1}{V} \left(\frac{\partial V}{\partial T} \right)_p = p\beta K_T \quad (3.64)$$

De aici rezultă imediat relația cerută:

$$p\beta = \frac{\alpha}{K_T} \quad (3.65)$$

PROBLEMA 3.9 Să se demonstreze identitatea

$$\left(\frac{\partial p}{\partial V}\right)_T \left(\frac{\partial V}{\partial T}\right)_p \left(\frac{\partial T}{\partial p}\right)_V = -1 \quad (3.66)$$

folosind proprietățile jacobienilor.

SOLUȚIE

Derivatele parțiale se pot scrie

$$\left(\frac{\partial p}{\partial V}\right)_T = \frac{[p, T]}{[V, T]} \quad (3.67)$$

$$\left(\frac{\partial V}{\partial T}\right)_p = \frac{[V, p]}{[T, p]} \quad (3.68)$$

$$\left(\frac{\partial T}{\partial p}\right)_V = \frac{[T, V]}{[p, V]} \quad (3.69)$$

Atunci:

$$\left(\frac{\partial p}{\partial V}\right)_T \left(\frac{\partial V}{\partial T}\right)_p \left(\frac{\partial T}{\partial p}\right)_V = \frac{[p, T]}{[V, T]} \frac{[V, p]}{[T, p]} \frac{[T, V]}{[p, V]} \quad (3.70)$$

și

$$\left(\frac{\partial p}{\partial V}\right)_T \left(\frac{\partial V}{\partial T}\right)_p \left(\frac{\partial T}{\partial p}\right)_V = -\frac{[p, T]}{[V, T]} \frac{[p, V]}{[p, T]} \frac{[T, V]}{[p, V]} = -1 \quad (3.71)$$

PROBLEMA 3.10 Dintr-un vas izolat termic se pompează aerul realizându-se un vid înaintat. Vasul este în contact termic cu atmosfera unde presiunea este p_0 și temperatura T_0 . La un moment dat robinetul de evacuare se deschide și are loc umplerea vasului cu aer. Ce temperatură va avea gazul din interiorul vasului după umplerea acestuia?

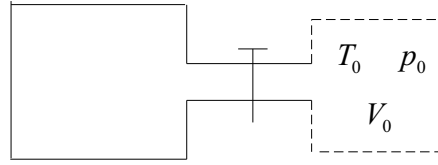


Figura 3.2: Recipient vidat în care pătrunde aer

SOLUȚIE

Prin deschiderea robinetului, un volum V_0 de aer din atmosferă intră în recipient împins de restul atmosferei care efectuează un lucru mecanic $L = p_0 V_0$ (Fig. 3.2). În figură a fost delimitat formal volumul de aer V_0 care va intra în vas prin deschiderea robinetului.

Procesul suferit de volumul V_0 de aer este un proces adiabatic: schimbul de căldură nu are loc. Se aplică principiul I al termodinamicii. În acest proces $\Delta U = Q - L$. Cum $Q = 0$ iar lucrul mecanic are expresia calculată mai sus se obține:

$$\Delta U = p_0 V_0 \quad (3.72)$$

Fie T temperatura aerului ce a intrat în recipient. Atunci:

$$\Delta U = \nu C_V T - \nu C_V T_0 \quad (3.73)$$

Din relațiile 3.72 și 3.73 se obține:

$$\nu C_V (T - T_0) = p_0 V_0 \quad (3.74)$$

care ținând cont de ecuația de stare a gazului ideal $p_0 V_0 = \nu R T_0$ devine:

$$\nu C_V (T - T_0) = \nu R T_0 \quad (3.75)$$

De aici rezultă:

$$T = \frac{C_V + R}{C_V} T_0 = \frac{C_p}{C_V} T_0 = \gamma T_0 \quad (3.76)$$

PROBLEMA 3.11 Să se determine ecuația termică de stare în cazul unei substanțe pentru care se cunosc coeficientul termic al presiunii

$$\beta = \frac{1}{p} \left(\frac{\partial p}{\partial T} \right)_V = f(T) \quad (3.77)$$

și coeficientul de compresibilitate izoterm

$$K_T = -\frac{1}{V} \left(\frac{\partial V}{\partial p} \right)_T = \frac{1}{p} \quad (3.78)$$

SOLUȚIE

Se pornește de la relația stabilită în problema 3.8:

$$\alpha = p\beta K_T \quad (3.79)$$

Se exprimă α - coeficientul de dilatare izobar sub forma:

$$\alpha = \frac{1}{V} \left(\frac{\partial V}{\partial T} \right)_p = \left(\frac{\partial}{\partial T} \ln V \right)_p \quad (3.80)$$

și se ține cont că $1/p = K_T$. Relația 3.79 devine:

$$\left(\frac{\partial}{\partial T} \ln V \right)_p = \beta = f(T) \quad (3.81)$$

Pornind de la definiția coeficientului de compresibilitate izoterm:

$$K_T = -\frac{1}{V} \left(\frac{\partial V}{\partial p} \right)_T = -\left(\frac{\partial}{\partial p} \ln V \right)_T \quad (3.82)$$

atunci:

$$\left(\frac{\partial}{\partial T} \ln V \right)_T = -\frac{1}{p} \quad (3.83)$$

Deoarece

$$d(\ln V) = \left(\frac{\partial}{\partial T} \ln V \right)_p dT + \left(\frac{\partial}{\partial p} \ln V \right)_T dp \quad (3.84)$$

rezultă:

$$d(\ln V) = f(T) dT - \frac{1}{p} dp \quad (3.85)$$

iar prin integrare se obține:

$$\ln V = \int f(T) dT - \ln p + \text{const} \quad (3.86)$$

PROBLEMA 3.12 Să se deducă ecuația termică de stare a unei substanțe pentru care coeficientul de dilatare volumică α și coeficientul de compresibilitate izoterm K_T sunt dați de expresiile:

$$\alpha = \frac{1}{V} \left(\frac{\partial V}{\partial T} \right)_p = \frac{(V - a)}{VT} \quad (3.87)$$

$$K_T = -\frac{1}{V} \left(\frac{\partial V}{\partial p} \right)_T = \frac{3(V - a)}{4pV} \quad (3.88)$$

unde a este un volum constant.

SOLUȚIE

Se consideră $V = V(T, p)$ și prin diferențiere se obține:

$$dV = \left(\frac{\partial V}{\partial T} \right)_p dT + \left(\frac{\partial V}{\partial p} \right)_T dp \quad (3.89)$$

Ținând cont de definițiile lui α și K_T rezultă:

$$dV = \alpha V dT - K_T V dp \quad (3.90)$$

Introducând expresiile lui α și K_T date în enunțul problemei relația 3.90 devine:

$$dV = (V - a) \frac{dT}{T} - 3(V - a) \frac{dp}{p} \quad (3.91)$$

sau:

$$\frac{dV}{V - a} = \frac{dT}{T} - 3 \frac{dp}{p} \quad (3.92)$$

Prin integrare se obține:

$$p^{3/4} \left(\frac{V - a}{T} \right) = \text{const} \quad (3.93)$$

PROBLEMA 3.13 Să se găsească relația dintre C_p și C_V (relația Robert - Mayer) pentru un sistem termodinamic ce poate fi caracterizat de parametri p , V , T (dintre care doi sunt independenți) iar $U = U(T, V)$

SOLUȚIE

Se utilizează primul principiu al termodinamicii sub formă diferențială:

$$dU = \delta Q - pdV \quad (3.94)$$

Cum

$$dU = \left(\frac{\partial U}{\partial T} \right)_V dT + \left(\frac{\partial U}{\partial V} \right)_T dV \quad (3.95)$$

Din relațiile 3.94 și 3.95 se obține:

$$\delta Q = \left(\frac{\partial U}{\partial T} \right)_V dT + \left[\left(\frac{\partial U}{\partial V} \right)_T + p \right] dV \quad (3.96)$$

Se consideră $V = \text{const}$ ($dV = 0$) și atunci relația 3.96 devine:

$$\delta Q = \left(\frac{\partial U}{\partial T} \right)_V dT \quad (3.97)$$

de unde rezultă:

$$C_V = \left(\frac{\delta Q}{dT} \right)_V = \left(\frac{\partial U}{\partial T} \right)_V \quad (3.98)$$

Cum $V = V(p, T)$

$$dV = \left(\frac{\partial V}{\partial p} \right)_T dp + \left(\frac{\partial V}{\partial T} \right)_p dT \quad (3.99)$$

Ținând cont de relațiile 3.98 și 3.99 relația 3.96 devine:

$$\delta Q = C_V dT + \left[\left(\frac{\partial U}{\partial V} \right)_T + p \right] \left[\left(\frac{\partial V}{\partial T} \right)_p dT + \left(\frac{\partial V}{\partial p} \right)_T dp \right] \quad (3.100)$$

Se consideră $p = \text{const.}$ Atunci $dp = 0$ iar relația 3.100 devine:

$$\delta Q = C_V dT + \left[\left(\frac{\partial U}{\partial V} \right)_T + p \right] \left(\frac{\partial V}{\partial T} \right)_p dT \quad (3.101)$$

Din 3.101 se obține:

$$C_p = \left(\frac{\delta Q}{dT} \right)_p = C_V + \left[\left(\frac{\partial U}{\partial V} \right)_T + p \right] \left(\frac{\partial V}{\partial T} \right)_p \quad (3.102)$$

PROBLEMA 3.14 Să se demonstreze identitatea

$$\left(\frac{\partial U}{\partial T} \right)_p + p \left(\frac{\partial V}{\partial T} \right)_p = C_p \quad (3.103)$$

SOLUȚIE

Se aplică primul principiu al termodinamicii $dU = \delta Q - pdV$; rezultă:

$$\left(\frac{\partial U}{\partial T} \right)_p = \left(\frac{\delta Q}{dT} \right)_p - p \left(\frac{\partial V}{\partial T} \right)_p \quad (3.104)$$

Cum

$$C_p = \left(\frac{\delta Q}{dT} \right)_p \quad (3.105)$$

se obține:

$$C_p = \left(\frac{\partial U}{\partial T} \right)_p + p \left(\frac{\partial V}{\partial T} \right)_p \quad (3.106)$$

PROBLEMA 3.15 Pentru un gaz să se demonstreze relația

$$\left(\frac{\partial H}{\partial p}\right)_T - V = \left(\frac{\partial U}{\partial p}\right)_T + p \left(\frac{\partial V}{\partial p}\right)_T \quad (3.107)$$

SOLUȚIE

Pentru un gaz

$$H = U + pV \quad (3.108)$$

$$dH = dU + pdV + Vdp \quad (3.109)$$

de unde:

$$\left(\frac{\partial H}{\partial p}\right)_T = \left(\frac{\partial U}{\partial p}\right)_T + p \left(\frac{\partial V}{\partial p}\right)_T + V \quad (3.110)$$

$$\left(\frac{\partial H}{\partial p}\right)_T - V = \left(\frac{\partial U}{\partial p}\right)_T + p \left(\frac{\partial V}{\partial p}\right)_T \quad (3.111)$$

PROBLEMA 3.16 Să se demonstreze relația

$$(C_p - C_V) \left(\frac{\partial^2 T}{\partial p \partial V}\right) + \left(\frac{\partial C_p}{\partial p}\right)_V \left(\frac{\partial T}{\partial V}\right)_p - \left(\frac{\partial C_V}{\partial V}\right)_p \left(\frac{\partial T}{\partial p}\right)_V = 1 \quad (3.112)$$

SOLUȚIE

Din relația Robert - Mayer (problema 3.13) rezultă:

$$(C_p - C_V) \left(\frac{\partial T}{\partial V}\right)_p = \left(\frac{\partial U}{\partial V}\right)_T + p \quad (3.113)$$

Se derivează această relație în raport cu p când $V = \text{const}$ și se obține:

$$\begin{aligned}
(C_p - C_V) \left(\frac{\partial^2 T}{\partial V \partial p} \right) + \left(\frac{\partial C_p}{\partial p} \right)_V \left(\frac{\partial T}{\partial V} \right)_p - \left(\frac{\partial C_V}{\partial p} \right)_V \left(\frac{\partial T}{\partial V} \right)_p = \\
= \left[\frac{\partial}{\partial p} \left(\frac{\partial U}{\partial V} \right)_T \right]_V + 1
\end{aligned} \quad (3.114)$$

dar:

$$\left(\frac{\partial C_V}{\partial p} \right)_V = \left(\frac{\partial C_V}{\partial T} \right)_V \left(\frac{\partial T}{\partial p} \right)_V \quad (3.115)$$

și:

$$\frac{\partial}{\partial p} \left(\frac{\partial U}{\partial V} \right)_T = \left(\frac{\partial^2 U}{\partial T \partial V} \right) \left(\frac{\partial T}{\partial p} \right)_V = \left(\frac{\partial C_V}{\partial V} \right)_T \left(\frac{\partial T}{\partial p} \right)_V \quad (3.116)$$

Ținând cont de relațiile 3.115 și 3.116, relația 3.114 devine:

$$\begin{aligned}
(C_p - C_V) \frac{\partial^2 T}{\partial p \partial V} + \left(\frac{\partial C_p}{\partial p} \right)_V \left(\frac{\partial T}{\partial V} \right)_p - \\
- \left[\left(\frac{\partial C_V}{\partial T} \right)_V \left(\frac{\partial T}{\partial V} \right)_p + \left(\frac{\partial C_V}{\partial V} \right)_T \right] \left(\frac{\partial T}{\partial p} \right)_V = 1
\end{aligned}$$

Se consideră $C_V = C_V(T, V)$. Atunci:

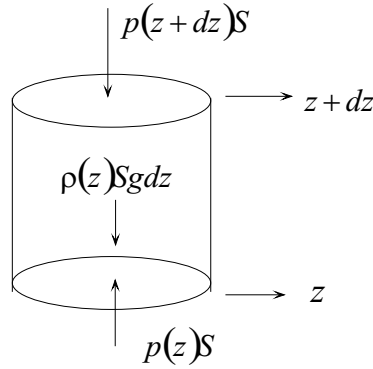
$$dC_V = \left(\frac{\partial C_V}{\partial V} \right)_T dV + \left(\frac{\partial C_V}{\partial T} \right)_V dT$$

Rezultă:

$$\left(\frac{\partial C_V}{\partial V} \right)_p = \left(\frac{\partial C_V}{\partial V} \right)_p + \left(\frac{\partial C_V}{\partial T} \right)_V \left(\frac{\partial T}{\partial V} \right)_p \quad (3.117)$$

astfel că

$$(C_p - C_V) \left(\frac{\partial^2 T}{\partial p \partial V} \right) + \left(\frac{\partial C_p}{\partial p} \right)_V \left(\frac{\partial T}{\partial V} \right)_p - \left(\frac{\partial C_V}{\partial V} \right)_p \left(\frac{\partial T}{\partial p} \right)_V = 1 \quad (3.118)$$

Figura 3.3: Cilindru de aer la înălțimea z

PROBLEMA 3.17 Se presupune că atunci când aerul (considerat gaz ideal) se ridică suferă un proces de destindere adiabatică. Să se determine variația temperaturii cu creșterea altitudinii. Să se evalueze rata variației temperaturii cu altitudinea dT/dz considerând $\gamma = 1,41$, $\mu = 28,9$ g/mol și $g = 9,8$ m/s².

SOLUȚIE

Considerăm aerul dintr-un volum cilindric de înălțime dz și baza S (Fig.3.3).

Condiția de echilibru pentru această porțiune de gaz este:

$$p(z)S - p(z + dz)S - \rho(z)Sg dz = 0 \quad (3.119)$$

de unde rezultă:

$$-dp(z) = \rho(z)g dz \quad (3.120)$$

sau:

$$\frac{dp(z)}{dz} = -\rho(z)g \quad (3.121)$$

Cum în cazul unui gaz ideal:

$$\rho = \frac{\mu p}{RT} \quad (3.122)$$

unde μ este masa molară a gazului, relația 3.121 devine:

$$\frac{dp(z)}{dz} = -\frac{p\mu g}{RT} \quad (3.123)$$

sau:

$$\frac{dp}{p} = -\frac{\mu g}{RT} dz \quad (3.124)$$

Cum transformarea la care este supus gazul este adiabatică:

$$p^{1-\gamma} T^\gamma = \text{const} \quad (3.125)$$

Prin diferențierea acestei relații se obține:

$$(1 - \gamma) p^{-\gamma} T^\gamma dp + \gamma p^{1-\gamma} T^{\gamma-1} dT = 0$$

$$(1 - \gamma) T dp + p dT = 0 \quad (3.126)$$

adică:

$$\frac{dp}{p} = \frac{\gamma}{\gamma - 1} \frac{dT}{T} \quad (3.127)$$

Din relațiile 3.124 și 3.127 rezultă:

$$\frac{\gamma}{\gamma - 1} dT = -\frac{\mu g}{R} dz \quad (3.128)$$

de unde:

$$\frac{dT}{dz} = -\frac{\gamma - 1}{\gamma} \frac{\mu g}{R} \quad (3.129)$$

Aceasta înseamnă că odată cu creșterea altitudinii temperatura scade. Din relația de mai sus se obține pentru rata scăderii temperaturii cu altitudinea o valoare de aproximativ 10 °C/km. Totuși scăderea reală este doar de 6 °C/km, neconcordanța datorându-se altor fenomene.

PROBLEMA 3.18 Propagarea sunetului în aer are loc adiabatic cu viteza

$$v_s = \sqrt{\frac{dp}{d\rho}} \quad (3.130)$$

(unde ρ este densitatea aerului)

a) Să se determine relația care există între exponentul adiabatic γ și viteza sunetului v_s .

b) Să se determine variația lui v_s în funcție de temperatură și să se evalueze viteza sunetului la 0 °C la presiunea de 1 atm.

SOLUȚIE

Din ecuația transformării adiabactice pentru gazul ideal $pV^\gamma = \text{const}$ scrisă în variabilele p , V , se obține prin diferențiere:

$$V^\gamma dp + \gamma V^{\gamma-1} dV = 0 \quad (3.131)$$

$$\frac{dp}{p} + \gamma \frac{dV}{V} = 0 \quad (3.132)$$

Cum $\rho = m/V$ rezultă:

$$d\rho = -m \frac{dV}{V^2} = -\rho \frac{dV}{V} \quad (3.133)$$

sau

$$\frac{d\rho}{\rho} = -\frac{dV}{V} \quad (3.134)$$

Din relațiile 3.132 și 3.134 rezultă:

$$\frac{dp}{p} - \gamma \frac{d\rho}{\rho} = 0 \quad (3.135)$$

de unde:

$$\frac{dp}{d\rho} = \gamma \frac{p}{\rho} \quad (3.136)$$

Atunci:

$$v_s = \sqrt{\frac{\gamma p}{\rho}} \quad (3.137)$$

Astfel prin măsurarea vitezei sunetului prin metode uzuale în condiții cunoscute se poate determina exponentul adiabatic.

b) Din ecuația termică de stare a gazului ideal

$$pV = \frac{mRT}{\mu} \quad (3.138)$$

se obține:

$$\frac{p}{\rho} = \frac{RT}{\mu} \quad (3.139)$$

și atunci utilizând relația 3.130 și 3.136 se obține:

$$v_s = \sqrt{\gamma \frac{RT}{\mu}} \quad (3.140)$$

În cazul aerului $\gamma = 1,41$, $T = 273$ K , $R = 8310$ J/Kmol K . Se obține:

$$v_s = 332 \text{ m/s}$$

PROBLEMA 3.19 Admițând că proprietățile radiației termice sunt similare unui gaz să se determine ecuația transformării adiabatică știind că densitatea energiei interne este:

$$u = \sigma T^4 \quad (3.141)$$

iar presiunea

$$p = \frac{u}{3} \quad (3.142)$$

SOLUȚIE

Energia internă a radiației termice dintr-un volum V este:

$$U = uV = \sigma VT^4 \quad (3.143)$$

În plus:

$$p = \frac{u}{3} = \frac{\sigma T^4}{3} \quad (3.144)$$

Utilizând expresia primului principiu al termodinamicii sub formă diferențială $\delta Q = dU + pdV$ precum și relațiile 3.143 și 3.144 se obține:

$$\delta Q = d(\sigma VT^4) + pdV \quad (3.145)$$

sau

$$\delta Q = \sigma T^4 dV + 4\sigma VT^3 dT + \frac{\sigma T^4}{3} dV \quad (3.146)$$

$$\delta Q = \frac{4\sigma T^4 dV}{3} + 4\sigma T^3 V dT \quad (3.147)$$

În cazul transformării adiabatică $\delta Q = 0$ și considerând relația 3.147 se obține:

$$\frac{dV}{V} + 3\frac{dT}{T} = 0 \quad (3.148)$$

Prin integrare rezultă:

$$\ln V + 3 \ln T = \text{const} \quad (3.149)$$

Se obține astfel ecuația transformării adiabatică:

$$VT^3 = \text{const} \quad (3.150)$$

PROBLEMA 3.20 Să se calculeze lucrul mecanic și căldura schimbate cu mediul extern de către radiația termică care se destinde izoterm volumul variind de la V_1 la volumul V_2

SOLUȚIE

Lucrul mecanic este:

$$L = \int_{V_1}^{V_2} p dV = \int_{V_1}^{V_2} \frac{\sigma T^4}{3} dV = \frac{\sigma T^4}{3} (V_2 - V_1) \quad (3.151)$$

(În calculul de mai sus am ținut cont de relația 3.142) Cum:

$$Q = \Delta U + L \quad (3.152)$$

rezultă că pentru determinarea lui Q este necesară cunoașterea lui ΔU . Dar

$$\Delta U = \sigma T^4 (V_2 - V_1) \quad (3.153)$$

Ținând cont de relațiile 3.151 , 3.152 și 3.153 rezultă:

$$Q = \frac{4}{3} \sigma T^4 (V_2 - V_1) \quad (3.154)$$

PROBLEMA 3.21 Care este temperatura finală a unui mol de gaz care se destinde adiabatic în vid de la volumul V_1 la volumul V_2 considerând că:

a) gazul este ideal iar expresia energiei interne este de forma

$$U = \frac{3RT}{2} \quad (3.155)$$

b) gazul este real iar expresia energiei interne este de forma

$$U = \frac{3RT}{2} - \frac{a}{V} \quad (3.156)$$

unde a este o constantă

SOLUȚIE

În cazul destinderii adiabatică în vid $\delta Q = 0$, $\delta L = 0$, deoarece ocuparea de către gaz a noului volum se face datorită agitației termice.

Rezultă $\Delta U = 0$ adică $U = \text{const}$ și $U_1 = U_2$.

a) în cazul gazului ideal:

$$\frac{3RT_2}{2} = \frac{3RT_1}{2} \quad (3.157)$$

de unde:

$$T_1 = T_2$$

Pentru gazul real:

$$\frac{3RT_2}{2} - \frac{a}{V_2} = \frac{3RT_1}{2} - \frac{a}{V_1} \quad (3.158)$$

de unde

$$T_2 = T_1 + \frac{2a}{3R} \left(\frac{1}{V_2} - \frac{1}{V_1} \right) \quad (3.159)$$

Cum $V_2 > V_1$ rezultă că $T_2 < T_1$

Pentru gazul real destinderea are loc cu scăderea temperaturii sale.

PROBLEMA 3.22 În cursul unui proces Joule - Thomson gazul aflat la presiunea p_1 este lăsat să treacă printr-un dop poros într-un compartiment în care presiunea este p_2 . Când gazul din volumul V_1 se destinde în volumul V_2 să se arate că în cursul acestui proces entalpia $H = U + pV$ se conservă. Se presupune că pereții exteriori izolează adiabatic sistemul.

SOLUȚIE

Procesul este ilustrat în Fig. 3.4. Peretele din stânga este împins ușor astfel încât volumul compartimentului din stânga să scadă de la valoarea V_1 la valoarea 0 iar volumul compartimentului din dreapta să crească de la valoarea 0 la valoarea V_2 .

Lucrul mecanic efectuat de sistem este:

$$L = \int_{V_1}^0 p_1 dV + \int_0^{V_2} p_2 dV = -p_1 V_1 + p_2 V_2 \quad (3.160)$$

Se aplică primul principiu al termodinamicii acestui proces și se obține:

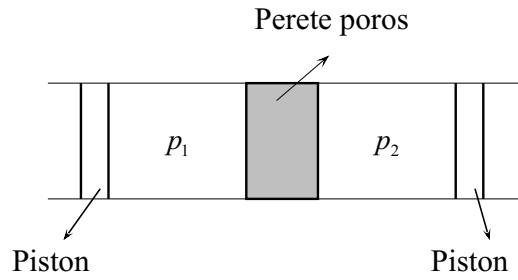


Figura 3.4: Procesul Joule - Thomson

$$U_2 - U_1 = -L = p_1 V_1 - p_2 V_2 \quad (3.161)$$

de unde:

$$U_2 + p_2 V_2 = U_1 + p_1 V_1 \quad (3.162)$$

adică:

$$H_1 = H_2 \quad (3.163)$$

PROBLEMA 3.23 Să se arate că variația de temperatură în cursul unui proces Joule-Thomson pentru un gaz oarecare se poate exprima astfel:

$$\Delta T = -\frac{1}{C_p} \left(\frac{\partial H}{\partial V} \right)_T \left(\frac{\partial V}{\partial p} \right)_T \Delta p \quad (3.164)$$

SOLUȚIE

Într-un proces Joule-Thomson $\Delta H = 0$. Pentru un astfel de proces se consideră entalpia funcție de parametri p, T și atunci:

$$\Delta H = \left(\frac{\partial H}{\partial T} \right)_p \Delta T + \left(\frac{\partial H}{\partial p} \right)_T \Delta p = 0 \quad (3.165)$$

de unde se obține:

$$\Delta T = -\frac{\left(\frac{\partial H}{\partial p}\right)_T}{\left(\frac{\partial H}{\partial T}\right)_p} \Delta p \quad (3.166)$$

Deoarece:

$$H = U + pV \quad (3.167)$$

$$dH = \delta Q + V dp \quad (3.168)$$

Când $p = \text{const}$ rezultă că $dH = \delta Q$ și

$$C_p = \left(\frac{\delta Q}{dT}\right)_p = \left(\frac{\partial H}{\partial T}\right)_p$$

Atunci

$$\Delta T = -\frac{1}{C_p} \left(\frac{\partial H}{\partial p}\right)_T \Delta p \quad (3.169)$$

Pentru $H = H(p, V)$

$$dH = \left(\frac{\partial H}{\partial T}\right)_p dT + \left(\frac{\partial H}{\partial p}\right)_T dp \quad (3.170)$$

Dar cum $p = p(V, T)$

$$dp = \left(\frac{\partial p}{\partial T}\right)_V dT + \left(\frac{\partial p}{\partial V}\right)_T dV$$

Astfel relația 3.170 devine:

$$dH = \left[\left(\frac{\partial H}{\partial T}\right)_p + \left(\frac{\partial H}{\partial p}\right)_T \left(\frac{\partial p}{\partial T}\right)_V \right] dT + \left(\frac{\partial H}{\partial p}\right)_T \left(\frac{\partial p}{\partial V}\right)_T dV \quad (3.171)$$

Pentru $H = H(V, T)$

$$dH = \left(\frac{\partial H}{\partial V}\right)_T dV + \left(\frac{\partial H}{\partial T}\right)_V dT \quad (3.172)$$

Comparând relațiile 3.171 cu 3.172 obținem:

$$\left(\frac{\partial H}{\partial V}\right)_T = \left(\frac{\partial H}{\partial p}\right)_T \left(\frac{\partial p}{\partial V}\right)_T$$

De aici rezultă:

$$\left(\frac{\partial H}{\partial p}\right)_T = \left(\frac{\partial H}{\partial V}\right)_T \left(\frac{\partial V}{\partial p}\right)_T \quad (3.173)$$

Astfel relația 3.169 devine:

$$\Delta T = -\frac{1}{C_p} \left(\frac{\partial H}{\partial V}\right)_T \left(\frac{\partial V}{\partial p}\right)_T \Delta p \quad (3.174)$$

Deoarece creșterea presiunii conduce la micșorarea volumului

$$\left(\frac{\partial V}{\partial p}\right)_T < 0$$

se pot trage următoarele concluzii:

Dacă

$$\left(\frac{\partial H}{\partial V}\right)_T > 0$$

atunci ΔT și Δp au același semn

Dacă

$$\left(\frac{\partial H}{\partial V}\right)_T < 0$$

atunci ΔT și Δp au semne contrare

Dacă

$$\left(\frac{\partial H}{\partial V}\right)_T = 0$$

atunci $\Delta T = 0$

PROBLEMA 3.24 Asupra unei bare realizată dintr-un material elastic de lungime L_1 , având secțiunea S_1 , aflată la temperatura T_1 , acționează o forță F_1 . Dacă se cunoaște coeficientul de dilatare liniar

$$\lambda = \left(\frac{1}{L} \right) \left(\frac{\partial L}{\partial T} \right)_F \quad (3.175)$$

precum și modulul lui Young

$$E = \left(\frac{L}{S} \right) \left(\frac{\partial F}{\partial L} \right)_T \quad (3.176)$$

să se determine lungimea L_2 când temperatura crește la valoarea T_2 , iar forța devine egală cu F_2 .

SOLUȚIE

Considerând $L = L(T, F)$ se obține:

$$dL = \left(\frac{\partial L}{\partial T} \right)_F dT + \left(\frac{\partial L}{\partial F} \right)_T dF$$

și introducând 3.175 și 3.176:

$$dL = \lambda L dT + \frac{L}{ES} dF \quad (3.177)$$

de unde:

$$\int_{L_1}^{L_2} \frac{dL}{L} = \lambda \int_{T_1}^{T_2} dT + \frac{1}{SE} \int_{F_1}^{F_2} dF$$

Rezultă:

$$\ln \left(\frac{L_2}{L_1} \right) = \lambda (T_2 - T_1) + \frac{F_2 - F_1}{SE} \quad (3.178)$$

Observații:

a) $F = \text{const}$

$$\ln \left(\frac{L_2}{L_1} \right) = \lambda (T_2 - T_1) \quad (3.179)$$

$$L_2 = L_1 \exp [\lambda (T_2 - T_1)]$$

Pentru variații mici de temperatură se poate dezvolta în serie exponențială reținând primii termeni și rezultă:

$$L_2 = L_1[1 + \lambda(T_2 - T_1)]$$

b) $T = \text{const}$

$$\ln \frac{L_2}{L_1} = \frac{F_2 - F_1}{SE}$$

$$L_2 = L_1 \exp\left(\frac{F_2 - F_1}{SE}\right) \quad (3.180)$$

În cazul în care $F_1 = 0$, iar

$$\frac{F_2}{ES} \ll 1$$

relația 3.180 se poate scrie:

$$L_2 = L_1 \left(1 + \frac{F_2}{ES}\right)$$

și se obține:

$$\Delta L = L_2 - L_1 = L_1 \frac{F_2}{ES}$$

adică o expresie care constituie legea lui Hooke.

PROBLEMA 3.25 Să se arate că pentru un metal elastic sub formă de sârmă cu lungimea L la temperatura T și asupra căruia acționează forța F este satisfăcută relația

$$\left(\frac{\partial F}{\partial T}\right)_L = -ES\lambda \quad (3.181)$$

unde E este modulul lui Young iar λ este coeficientul de dilatare liniar (semnificațiile mărimilor care apar în problemă au fost date în problema precedentă)

SOLUȚIE

$$\left(\frac{\partial F}{\partial T}\right)_L = -\frac{\left(\frac{\partial L}{\partial T}\right)_F}{\left(\frac{\partial L}{\partial F}\right)_T} = \frac{-\frac{1}{L}\left(\frac{\partial L}{\partial T}\right)_F S}{\frac{S}{L}\left(\frac{\partial L}{\partial F}\right)_T} = -ES\lambda$$

PROBLEMA 3.26 Să se arate că pentru un gaz ideal este satisfăcută relația

$$\left(\frac{\partial U}{\partial p}\right)_T = 0 \quad (3.182)$$

SOLUȚIE

Pentru $U = U(T, V)$ se obține:

$$dU = \left(\frac{\partial U}{\partial T}\right)_V dT + \left(\frac{\partial U}{\partial V}\right)_T dV \quad (3.183)$$

Pentru o transformare izotermă $dT = 0$, și:

$$dU = \left(\frac{\partial U}{\partial V}\right)_T dV \quad (3.184)$$

Atunci

$$\left(\frac{\partial U}{\partial p}\right)_T = \left(\frac{\partial U}{\partial V}\right)_T \left(\frac{\partial V}{\partial p}\right)_T \quad (3.185)$$

Deoarece în cazul unui gaz ideal energia internă depinde doar de temperatură

$$\left(\frac{\partial U}{\partial V}\right)_T = 0$$

iar din relația 3.185 rezultă:

$$\left(\frac{\partial U}{\partial p}\right)_T = 0$$

PROBLEMA 3.27 Să se arate că în cazul unui proces adiabatic într-un sistem a cărui energie internă depinde de T și p are loc relația:

$$C_p \left(\frac{\partial T}{\partial p} \right)_S = - \left[\left(\frac{\partial U}{\partial p} \right)_T + p \left(\frac{\partial V}{\partial p} \right)_T \right] \quad (3.186)$$

SOLUȚIE

Considerând $U = U(p, T)$

$$dU = \left(\frac{\partial U}{\partial T} \right)_p dT + \left(\frac{\partial U}{\partial p} \right)_T dp \quad (3.187)$$

Dar:

$$dV = \left(\frac{\partial V}{\partial T} \right)_p dT + \left(\frac{\partial V}{\partial p} \right)_T dp \quad (3.188)$$

Atunci din primul principiu al termodinamicii

$$\delta Q = dU + \delta L = dU + p dV$$

și din relațiile 3.187 și 3.188 rezultă:

$$\delta Q = \left[\left(\frac{\partial U}{\partial T} \right)_p + p \left(\frac{\partial V}{\partial T} \right)_p \right] dT + \left[\left(\frac{\partial U}{\partial p} \right)_T + p \left(\frac{\partial V}{\partial p} \right)_T \right] dp \quad (3.189)$$

Deoarece:

$$C_p = \left(\frac{\delta Q}{dT} \right)_p = \left(\frac{\partial U}{\partial T} \right)_p + p \left(\frac{\partial V}{\partial T} \right)_p \quad (3.190)$$

relația 3.189 devine pentru un proces adiabatic

$$C_p dT + \left[\left(\frac{\partial U}{\partial p} \right)_T + p \left(\frac{\partial V}{\partial p} \right)_T \right] dp = 0 \quad (3.191)$$

de unde:

$$C_p \left(\frac{\partial T}{\partial p} \right)_S = - \left[\left(\frac{\partial U}{\partial p} \right)_T + p \left(\frac{\partial V}{\partial p} \right)_T \right]$$

PROBLEMA 3.28 Să se studieze forma izotermelor pentru un gaz real care satisface ecuația Van-der-Waals:

$$\left(p + \frac{\nu^2 a}{V^2} \right) (V - \nu b) = \nu RT \quad (3.192)$$

unde ν este numărul de kmoli iar a și b sunt constante pozitive. Să se determine presiunea critică p_c , volumul critic V_c precum și temperatura critică T_c .

SOLUȚIE

Dacă se notează cu $v = V/\nu$ volumul molar ecuația de stare devine:

$$\left(p + \frac{a}{v^2} \right) (v - b) = RT$$

sau:

$$p = \frac{RT}{v - b} - \frac{a}{v^2} \quad (3.193)$$

de unde:

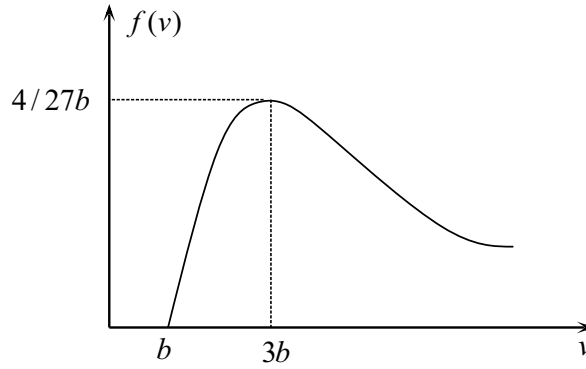
$$\begin{aligned} \left(\frac{\partial p}{\partial v} \right)_T &= -\frac{RT}{(v - b)^2} + \frac{2a}{v^3} \\ \left(\frac{\partial p}{\partial v} \right)_T &= \frac{2a}{(v - b)^2} \left[\frac{(v - b)^2}{v^3} - \frac{RT}{2a} \right] \end{aligned} \quad (3.194)$$

Pentru a studia semnul acestei derivate se consideră funcția:

$$f(v) = \frac{(v - b)^2}{v^3} \quad (3.195)$$

definită pentru $v > b$

Se studiază variația acestei funcții. Pentru aceasta se consideră derivata sa în funcție de v :

Figura 3.5: Funcția $f(v)$

$$\frac{df}{dv} = \frac{v-b}{v^4} (3b-v) \quad (3.196)$$

Când $v < 3b$ funcția este crescătoare deoarece prima ei derivată este pozitivă.

Când $v > 3b$ funcția este descrescătoare deoarece derivata ei este negativă. Când $v = 3b$ se obține valoarea maximă a lui $f(v)$ și anume:

$$f(3b) = \frac{4}{27b}$$

Menționăm că dacă: $v \rightarrow b$ $f(v) \rightarrow 0$ iar dacă: $v \rightarrow \infty$ $f(v) \rightarrow 0$

Graficul acestei funcții este reprezentat în Fig.3.5.

Dacă:

$$\frac{4}{27b} < \frac{RT}{2a} \quad (3.197)$$

atunci:

$$\frac{(v-b)^2}{v^3} - \frac{RT}{2a} < 0$$

Rezultă:

$$\left(\frac{\partial p}{\partial v} \right)_T < 0$$

ceea ce înseamnă că presiunea scade monoton cu creșterea volumului.

Din relația 3.197 rezultă că:

$$T > \frac{8a}{27Rb}$$

Dacă:

$$\frac{4}{27b} > \frac{RT}{2a}$$

adică

$$T < \frac{8a}{27bR}$$

ecuația:

$$\left(\frac{\partial p}{\partial v}\right)_T = \frac{2a}{(v-b)^2} \left[\frac{(v-b)^2}{v^3} - \frac{RT}{2a} \right] = 0 \quad (3.198)$$

are două soluții v_1, v_2 , ($v_1 < v_2$), unde $v_1 \in (b, 3b)$ și $v_2 > 3b$

Când $v \in (b, v_1)$,

$$\frac{(v-b)^2}{v^3} - \frac{RT}{2a} < 0$$

și:

$$\left(\frac{\partial p}{\partial v}\right)_T < 0$$

Când $v \in (v_1, v_2)$

$$\frac{(v-b)^2}{v^3} - \frac{RT}{2a} > 0$$

și:

$$\left(\frac{\partial p}{\partial v}\right)_T > 0$$

Când $v > v_2$

$$\frac{(v-b)^2}{v^3} - \frac{RT}{2a} < 0$$

și:

$$\left(\frac{\partial p}{\partial v}\right)_T < 0$$

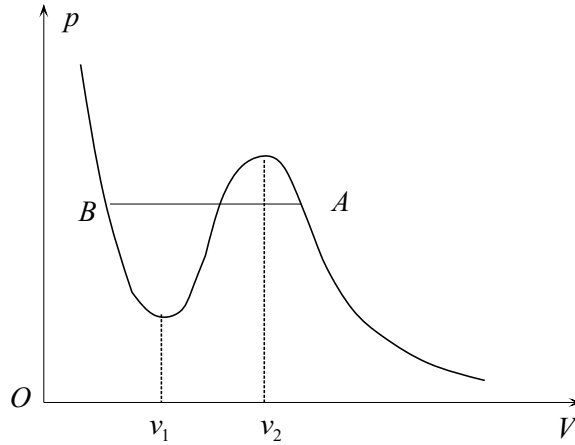


Figura 3.6: Izotermă Van-der-Walls

Când $v_1 = v_2 = v$

$$v = \frac{8a}{27Rb}$$

Alura unei izoterme este cea prezentată în Fig.3.6.

Se observă că în punctul v_1 , presiunea are un minim iar când volumul este egal cu v_2 , presiunea are un maxim. Când temperatura crește $v_1 \rightarrow 3b$, $v_2 \rightarrow 3b$ adică punctele de extrem se apropie din ce în ce mai mult până ajung să coincidă. Acest lucru are loc la o temperatură critică T_c . Când $T < T_c$ trebuie remarcat că experimental maximele și minimele de pe izoterme nu se observă. Sub temperatura critică într-un anumit punct, A gazul începe să se condenseze. Când volumul descrește, presiunea rămâne constantă (linia AB), până în punctul B când întreg gazul este transformat în lichid. Dincolo de punctul B când volumul descrește, este comprimat un lichid, astfel încât apare o creștere abruptă a presiunii chiar când există variații mici de volum. Punctul critic corespunde cazului când cele două extreme coincid ($v_1 = v_2$). Volumul critic molar și temperatura critică sunt:

$$v_c = 3b \quad (3.199)$$

$$T_c = \frac{8a}{27Rb} \quad (3.200)$$

Presiunea critică se obține din relația 3.193.

$$p_c = \frac{a}{27b^2}$$

Rezultatul acesta se obține direct atunci când se pun condițiile:

$$\left(\frac{\partial p}{\partial v}\right)_T = 0$$

$$\left(\frac{\partial^2 p}{\partial v^2}\right)_T = 0$$

PROBLEMA 3.29 Să se arate că dacă se neglijează variația volumului la magnetizarea unei substanțe magnetice omogene căldura specifică este dată de expresia

$$c_H = \left(\frac{\partial u}{\partial H}\right)_T - \mu_0 H \left(\frac{\partial M}{\partial T}\right)_H \quad (3.201)$$

când intensitatea câmpului magnetic este constantă. M este densitatea de magnetizare, H este intensitatea câmpului magnetic, c_H este căldura specifică a unității de volum, u energia internă a unității de volum, iar μ_0 permitivitatea vidului.

SOLUȚIE

Pentru unitatea de volum variația energiei interne a unei substanțe magnetice este:

$$du = \delta Q + \mu_0 H dM$$

sau

$$\delta Q = du - \mu_0 H dM \quad (3.202)$$

Pentru $u = u(T, H)$

$$du = \left(\frac{\partial u}{\partial T}\right)_H dT + \left(\frac{\partial u}{\partial H}\right)_T dH \quad (3.203)$$

Pentru $M = M(T, H)$

$$dM = \left(\frac{\partial M}{\partial T} \right)_H dT + \left(\frac{\partial M}{\partial H} \right)_T dH \quad (3.204)$$

Ținând cont de relațiile 3.203 și 3.204 relația 3.202 devine:

$$\delta Q = \left[\left(\frac{\partial u}{\partial T} \right)_H - \mu_0 H \left(\frac{\partial M}{\partial T} \right)_H \right] dT + \left[\left(\frac{\partial u}{\partial H} \right)_T - \mu_0 H \left(\frac{\partial M}{\partial T} \right)_H \right] dH$$

și atunci:

$$c_H = \left(\frac{\delta Q}{dT} \right)_H = \left(\frac{\partial u}{\partial T} \right)_H - \mu_0 H \left(\frac{\partial M}{\partial T} \right)_H$$

PROBLEMA 3.30 Dacă se neglijează variația volumului când are loc magnetizarea să se demonstreze că pentru o substanță omogenă are loc relația:

$$\chi_S = \left(\frac{c_M}{c_H} \right) \chi_T \quad (3.205)$$

unde

$$\chi_T = \left(\frac{\partial M}{\partial H} \right)_T \quad (3.206)$$

este susceptibilitatea magnetică izotermă iar

$$\chi_S = \left(\frac{\partial M}{\partial H} \right)_S \quad (3.207)$$

este susceptibilitatea magnetică adiabatică.

În 3.205 c_M este căldura specifică a unității de volum la densitate de magnetizare constantă, iar c_H este căldura specifică a unității de volum la intensitate constantă a câmpului magnetic.

SOLUȚIE

Starea sistemului este caracterizată de parametri T, H, M care sunt legați printr-o ecuație de stare. Atunci $u = u(H, M)$ unde u este energia internă a unității de volum. Pentru unitatea de volum principiul I al termodinamicii se scrie:

$$\delta Q = du - \mu_0 H dM \quad (3.208)$$

Pentru o transformare adiabatică ($\delta Q = 0$) se obține:

$$du = \mu_0 H dM$$

sau:

$$\left(\frac{\partial u}{\partial M} \right)_H dM + \left(\frac{\partial u}{\partial H} \right)_M dH - \mu_0 H dM = 0$$

și regrupând termenii:

$$\left(\frac{\partial u}{\partial H} \right)_M dH + \left[\left(\frac{\partial u}{\partial M} \right)_H - \mu_0 H \right] dM = 0 \quad (3.209)$$

de unde:

$$\chi_S = \left(\frac{\partial M}{\partial H} \right)_S = - \frac{\left(\frac{\partial u}{\partial H} \right)_M}{\left(\frac{\partial u}{\partial M} \right)_H - \mu_0 H} \quad (3.210)$$

Dar:

$$\left(\frac{\partial u}{\partial H} \right)_M = \left(\frac{\partial u}{\partial T} \right)_M \left(\frac{\partial T}{\partial H} \right)_M = c_M \left(\frac{\partial T}{\partial H} \right)_M \quad (3.211)$$

și:

$$\left(\frac{\partial u}{\partial M} \right)_H - \mu_0 H = \left[\left(\frac{\partial u}{\partial T} \right)_H - \mu_0 H \left(\frac{\partial M}{\partial T} \right)_H \right] \left(\frac{\partial T}{\partial M} \right)_H \quad (3.212)$$

Cum în problema precedentă am demonstrat că:

$$c_H = \left(\frac{\delta Q}{dT} \right)_H = \left[\left(\frac{\partial u}{\partial T} \right)_H - \mu_0 H \left(\frac{\partial M}{\partial T} \right)_H \right]$$

expresia 3.212 devine:

$$\left(\frac{\partial u}{\partial M} \right)_H - \mu_0 H = c_H \left(\frac{\partial T}{\partial M} \right)_H \quad (3.213)$$

Ținând cont de relațiile 3.211 și 3.213, 3.210 devine:

$$\chi_S = - \frac{c_M \left(\frac{\partial T}{\partial H} \right)_M}{c_H \left(\frac{\partial T}{\partial M} \right)_H} = \frac{c_M}{c_H} \left(\frac{\partial M}{\partial H} \right)_T = \frac{c_M}{c_H} \chi_T$$

PROBLEMA 3.31 Să se arate că într-un proces ciclic izoterm reversibil căldura schimbată cu mediul extern și lucrul mecanic sunt nule. Se va utiliza:

- a) egalitatea lui Clausius
- b) formularea Thomson a principiului al doilea.

SOLUȚIE

- a) În cazul unui proces ciclic izoterm reversibil:

$$\frac{1}{T} \oint \delta Q = 0$$

adică:

$$Q = \oint \delta Q = 0 \quad (3.214)$$

Cum:

$$\Delta U = Q - L \quad (3.215)$$

Deoarece procesul este ciclic $\Delta U = 0$ și rezultă că și $L = 0$.

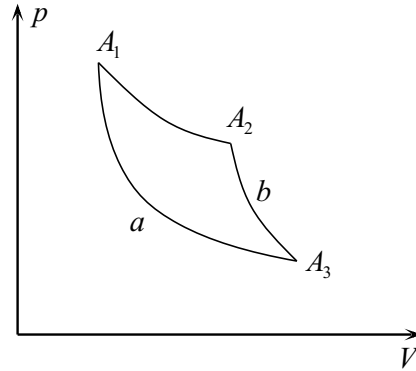


Figura 3.7: Ciclu format din doua adiabate și o

b) Din formularea Thomson a principiului al II-lea rezultă că sistemul nu poate efectua lucru mecanic asupra mediului. Atunci:

$$L \leq 0 \quad (3.216)$$

Dacă $L < 0$ înseamnă că mediul extern efectuează un lucru mecanic asupra sistemului.

Se consideră același proces ciclic izoterm parcurs în sens invers. În cursul acestui proces lucrul mecanic efectuat de mediu este $-L$. Atunci:

$$-L \leq 0 \quad (3.217)$$

Din relațiile 3.216 și 3.217 rezultă că $L = 0$.

PROBLEMA 3.32 Să se arate că pentru aceeași cantitate de substanță două adiabate nu se pot intersecta.

SOLUȚIE

Fie două transformări adiabatice a și b precum și transformarea izotermă A_1A_2 reprezentate în Fig.3.7. A_3 este punctul de intersecție al celor două adiabate.

Se consideră ciclul $A_1A_2A_3$ parcurs în sensul acelor de ceasornic. Sistemul preia căldură doar în cursul transformării A_1A_2 și, în plus, $L > 0$.

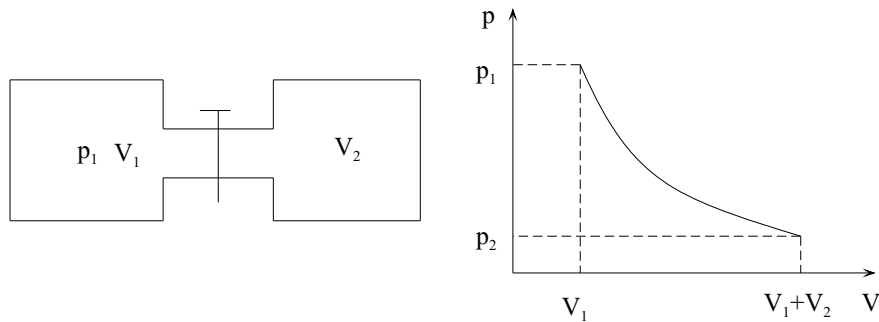


Figura 3.8: Destindere adiabatică în vid

Aceasta înseamnă că sistemul ia căldură de la o singură sursă și poate efectua lucru mecanic asupra mediului extern, însă acest lucru este interzis de principiul II al termodinamicii și ipoteza făcută nu este adevărată. (Se observă și faptul că dacă $A_1 A_2$ nu este izotermă, nu avem o singură sursă de căldură)

Rezultă că două adiabate ale aceleiași cantități de substanță nu se pot intersecta.

PROBLEMA 3.33 Să se arate că procesul de destindere adiabatică a unui gaz ideal dintr-o incintă cu volumul V_1 și temperatura T_1 , într-o incintă vidată cu volumul V_2 este ireversibil. Să se calculeze variația de entropie în cursul acestui proces.

SOLUȚIE

Deoarece destinderea este adiabatică și s-a realizat în vid $Q = 0$ și $L = 0$. Rezultă că $\Delta U = 0$ și cum pentru un gaz ideal $\Delta U = C_V \Delta T$ rezultă că $\Delta T = 0$, adică temperatura finală este egală cu cea inițială. Procesul este reprezentat în Fig.3.8.

Procesul ar fi reversibil dacă sistemul și mediul ar putea reveni la starea inițială prin aceleași stări intermediare, lucru care nu este posibil deoarece gazul ar trebui să treacă de la sine în incinta cu volum V_1 în incinta cu volumul V_2 rămânând vid. Procesul este ireversibil și este asociat cu creștere de entropie.

Calculul variației de entropie se realizează pornind de la faptul că aceasta este o funcție de stare și există posibilitatea evaluării ei în cursul unui proces reversibil între cele două stări. În această situație se consideră o transformare izotermă reversibilă între cele două stări.

Atunci:

$$dS = \frac{\delta Q}{T} \quad (3.218)$$

Cum transformarea este izotermă iar pentru gazul ideal:

$$dU = \delta Q - \delta L = 0$$

se obține:

$$\delta Q = \delta L = p dV \quad (3.219)$$

Se utilizează ecuația termică de stare a gazului ideal

$$pV = \nu RT$$

și rezultă:

$$\frac{p}{T} = \frac{\nu R}{V} \quad (3.220)$$

Ținând cont de 3.219 și 3.220 relația 3.218 devine:

$$dS = \nu R \frac{dV}{V}$$

Integrând:

$$\Delta S = \nu R \int_{V_1}^{V_1+V_2} \frac{dV}{V} = \nu R \ln \frac{(V_1 + V_2)}{V_1} > 0$$

PROBLEMA 3.34 Două cantități de apă de masă M se găsesc la temperaturile T_1 și T_2 ($T_1 > T_2$). Cele două cantități de apă se introduc într-un calorimetru care le conferă o izolare adiabatică. Să se calculeze variația de entropie în procesul de atingere a echilibrului termic.

SOLUȚIE

Deoarece în cursul procesului de atingere a stării de echilibru, cantității de apă cu temperatura mai mică i se transmite o cantitate de căldură de la apa cu temperatură mai mare, pentru ca procesul să fie reversibil căldura cedată ar trebui să treacă înapoi de la sine. Din formularea lui Clausius a principiului II rezultă că acest lucru nu este posibil; în consecință procesul nu poate fi decât unul ireversibil. Ca și în problema precedentă, pentru calculul variației de entropie se consideră un proces reversibil între cele două stări.

Se utilizează ecuația calorimetrică:

$$Mc(T_e - T_2) = Mc(T_1 - T_e)$$

Pentru temperatura de echilibru rezultă:

$$T_e = \frac{T_1 + T_2}{2} \quad (3.221)$$

Se consideră că are loc un proces de răcire reversibil pentru cantitatea de apă de la temperatura T_1 la temperatura T_e ($T_1 > T_e$). Variația de entropie este:

$$\Delta S_1 = \int_{T_1}^{T_e} \frac{\delta Q}{T} = \int_{T_1}^{T_e} \frac{Mc dT}{T} = Mc \ln \frac{T_e}{T_1} \quad (3.222)$$

În mod analog pentru cantitatea de apă aflată la temperatura T_2 se consideră un proces reversibil de încălzire la temperatura T_e

$$\Delta S_2 = \int_{T_2}^{T_e} \frac{\delta Q}{T} = \int_{T_2}^{T_e} \frac{Mc dT}{T} = Mc \ln \frac{T_e}{T_2} \quad (3.223)$$

Din 3.222 și 3.223 rezultă:

$$\Delta S = \Delta S_1 + \Delta S_2 = Mc \left(\ln \frac{T_e}{T_1} + \ln \frac{T_e}{T_2} \right)$$

și considerând 3.221 se obține:

$$\Delta S = Mc \ln \frac{T_e^2}{T_1 T_2} = Mc \ln \frac{(T_1 + T_2)^2}{4T_1 T_2} > 0 \quad (3.224)$$

PROBLEMA 3.35 Să se arate că în cazul unei substanțe a cărei ecuație termică de stare are forma $p = p(V, T)$, este adevărată relația

$$\left(\frac{\partial U}{\partial V} \right)_T = T \left(\frac{\partial p}{\partial T} \right)_V - p \quad (3.225)$$

SOLUȚIE

În cazul unui proces reversibil:

$$dS = \frac{dU + pdV}{T} \quad (3.226)$$

Dacă $U = U(T, V)$

$$dU = \left(\frac{\partial U}{\partial V} \right)_T dV + \left(\frac{\partial U}{\partial T} \right)_V dT \quad (3.227)$$

relația 3.226 devine:

$$dS = \left[\frac{1}{T} \left(\frac{\partial U}{\partial V} \right)_T + \frac{p}{T} \right] dV + \frac{1}{T} \left(\frac{\partial U}{\partial T} \right)_V dT \quad (3.228)$$

Cum entropia poate fi considerată ca funcție de V și T și cum dS este o diferențială totală exactă

$$\frac{\partial^2 S}{\partial T \partial V} = \frac{\partial^2 S}{\partial V \partial T}$$

se obține:

$$\frac{\partial}{\partial T} \left[\frac{1}{T} \left(\frac{\partial U}{\partial V} \right)_T + \frac{p}{T} \right]_V = \frac{\partial}{\partial V} \left[\frac{1}{T} \left(\frac{\partial U}{\partial T} \right)_V \right]_T$$

de unde rezultă:

$$-\frac{1}{T^2} \left(\frac{\partial U}{\partial V} \right)_T + \frac{1}{T} \frac{\partial^2 U}{\partial T \partial V} - \frac{p}{T^2} + \frac{1}{T} \left(\frac{\partial p}{\partial T} \right)_V = \frac{1}{T} \frac{\partial^2 U}{\partial V \partial T} \quad (3.229)$$

U fiind și ea o diferențială totală exactă

$$\frac{\partial^2 U}{\partial T \partial V} = \frac{\partial^2 U}{\partial V \partial T}$$

și din 3.229 rezultă relația cerută:

$$\left(\frac{\partial U}{\partial V} \right)_T = T \left(\frac{\partial p}{\partial T} \right)_V - p$$

PROBLEMA 3.36 Să se arate că energia internă a unei substanțe pentru care ecuația de stare are forma $p = Tf(V)$ este independentă de volum.

SOLUȚIE

În problema precedentă s-a dedus că:

$$\left(\frac{\partial U}{\partial V} \right)_T = T \left(\frac{\partial p}{\partial T} \right)_V - p \quad (3.230)$$

Cum:

$$\left(\frac{\partial p}{\partial T} \right)_V = f(V) \quad (3.231)$$

atunci:

$$\left(\frac{\partial U}{\partial V} \right)_T = 0$$

adică energia internă nu depinde de volum.

PROBLEMA 3.37 Să se demonstreze pentru un fluid relația:

$$C_p - C_V = T \left(\frac{\partial p}{\partial T} \right)_V \left(\frac{\partial V}{\partial T} \right)_p = TV \frac{\alpha^2}{K_T} \quad (3.232)$$

unde α este coeficientul de dilatare izobar iar K_T este coeficientul de compresibilitate izoterm.

SOLUȚIE

Se ține cont de relația lui Robert - Mayer

$$C_p - C_V = \left[p + \left(\frac{\partial U}{\partial V} \right)_T \right] \left(\frac{\partial V}{\partial T} \right)_p \quad (3.233)$$

și de relația

$$\left(\frac{\partial U}{\partial V} \right)_T = T \left(\frac{\partial p}{\partial T} \right)_V - p \quad (3.234)$$

Se obține:

$$C_p - C_v = T \left(\frac{\partial p}{\partial T} \right)_V \left(\frac{\partial V}{\partial T} \right)_p \quad (3.235)$$

dar:

$$\left(\frac{\partial p}{\partial T} \right)_V = - \frac{\left(\frac{\partial V}{\partial T} \right)_p}{\left(\frac{\partial V}{\partial p} \right)_T} \quad (3.236)$$

Atunci 3.235 devine:

$$C_p - C_V = -T \frac{\left(\frac{\partial V}{\partial T} \right)_p^2}{\left(\frac{\partial V}{\partial p} \right)_T} \quad (3.237)$$

Cum:

$$\left(\frac{\partial V}{\partial T}\right)_p = \alpha V$$

$$\left(\frac{\partial V}{\partial p}\right)_T = -K_T V$$

se obține:

$$C_p - C_V = TV \frac{\alpha^2}{K_T}$$

PROBLEMA 3.38 Să se determine energia internă a unui gaz pentru care ecuația termică de stare este

$$p = \frac{u}{3} \quad (3.238)$$

unde u este energia unității de volum care depinde doar de temperatură.

SOLUȚIE

Pentru un gaz care ocupă volumul V la temperatura T energia internă este:

$$U = Vu(T) \quad (3.239)$$

Cum:

$$p = \frac{u(T)}{3} \quad (3.240)$$

folosind relația:

$$\left(\frac{\partial U}{\partial V}\right)_T = T \left(\frac{\partial p}{\partial T}\right)_V - p \quad (3.241)$$

densitatea de energie internă devine:

$$u(T) = \frac{1}{3} T \frac{du(T)}{dT} - \frac{u(T)}{3} \quad (3.242)$$

De aici rezultă:

$$\frac{du(T)}{u(T)} = \frac{4dT}{T} \quad (3.243)$$

Integrând se obține:

$$\ln u(T) = 4 \ln T + \text{const}$$

$$u(T) = \text{const} T^4$$

PROBLEMA 3.39 Utilizând relația lui Stefan-Boltzmann care pentru sistemul radiație termică leagă densitatea de energie de temperatură $u = \sigma T^4$ (σ este o constantă) precum și relația ce leagă densitatea de energie de presiune $p = u/3$, să se determine entropia și ecuația transformării adiabactice pentru acest sistem.

SOLUȚIE

Energia internă a unui volum V ocupat de radiația termică este:

$$U = Vu$$

de unde:

$$dU = u dV + V du \quad (3.244)$$

Atunci diferențiala entropiei

$$dS = \frac{\delta Q}{T} = \frac{dU + p dV}{T}$$

devine ținând cont de relația 3.244

$$dS = \frac{u dV + V du + p dV}{T} \quad (3.245)$$

Cum expresia densității de energie este:

$$u = \sigma T^4 \quad \text{iar presiunea este} \quad p = \frac{u}{4} = \frac{\sigma T^4}{4}$$

relația 3.245 devine:

$$dS = 4\sigma VT^2 dT + \frac{4}{3}\sigma T^3 dV \quad (3.246)$$

Prin integrare se obține:

$$S = \frac{4}{3}T^3 V \quad (3.247)$$

Ecuția adiabatei se obține punând $S = \text{const.}$

$$T^3 V = \text{const}$$

PROBLEMA 3.40 Să se determine expresia entropiei unui gaz ideal alcătuit din ν kmoli, cunoscându-se C_V – căldura molară la volum constant și C_p – căldura molară la presiune constantă.

SOLUȚIE

Utilizăm ecuația fundamentală pentru procese reversibile:

$$TdS = dU + pdV \quad (3.248)$$

în care

$$dU = \nu C_V dT$$

iar

$$p = \frac{\nu RT}{V}$$

Atunci:

$$dS = \nu C_V \frac{dT}{T} + \nu R \frac{dV}{V} \quad (3.249)$$

Integrând rezultă:

$$S(T, V) = \nu C_V \ln T + \nu R \ln V + \text{const} \quad (3.250)$$

Pentru a obține expresia entropiei în funcție de parametri p și T se înlocuiește în relația 3.250 volumul obținut din ecuația termică de stare:

$$V = \frac{\nu RT}{p} \quad (3.251)$$

Rezultă:

$$S(T, p) = \nu C_V \ln T + \nu R \ln \left(\frac{\nu RT}{p} \right) + \text{const}$$

$$S(T, p) = \nu C_p \ln T - \nu R \ln p + \text{const} \quad (3.252)$$

Pentru a obține expresia entropiei în coordonate p și V se înlocuiește temperatura T din ecuația de stare:

$$T = \frac{pV}{\nu R}$$

în ecuația 3.250. Se obține:

$$S(p, V) = \nu C_V \ln \left(\frac{pV}{\nu R} \right) + \nu R \ln V + \text{const}$$

$$S(p, V) = \nu C_V \ln p + \nu C_p \ln V + \text{const}$$

PROBLEMA 3.41 Fie un gaz real care satisface ecuația de stare Van-der -Waals:

$$\left(p + \frac{\nu^2 a}{V^2} \right) (V - \nu b) = \nu RT \quad (3.253)$$

Considerând constantă căldura molară la volum constant C_V să se stabilească:

- expresia energiei interne
- expresia entropiei
- ecuația transformării adiabatice.

SOLUȚIE

a) Se consideră energia funcție de volum și temperatură:

$$U = U(V, T)$$

Atunci:

$$dU = \left(\frac{\partial U}{\partial V} \right)_T dV + \left(\frac{\partial U}{\partial T} \right)_V dT \quad (3.254)$$

În această relație:

$$\left(\frac{\partial U}{\partial T} \right)_V = \nu C_V \quad (3.255)$$

unde C_V este căldura molară la volum constant. În plus

$$\left(\frac{\partial U}{\partial V} \right)_T = T \left(\frac{\partial p}{\partial T} \right)_V - p \quad (3.256)$$

Din ecuația de stare a gazului real rezultă:

$$p = \frac{\nu RT}{V - \nu b} - \frac{\nu^2 a}{V^2} \quad (3.257)$$

Atunci:

$$\left(\frac{\partial p}{\partial T} \right)_V = \frac{\nu R}{V - \nu b} \quad (3.258)$$

Ținând cont de relațiile 3.257 și 3.258 relația 3.256 devine:

$$\left(\frac{\partial U}{\partial V} \right)_T = \frac{\nu^2 a}{V^2} \quad (3.259)$$

Considerând 3.255 și 3.259 relația 3.254 devine:

$$dU = \nu C_V dT + \nu^2 a \frac{dV}{V^2} \quad (3.260)$$

Prin integrare se obține:

$$U = \nu C_V T - \frac{\nu^2 a}{V} + \text{const} \quad (3.261)$$

Se observă că în cazul gazului real în afara termenului $\nu C_V T$ în expresia energiei interne intră și termenul $-\nu^2 a/V$ care exprimă contribuția energiilor potențiale de interacție dintre moleculele gazului.

b) Din relația fundamentală pentru procesele reversibile rezultă:

$$dS = \frac{\delta Q}{T} = \frac{dU + pdV}{T} \quad (3.262)$$

Considerând relațiile 3.257 și 3.260, relația 3.262 devine:

$$dS = \frac{\nu C_V dT}{T} + \frac{\nu R dV}{V - \nu b} \quad (3.263)$$

Se integrează această relație și se obține:

$$S = \nu C_V \ln T + \nu R \ln (V - \nu b) + S_0 \quad (3.264)$$

c) În cazul unui proces adiabatic $S = \text{const.}$ Din relația 3.264 se obține ecuația procesului adiabatic.

$$T^{\frac{C_V}{R}} (V - \nu b) = \text{const}$$

PROBLEMA 3.42 Să se demonstreze relațiile lui Maxwell în cazul unor procese reversibile pentru un fluid oarecare caracterizat de parametri p, V, T .

$$\left(\frac{\partial T}{\partial V} \right)_S = - \left(\frac{\partial p}{\partial S} \right)_V \quad (3.265)$$

$$\left(\frac{\partial T}{\partial p} \right)_S = \left(\frac{\partial V}{\partial S} \right)_p \quad (3.266)$$

$$\left(\frac{\partial p}{\partial T} \right)_V = \left(\frac{\partial S}{\partial V} \right)_T \quad (3.267)$$

$$\left(\frac{\partial S}{\partial p} \right)_T = - \left(\frac{\partial V}{\partial T} \right)_p \quad (3.268)$$

SOLUȚIE

Demonstrațiile se fac pornind de la faptul că U , F , G , H sunt funcții de stare. Atunci dU , dF , dG , dH sunt diferențiale totale exacte. Aceasta implică faptul că dacă forma diferențială

$$dF = Xdx + Ydy$$

este o diferențială exactă este valabilă relația:

$$\frac{\partial X}{\partial y} = \frac{\partial Y}{\partial x}$$

a)

$$dU = TdS - pdV$$

$$\left(\frac{\partial T}{\partial V}\right)_S = -\left(\frac{\partial p}{\partial S}\right)_V \quad (3.269)$$

b)

$$H = U + pV$$

$$dH = dU + Vdp + pdV = TdS - pdV + Vdp + pdV = TdS + Vdp$$

$$\left(\frac{\partial T}{\partial p}\right)_S = \left(\frac{\partial V}{\partial S}\right)_p \quad (3.270)$$

c)

$$F = U - TS$$

$$dF = dU - SdT - TdS = TdS - pdV - SdT - TdS = -pdV - SdT$$

$$\left(\frac{\partial p}{\partial T}\right)_V = \left(\frac{\partial S}{\partial V}\right)_T \quad (3.271)$$

d)

$$G = U - TS - pV$$

$$dG = -SdT + Vdp$$

$$\left(\frac{\partial S}{\partial p}\right)_T = -\left(\frac{\partial V}{\partial T}\right)_p \quad (3.272)$$

PROBLEMA 3.43 Să se determine variația mărimilor T , V , U și H în cazul unei comprimări adiabatică.

SOLUȚIE

Variabilele independente pe care le considerăm în acest caz sunt S și p . Acesta înseamnă că $T = T(S, p)$ și atunci:

$$dT = \left(\frac{\partial T}{\partial S}\right)_p dS + \left(\frac{\partial T}{\partial p}\right)_S dp$$

Dar cum $dS = 0$ pentru o transformare adiabatică, pentru variația temperaturii se obține:

$$dT = \left(\frac{\partial T}{\partial p}\right)_S dp$$

Conform relației 3.270:

$$\left(\frac{\partial T}{\partial p}\right)_S = \left(\frac{\partial V}{\partial S}\right)_p$$

astfel că relația de mai sus devine:

$$dT = \left(\frac{\partial V}{\partial S}\right)_p dp = \left(\frac{\partial V}{\partial T}\right)_p \left(\frac{\partial T}{\partial S}\right)_p dp \quad (3.273)$$

Ținând cont de expresia coeficientului de dilatare izobar:

$$\alpha = \frac{1}{V} \left(\frac{\partial V}{\partial T}\right)_p$$

rezultă:

$$\left(\frac{\partial V}{\partial T}\right)_p = \alpha V \quad (3.274)$$

Din:

$$C_p = \left(\frac{\delta Q}{dT}\right)_p = T \left(\frac{\partial S}{\partial T}\right)_p$$

rezultă:

$$\left(\frac{\partial T}{\partial S}\right)_p = \frac{T}{C_p} \quad (3.275)$$

Ținând cont de relațiile 3.274 și 3.275, relația 3.273 devine:

$$dT = \frac{V\alpha T}{C_p} dp \quad (3.276)$$

Din expresia coeficientului de compresie adiabatic:

$$K_S = -\frac{1}{V} \left(\frac{\partial V}{\partial p}\right)_S$$

rezultă:

$$\left(\frac{\partial V}{\partial p}\right)_S = -K_S V$$

și variația volumului este:

$$dV = \left(\frac{\partial V}{\partial p}\right)_S dp = -K_S V dp \quad (3.277)$$

Variația energiei interne se scrie:

$$dU = \left(\frac{\partial U}{\partial p}\right)_S dp = \left(\frac{\partial U}{\partial V}\right)_S \left(\frac{\partial V}{\partial p}\right)_S dp \quad (3.278)$$

Din relația:

$$dU = TdS - pdV$$

rezultă:

$$\left(\frac{\partial U}{\partial V}\right)_S = -p$$

În plus:

$$\left(\frac{\partial V}{\partial p}\right)_S = -K_S V$$

Astfel relația 3.278 devine:

$$dU = pV K_S dp \quad (3.279)$$

Variația entalpiei este:

$$dH = \left(\frac{\partial H}{\partial p}\right)_S dp \quad (3.280)$$

Cum:

$$dH = TdS + Vdp$$

atunci:

$$\left(\frac{\partial H}{\partial p}\right)_S = V$$

Astfel relația 3.280 devine:

$$dH = Vdp$$

PROBLEMA 3.44 Să se determine variația entropiei S , volumului V , energiei interne U , și a entalpiei H în cazul unei comprimări izoterme.

SOLUȚIE

Variabilele independente sunt T și p . În cazul unui proces izoterm variația entropiei este:

$$dS = \left(\frac{\partial S}{\partial p}\right)_T dp \quad (3.281)$$

Dar conform relației 3.270:

$$\left(\frac{\partial S}{\partial p}\right)_T = -\left(\frac{\partial V}{\partial T}\right)_p = -V\alpha$$

Atunci relația 3.281 devine:

$$dS = -V\alpha dp \quad (3.282)$$

Variația volumului este:

$$dV = \left(\frac{\partial V}{\partial p}\right)_T dp = -VK_T dp \quad (3.283)$$

Pentru a exprima variația energiei interne se consideră $S = S(T, p)$ și $V = V(T, p)$.

Atunci:

$$dS = \left(\frac{\partial S}{\partial p}\right)_T dp + \left(\frac{\partial S}{\partial T}\right)_p dT \quad (3.284)$$

$$dV = \left(\frac{\partial V}{\partial p}\right)_T dp + \left(\frac{\partial V}{\partial T}\right)_p dT \quad (3.285)$$

Cum

$$dU = TdS - pdV \quad (3.286)$$

dacă se consideră relațiile 3.284 și 3.285 relația 3.286 devine:

$$\begin{aligned} dU &= T \left[\left(\frac{\partial S}{\partial p}\right)_T dp + \left(\frac{\partial S}{\partial T}\right)_p dT \right] - p \left[\left(\frac{\partial V}{\partial p}\right)_T dp + \left(\frac{\partial V}{\partial T}\right)_p dT \right] \\ dU &= \left[T \left(\frac{\partial S}{\partial p}\right)_T - p \left(\frac{\partial V}{\partial p}\right)_T \right] dp + \left[T \left(\frac{\partial S}{\partial T}\right)_p - p \left(\frac{\partial V}{\partial T}\right)_p \right] dT \end{aligned} \quad (3.287)$$

Atunci:

$$\left(\frac{\partial U}{\partial p}\right)_T = T \left(\frac{\partial S}{\partial p}\right)_T - p \left(\frac{\partial V}{\partial p}\right)_T \quad (3.288)$$

Cum:

$$\left(\frac{\partial S}{\partial p}\right)_T = -\left(\frac{\partial V}{\partial T}\right)_p = -\alpha V \quad (3.289)$$

$$\left(\frac{\partial V}{\partial p}\right)_T = -V K_T \quad (3.290)$$

relația 3.288 devine:

$$\left(\frac{\partial U}{\partial p}\right)_T = -\alpha VT + pV K_T \quad (3.291)$$

Astfel într-un proces izoterm:

$$dU = \left(\frac{\partial U}{\partial p}\right)_T dp = V(-\alpha T + pK_T) dp \quad (3.292)$$

Variația entalpiei este:

$$dH = TdS + Vdp$$

iar cu ajutorul relației 3.284 se obține:

$$\begin{aligned} dH &= T \left[\left(\frac{\partial S}{\partial p}\right)_T dp + \left(\frac{\partial S}{\partial T}\right)_p dT \right] + Vdp \\ dH &= \left[T \left(\frac{\partial S}{\partial p}\right)_T + V \right] dp + T \left(\frac{\partial S}{\partial T}\right)_p dT \end{aligned}$$

Deoarece H este o diferențială totală exactă, folosind relația 3.289 se obține:

$$\left(\frac{\partial H}{\partial p}\right)_T = T \left(\frac{\partial S}{\partial p}\right)_T + V = -T \left(\frac{\partial V}{\partial T}\right)_p + V = -TV\alpha + V$$

Astfel într-un proces izoterm:

$$dH = V(1 - T\alpha) dp$$

PROBLEMA 3.45 Să se determine variația energiei interne U , entropiei S și a temperaturii T în cazul dilatării izobare.

SOLUȚIE

În acest caz variabilele independente sunt presiunea și volumul. Cum $S(p, V)$ se obține:

$$dS = \left(\frac{\partial S}{\partial p} \right)_V dp + \left(\frac{\partial S}{\partial V} \right)_p dV \quad (3.293)$$

Deoarece

$$dU = TdS - pdV \quad (3.294)$$

considerând relația 3.293 se obține:

$$dU = T \left(\frac{\partial S}{\partial p} \right)_V dp + \left[T \left(\frac{\partial S}{\partial V} \right)_p - p \right] dV \quad (3.295)$$

Cum presiunea este constantă:

$$dU = \left[T \left(\frac{\partial S}{\partial V} \right)_p - p \right] dV \quad (3.296)$$

și

$$\left(\frac{\partial S}{\partial V} \right)_p = \left(\frac{\partial S}{\partial T} \right)_p \left(\frac{\partial T}{\partial V} \right)_p = \frac{C_p}{T} \frac{1}{\alpha V} \quad (3.297)$$

iar

$$C_p = \left(\frac{\delta Q}{dT} \right)_p = T \left(\frac{\partial S}{\partial T} \right)_p$$

Atunci relația 3.296 devine:

$$dU = \left(\frac{C_p}{TV\alpha} - p \right) dV \quad (3.298)$$

Variația entropiei

$$dS = \left(\frac{\partial S}{\partial V} \right)_p dV$$

se poate pune sub forma:

$$dS = \frac{C_p}{TV\alpha} dV$$

dacă se consideră relația 3.297.

Variația temperaturii se poate exprima în funcție de coeficientul de dilatare izobar:

$$dT = \left(\frac{\partial T}{\partial V} \right)_p dV = \frac{1}{\alpha V} dV$$

PROBLEMA 3.46 Să se determine $\delta Q = TdS$ în funcție de variabilele (p, V) , (p, T) , (V, T) considerând cunoscuți coeficienții calorici și termici ai sistemului.

SOLUȚIE

a) În variabilele V , T diferențiala entropiei este:

$$dS = \left(\frac{\partial S}{\partial V} \right)_T dV + \left(\frac{\partial S}{\partial T} \right)_V dT \quad (3.299)$$

Utilizăm relația 3.271:

$$\left(\frac{\partial S}{\partial V} \right)_T = \left(\frac{\partial p}{\partial T} \right)_V = - \frac{\left(\frac{\partial V}{\partial T} \right)_p}{\left(\frac{\partial V}{\partial p} \right)_T} = \frac{\alpha}{K_T} \quad (3.300)$$

unde s-a ținut cont de definițiile lui α și K_T .

În plus:

$$\left(\frac{\partial S}{\partial T} \right)_V = \frac{C_V}{T} \quad (3.301)$$

Relația este justificată deoarece:

$$C_V = \left(\frac{\delta Q}{dT} \right)_V = T \left(\frac{\partial S}{\partial T} \right)_V$$

Atunci 3.299 devine:

$$dS = \frac{C_V}{T} dT + \frac{\alpha}{K_T} dV \quad (3.302)$$

și

$$\delta Q = C_V dT + \frac{T\alpha}{K_T} dV$$

b) În coordonate p și T diferențiala entropiei este:

$$dS = \left(\frac{\partial S}{\partial p} \right)_T dp + \left(\frac{\partial S}{\partial T} \right)_p dT \quad (3.303)$$

Se utilizează relația 3.272 și se obține:

$$\left(\frac{\partial S}{\partial p} \right)_T = - \left(\frac{\partial V}{\partial T} \right)_p = -\alpha V \quad (3.304)$$

precum și relația

$$\left(\frac{\partial S}{\partial T} \right)_p = \frac{C_p}{T} \quad (3.305)$$

demonstrată în problema precedentă

Atunci 3.303 devine:

$$dS = \frac{C_p}{T} dT - \alpha V T dp \quad (3.306)$$

și:

$$\delta Q = C_p dT - \alpha V T dp \quad (3.307)$$

c) În coordonate V , p diferențiala entropiei este:

$$dS = \left(\frac{\partial S}{\partial p} \right)_V dp + \left(\frac{\partial S}{\partial V} \right)_p dV \quad (3.308)$$

Se utilizează relația 3.272 și se obține:

$$\left(\frac{\partial S}{\partial p}\right)_V = -\left(\frac{\partial V}{\partial T}\right)_S = \frac{\left(\frac{\partial S}{\partial T}\right)_V}{\left(\frac{\partial S}{\partial V}\right)_T} \quad (3.309)$$

unde:

$$\left(\frac{\partial S}{\partial T}\right)_V = \frac{C_V}{T} \quad (3.310)$$

iar:

$$\left(\frac{\partial S}{\partial V}\right)_T = \left(\frac{\partial p}{\partial T}\right)_V = -\frac{\left(\frac{\partial V}{\partial T}\right)_p}{\left(\frac{\partial V}{\partial p}\right)_T} = \frac{\alpha}{K_T} \quad (3.311)$$

În 3.311 s-a ținut cont de definițiile lui α și K_T (date în problema 3.6).

Atunci 3.309 devine:

$$\left(\frac{\partial S}{\partial p}\right)_V = \frac{C_V}{T} \frac{K_T}{\alpha} \quad (3.312)$$

Deoarece:

$$\left(\frac{\partial S}{\partial V}\right)_p = \left(\frac{\partial p}{\partial T}\right)_S = -\frac{\left(\frac{\partial S}{\partial T}\right)_p}{\left(\frac{\partial S}{\partial p}\right)_T} \quad (3.313)$$

și:

$$\begin{aligned} \left(\frac{\partial S}{\partial T}\right)_p &= \frac{C_p}{T} \\ \left(\frac{\partial S}{\partial p}\right)_T &= -\left(\frac{\partial V}{\partial T}\right)_p = -V\alpha \end{aligned} \quad (3.314)$$

atunci relația 3.313 devine:

$$\left(\frac{\partial S}{\partial V}\right)_p = \frac{C_p}{\alpha TV} \quad (3.315)$$

Considerând relațiile 3.312 și 3.313 expresia 3.308 devine:

$$dS = \frac{C_V K_T}{T\alpha} dp + \frac{C_p}{VT\alpha} dV \quad (3.316)$$

de unde rezultă:

$$\delta Q = T dS = \frac{C_V K_T}{\alpha} dp + \frac{C_p}{V\alpha} dV \quad (3.317)$$

PROBLEMA 3.47 Să se arate că ciclul Carnot ireversibil are randamentul cel mai mare în comparație cu orice alt ciclu ce funcționează între două temperaturi extreme date.

SOLUȚIE

Din inegalitatea pentru procese ireversibile:

$$dS \geq \frac{\delta Q}{T} \quad (3.318)$$

se obține pentru un ciclu:

$$\oint dS > \oint \frac{\delta Q}{T} \quad (3.319)$$

Cum entropia este o funcție de stare

$$\oint dS = 0 \quad (3.320)$$

atunci din 3.319 se obține:

$$\oint \frac{\delta Q}{T} \leq 0 \quad (3.321)$$

Se notează cu:

$$Q_1 = \int_p \delta Q > 0 \quad (3.322)$$

căldura primită în cursul ciclului.

Se notează cu:

$$|Q_2| = - \int_C \delta Q > 0 \quad (3.323)$$

căldura cedată în cursul ciclului.

Atunci dacă se ține cont de relațiile 3.322 și 3.323, relația 3.321 se poate scrie:

$$\oint \frac{\delta Q}{T} = \int_p \frac{\delta Q}{T} + \int_C \frac{\delta Q}{T} \leq 0 \quad (3.324)$$

sau:

$$\int_p \frac{\delta Q}{T} \leq - \int_C \frac{\delta Q}{T} \quad (3.325)$$

Se notează cu T_M temperatura maximă atinsă în cursul ciclului. Atunci

$$\int_p \frac{\delta Q}{T} \geq \frac{\int_p \delta Q}{T_M} = \frac{Q_1}{T_M} \quad (3.326)$$

sau:

$$\frac{Q_1}{T_M} \leq \int_p \frac{\delta Q}{T} \quad (3.327)$$

Se notează cu T_m temperatura minimă atinsă în cursul ciclului. Atunci:

$$- \int_C \frac{\delta Q}{T} \leq \frac{- \int_C \delta Q}{T_m} = \frac{|Q_2|}{T_m} \quad (3.328)$$

Din relațiile 3.325 , 3.327 , 3.328 obținem:

$$\frac{Q_1}{T_M} \leq \frac{|Q_2|}{T_m} \quad (3.329)$$

$$\frac{T_m}{T_M} \leq \frac{|Q_2|}{Q_1}$$

$$1 - \frac{T_m}{T_M} \geq 1 - \frac{|Q_2|}{Q_1}$$

adică randamentul ciclului Carnot este randamentul cel mai mare pentru ciclurile care se desfășoară între două temperaturi date.

PROBLEMA 3.48 În cazul unei mașini termice ce lucrează după un ciclu Carnot există posibilitatea ca diferența $T_1 - T_2$ dintre temperaturile sursei calde și reci să fie mărită cu ΔT prin încălzirea sursei calde și prin răcirea sursei reci. Cum trebuie distribuită variația ΔT pe cele două surse pentru ca randamentul să fie maxim?

SOLUȚIE

Se consideră:

$$\Delta T = \Delta T_1 + \Delta T_2 \quad (3.330)$$

unde ΔT_1 reprezintă creșterea de temperatură a sursei calde iar ΔT_2 reprezintă scăderea în temperatură a sursei reci.

În aceste condiții randamentul devine:

$$\eta = 1 - \frac{T_2 - \Delta T_2}{T_1 + \Delta T_1} \quad (3.331)$$

Din relația 3.330 se obține:

$$\Delta T_2 = \Delta T - \Delta T_1$$

astfel că relația 3.331 devine:

$$\eta = 1 - \frac{T_2 - \Delta T + \Delta T_1}{T_1 + \Delta T_1} = \frac{T_1 + \Delta T - T_2}{T_1 + \Delta T_1} \quad (3.332)$$

Randamentul este maxim când numitorul este minim, adică $\Delta T_1 = 0$.

Aceasta înseamnă că este mai eficient să se scadă temperatura sursei reci pentru a mări randamentul mașinii termice.

PROBLEMA 3.49 Să se determine randamentul ciclului Otto format din două adiabate și două izocore (Fig. 3.9) având ca substanță de lucru un gaz ideal. Se cunosc $V_1/V_2 = \varepsilon$ și $\gamma = C_p/C_V$.

SOLUȚIE

Căldurile schimbate de sistem pentru fiecare transformare în parte sunt:

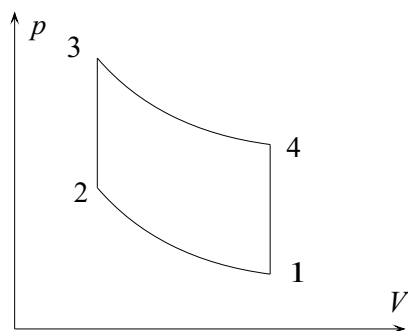


Figura 3.9: Ciclul Otto

$$Q_{12} = 0$$

$$Q_{23} = \nu C_p (T_3 - T_2)$$

$$Q_{34} = 0$$

$$Q_{41} = \nu C_p (T_1 - T_4)$$

Atunci:

$$\eta = 1 - \frac{|Q_{41}|}{Q_{12}} = 1 - \frac{T_4 - T_1}{T_3 - T_2} = 1 - \frac{T_1}{T_2} \frac{\left(\frac{T_4}{T_1} - 1\right)}{\left(\frac{T_3}{T_1} - 1\right)} \quad (3.333)$$

Din transformarea 1-2 se obține:

$$\frac{T_1}{T_2} = \left(\frac{V_1}{V_2}\right)^{\gamma-1} = \frac{1}{\varepsilon^{\gamma-1}} \quad (3.334)$$

Se scriu transformările 1-2 , 3-4 în coordonate p, T

$$T_1 V_1^{\gamma-1} = T_2 V_2^{\gamma-1} \quad (3.335)$$

$$T_4 V_1^{\gamma-1} = T_3 V_2^{\gamma-1} \quad (3.336)$$

Din aceste ultime două relații prin împărțire se obține:

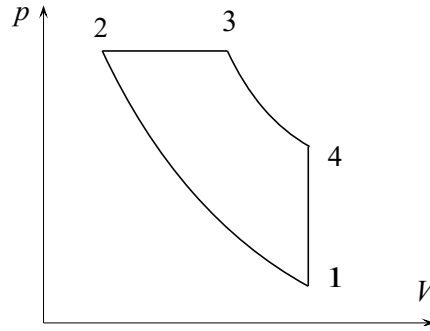


Figura 3.10: Ciclul Diesel

$$\frac{T_4}{T_1} = \frac{T_3}{T_2} \quad (3.337)$$

Ținând cont de relațiile 3.334 și 3.57 relația 3.333 devine:

$$\eta = 1 - \frac{1}{\varepsilon^\gamma}$$

PROBLEMA 3.50 Să se determine randamentul ciclului Diesel format din două adiabate, o izobară și o izocoră (Fig.3.10) având ca substanță de lucru un gaz ideal. Se cunosc $\gamma = C_p/C_V$, $V_1/V_2 = \varepsilon$ și $V_3/V_2 = \rho$.

SOLUȚIE

Se calculează căldurile schimbate de sistem pentru fiecare transformare în parte corespunzătoare ciclului reprezentat în Fig. 3.10.

Rezultă:

$$Q_{12} = 0$$

$$Q_{23} = \nu C_p (T_3 - T_2) > 0$$

$$Q_{34} = 0$$

$$Q_{41} = \nu C_V (T_1 - T_4) < 0$$

Randamentul este:

$$\eta = 1 - \frac{|Q_{41}|}{Q_{23}} = 1 - \frac{1}{\gamma} \frac{T_1}{T_2} \left(\frac{\frac{T_4}{T_1} - 1}{\frac{T_3}{T_2} - 1} \right) \quad (3.338)$$

Din transformarea 1-2 rezultă:

$$\frac{T_1}{T_2} = \left(\frac{V_2}{V_1} \right)^{\gamma-1} = \frac{1}{\varepsilon^{\gamma-1}} \quad (3.339)$$

iar din transformarea 2 - 3:

$$\frac{T_3}{T_2} = \frac{V_3}{V_2} = \rho \quad (3.340)$$

Pentru a calcula raportul T_4/T_1 acesta va fi exprimat sub forma:

$$\frac{T_4}{T_1} = \left(\frac{T_4}{T_3} \right) \left(\frac{T_3}{T_2} \right) \left(\frac{T_2}{T_1} \right) \quad (3.341)$$

Din transformarea adiabatică 3 - 4 rezultă:

$$\frac{T_4}{T_3} = \left(\frac{V_3}{V_1} \right)^{\gamma-1} = \left(\frac{V_3}{V_2} \frac{V_2}{V_1} \right)^{\gamma-1} = \left(\frac{\rho}{\varepsilon} \right)^{\gamma-1} \quad (3.342)$$

Ținând cont de relațiile 3.339 și 3.340 relația 3.341 devine:

$$\frac{T_4}{T_1} = \rho^\gamma \quad (3.343)$$

Atunci randamentul este:

$$\eta = 1 - \frac{1}{\gamma} \frac{(\rho^\gamma - 1)}{\varepsilon^{\gamma-1} (\rho - 1)}$$

PROBLEMA 3.51 Să se calculeze randamentul unei mașini termice ce lucrează după un ciclul Joule care este compus din două adiabate și din două izobare (p_1, p_2) , substanța de lucru fiind un gaz ideal cu exponentul adiabetic γ . Se cunoaște raportul $\varepsilon = p_2/p_1$, $(p_2 > p_1)$.

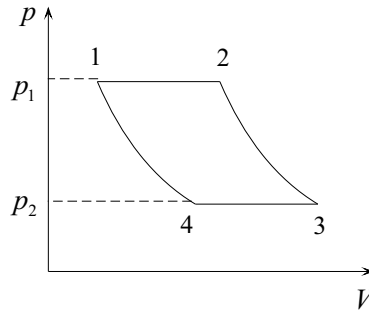


Figura 3.11: Ciclul Joule

SOLUȚIE

Reprezentarea ciclului în coordonate (p, V) este dată în Fig. 3.11
Căldurile schimbate de sistem cu mediul extern sunt:

$$Q_{12} = \nu C_p (T_2 - T_1) > 0$$

$$Q_{23} = 0$$

$$Q_{34} = \nu C_V (T_4 - T_3) < 0$$

$$Q_{41} = 0$$

Atunci randamentul este:

$$\eta = 1 - \frac{|Q_{34}|}{Q_{12}} = 1 - \frac{T_3 - T_4}{T_2 - T_1} = 1 - \frac{T_3}{T_2} \frac{\left(1 - \frac{T_4}{T_3}\right)}{\left(1 - \frac{T_1}{T_2}\right)} \quad (3.344)$$

Din transformările 1 - 4 , 2 -3 se obține:

$$T_2 p_1^{\frac{1-\gamma}{\gamma}} = T_3 p_2^{\frac{1-\gamma}{\gamma}} \quad (3.345)$$

$$T_1 p_1^{\frac{1-\gamma}{\gamma}} = T_4 p_2^{\frac{1-\gamma}{\gamma}} \quad (3.346)$$

de unde prin împărțire rezultă:

$$\frac{T_2}{T_1} = \frac{T_3}{T_4} \quad (3.347)$$

Ținând cont de relațiile 3.345, 3.346 și 3.347, relația 3.341 devine:

$$\eta = 1 - \left(\frac{p_1}{p_2}\right)^{\frac{1-\gamma}{\gamma}} = 1 - \left(\frac{1}{\varepsilon}\right)^{\frac{1-\gamma}{\gamma}}$$

PROBLEMA 3.52 Să se demonstreze relația:

$$\left(\frac{\partial H}{\partial p}\right)_T = -T \left(\frac{\partial V}{\partial T}\right)_p + V \quad (3.348)$$

SOLUȚIE

Se pornește de la expresia entalpiei:

$$H = U + pV \quad (3.349)$$

Prin diferențiere obținem:

$$dH = TdS + Vdp \quad (3.350)$$

$$dS = \frac{dH - Vdp}{T} \quad (3.351)$$

dar:

$$dH = \left(\frac{\partial H}{\partial T}\right)_p dT + \left(\frac{\partial H}{\partial p}\right)_T dp \quad (3.352)$$

astfel încât:

$$dS = \left[\frac{1}{T} \left(\frac{\partial H}{\partial p}\right)_T - \frac{V}{T}\right] dp + \frac{1}{T} \left(\frac{\partial H}{\partial T}\right)_p dT \quad (3.353)$$

Cum dS este o diferențială totală exactă:

$$\frac{\partial}{\partial T} \left[\frac{1}{T} \left(\frac{\partial H}{\partial p} \right)_T - \frac{V}{T} \right]_p = \frac{\partial}{\partial p} \left[\frac{1}{T} \left(\frac{\partial H}{\partial T} \right)_p \right]_T \quad (3.354)$$

de unde rezultă:

$$\frac{1}{T} \frac{\partial^2 H}{\partial T \partial p} - \frac{1}{T^2} \left(\frac{\partial H}{\partial p} \right)_T + \frac{V}{T^2} - \frac{1}{T} \left(\frac{\partial V}{\partial T} \right)_p = \frac{1}{T} \frac{\partial^2 H}{\partial p \partial T}$$

Atunci:

$$\left(\frac{\partial H}{\partial p} \right)_T = -T \left(\frac{\partial V}{\partial T} \right)_p + V$$

PROBLEMA 3.53 Să se găsească expresia diferențială pentru entropia unui gaz pentru care:

$$\alpha = \frac{1}{V} \left(\frac{\partial V}{\partial T} \right)_p = \text{const} \quad (3.355)$$

$$C_p = \text{const} \quad (3.356)$$

SOLUȚIE

Cum:

$$H = U + pV \quad (3.357)$$

$$dH = TdS + Vdp \quad (3.358)$$

Atunci:

$$dS = \frac{dH}{T} - \frac{V}{T} dp \quad (3.359)$$

Considerând $H = H(T, p)$:

$$dH = \left(\frac{\partial H}{\partial T} \right)_p dT + \left(\frac{\partial H}{\partial p} \right)_T dp = C_p dT + \left(\frac{\partial H}{\partial p} \right)_T dp \quad (3.360)$$

Așa cum s-a demonstrat în problema 3.52:

$$\left(\frac{\partial H}{\partial p}\right)_T = -T \left(\frac{\partial V}{\partial T}\right)_p + V \quad (3.361)$$

Atunci relația 3.360 devine:

$$dH = C_p dT + \left[-T \left(\frac{\partial V}{\partial T}\right)_p + V \right] dp \quad (3.362)$$

Ținând cont de 3.362, 3.359 devine:

$$dS = \frac{C_p}{T} dT - \left(\frac{\partial V}{\partial T}\right)_p dp \quad (3.363)$$

Utilizând expresia coeficientului de dilatare izoterm

$$\alpha = \frac{1}{V} \left(\frac{\partial V}{\partial T}\right)_p \quad (3.364)$$

relația 3.363 devine:

$$dS = \frac{C_p}{T} dT - V \alpha dp \quad (3.365)$$

PROBLEMA 3.54 Să se demonstreze că

$$\alpha_S = \frac{1}{V} \left(\frac{\partial V}{\partial T}\right)_S \quad (3.366)$$

coeficientul de dilatare adiabatic poate fi exprimat și sub forma:

$$\alpha_S = -\frac{C_V}{VT} \left(\frac{\partial T}{\partial p}\right)_V \quad (3.367)$$

SOLUȚIE

Se consideră $S = S(T, V)$:

$$dS = \left(\frac{\partial S}{\partial T}\right)_V dT + \left(\frac{\partial S}{\partial V}\right)_T dV \quad (3.368)$$

Rezultă:

$$\left(\frac{\partial V}{\partial T}\right)_S = -\frac{\left(\frac{\partial S}{\partial T}\right)_V}{\left(\frac{\partial S}{\partial V}\right)_T} \quad (3.369)$$

Dar:

$$\left(\frac{\partial S}{\partial T}\right)_V = \frac{C_V}{T} \quad (3.370)$$

și cum:

$$\left(\frac{\partial S}{\partial V}\right)_T = \left(\frac{\partial p}{\partial T}\right)_V \quad (3.371)$$

relația 3.368 devine:

$$\left(\frac{\partial V}{\partial T}\right)_S = -\frac{C_V}{T} \left(\frac{\partial T}{\partial p}\right)_V \quad (3.372)$$

Atunci:

$$\alpha_S = -\frac{C_V}{VT} \left(\frac{\partial T}{\partial p}\right)_V$$

PROBLEMA 3.55 Să se demonstreze relațiile:

$$\left(\frac{\partial C_V}{\partial V}\right)_T = T \left(\frac{\partial^2 p}{\partial T^2}\right)_V \quad (3.373)$$

$$\left(\frac{\partial C_p}{\partial p}\right)_T = -T \left(\frac{\partial^2 V}{\partial T^2}\right)_p \quad (3.374)$$

SOLUȚIE

Cum:

$$C_V = T \left(\frac{\partial S}{\partial T}\right)_V \quad (3.375)$$

se obține:

$$\left(\frac{\partial C_V}{\partial V}\right)_T = \frac{\partial}{\partial V} \left[T \left(\frac{\partial S}{\partial T}\right)_V \right]_T = T \frac{\partial}{\partial T} \left[\left(\frac{\partial S}{\partial V}\right)_T \right]_V \quad (3.376)$$

Cum:

$$\left(\frac{\partial S}{\partial V}\right)_T = \left(\frac{\partial p}{\partial T}\right)_V \quad (3.377)$$

din relația 3.376 se obține:

$$\left(\frac{\partial C_V}{\partial V}\right)_T = T \left(\frac{\partial^2 p}{\partial T^2}\right)_V \quad (3.378)$$

Deoarece:

$$C_p = T \left(\frac{\partial S}{\partial T}\right)_p \quad (3.379)$$

se obține:

$$\left(\frac{\partial C_p}{\partial p}\right)_T = \frac{\partial}{\partial p} \left[T \left(\frac{\partial S}{\partial T}\right)_p \right]_T = T \frac{\partial}{\partial T} \left[\left(\frac{\partial S}{\partial p}\right)_T \right]_p \quad (3.380)$$

Cum:

$$\left(\frac{\partial S}{\partial p}\right)_T = - \left(\frac{\partial V}{\partial T}\right)_p \quad (3.381)$$

se obține:

$$\left(\frac{\partial C_p}{\partial p}\right)_T = -T \left(\frac{\partial^2 V}{\partial T^2}\right)_p$$

PROBLEMA 3.56 La o substanță paramagnetică susceptibilitatea variază cu temperatura după o lege de forma $\chi = C/T$ unde C este o constantă pozitivă. Să se determine căldura schimbată de unitatea de

volum a substanței cu mediul extern când temperatura este menținută la valoarea T_1 iar intensitatea câmpului magnetic crește de la 0 la H_1 . Variația volumului se va considera neglijabilă.

SOLUȚIE

Se utilizează forma primului principiu al termodinamicii pentru substanțe magnetice (mărimile se consideră raportate la unitatea de volum)

$$du = \delta q - pdv + \mu_0 HdM \quad (3.382)$$

Lucrul mecanic la magnetizare a fost calculat în problema 3.4 .

Cum $T = \text{const}$, $v = \text{const}$ rezultă $du = 0$ astfel că din relația 3.382 rezultă:

$$\delta q = -\mu_0 HdM \quad (3.383)$$

Dar:

$$M = \chi H = \frac{CH}{T} \quad (3.384)$$

Atunci:

$$dM = \frac{CdH}{T} \quad (3.385)$$

Cum $T = T_1$ din relațiile 3.383 și 3.385 rezultă:

$$\delta q = -\mu_0 \frac{CH}{T_1} dH \quad (3.386)$$

Se integrează și se obține:

$$q = - \int_0^{H_1} \mu_0 \frac{CH}{T_1} dH = -\frac{\mu_0 C}{2T_1} H_1^2$$

PROBLEMA 3.57 Pentru o substanță s-a găsit că densitatea de magnetizare este funcție de raportul H/T . Să se arate că energia internă a unității de volum este independentă de M și să se determine expresia entropiei (se va neglija variația volumului).

SOLUȚIE

Aplicând primul principiu al termodinamicii pentru substanțe magnetice:

$$du = Tds - \mu_0 H dM$$

rezultă:

$$ds = \frac{du + \mu_0 H dM}{T} \quad (3.387)$$

unde s , u se referă la entropia și energia unității de volum.

Se consideră $u = u(T, M)$ și se arată că

$$\left(\frac{\partial u}{\partial M} \right)_T = 0$$

Într-adevăr:

$$du = \left(\frac{\partial u}{\partial T} \right)_M dT + \left(\frac{\partial u}{\partial M} \right)_T dM \quad (3.388)$$

și relația 3.387 devine:

$$ds = \frac{1}{T} \left(\frac{\partial u}{\partial T} \right)_M dT + \frac{1}{T} \left[\left(\frac{\partial u}{\partial M} \right)_T - \mu_0 H \right] dM \quad (3.389)$$

Deoarece ds este o diferențială totală exactă, din relația 3.390 rezultă:

$$\frac{\partial}{\partial M} \left[\frac{1}{T} \left(\frac{\partial u}{\partial T} \right)_M \right]_T = \frac{\partial}{\partial T} \left\{ \frac{1}{T} \left[\left(\frac{\partial u}{\partial M} \right)_T - \mu_0 H \right] \right\}_M$$

sau:

$$\frac{1}{T} \frac{\partial^2 u}{\partial M \partial T} = -\frac{1}{T^2} \left(\frac{\partial u}{\partial M} \right)_T + \frac{1}{T} \frac{\partial^2 u}{\partial T \partial M} - \mu_0 \frac{\partial}{\partial T} \left(\frac{H}{T} \right)_M$$

de unde:

$$\left(\frac{\partial u}{\partial M} \right)_T = -\mu_0 T^2 \frac{\partial}{\partial T} \left(\frac{H}{T} \right)_M \quad (3.390)$$

Cum $M = f(H/T)$ și $M = \text{const}$ rezultă că $H/T = \text{const}$ și:

$$\left(\frac{\partial u}{\partial M}\right)_T = 0 \quad (3.391)$$

Această relație arată că energia internă a unității de volum este independentă de magnetizare.

Deoarece:

$$dM = f' \left(\frac{H}{T} \right) d \left(\frac{H}{T} \right) \quad (3.392)$$

relația 3.387 devine:

$$ds = \frac{du(T)}{T} - \mu_0 \frac{H}{T} f' \left(\frac{H}{T} \right) d \left(\frac{H}{T} \right) \quad (3.393)$$

Pentru $x = H/T$ se obține:

$$s = \int \frac{du(T)}{T} - \mu_0 \int_0^{H/T} x f'(x) dx$$

Integrând prin părți cel de-al doilea termen obținem:

$$s = \int \frac{du(T)}{T} - \mu_0 \frac{H}{T} f \left(\frac{H}{T} \right) + \mu_0 \int_0^{H/T} f(x) dx$$

PROBLEMA 3.58 În cazul unei substanțe paramagnetice ideale densitatea de magnetizare variază cu temperatură după legea Curie:

$$M = \frac{CH}{T} \quad (3.394)$$

unde C este o constantă.

Să se arate că în condițiile în care câmpul magnetic variază iar sistemul este izolat adiabetic:

$$dT = \mu_0 \left(\frac{CH}{c_H T} \right) dH \quad (3.395)$$

unde c_H este capacitatea calorică a unității de volum.

SOLUȚIE

Se consideră u , s energia internă și entropia unității de volum dependente doar de T și H (deoarece variația de volum poate fi considerată neglijabilă)

$$\delta q = Tds = T \left(\frac{\partial s}{\partial T} \right)_H dT + T \left(\frac{\partial s}{\partial H} \right)_T dH \quad (3.396)$$

rezultă:

$$c_H = \left(\frac{\delta q}{dT} \right)_H = T \left(\frac{\partial s}{\partial T} \right)_H \quad (3.397)$$

Se exprimă diferențiala entropiei:

$$ds = \left(\frac{\partial s}{\partial T} \right)_H dT + \left(\frac{\partial s}{\partial H} \right)_T dH \quad (3.398)$$

Se ține cont de relația 3.397 și se obține:

$$ds = \frac{c_H}{T} dT + \left(\frac{\partial s}{\partial H} \right)_T dH \quad (3.399)$$

Cum într-o transformare adiabatică $ds = 0$ din relația 3.399 rezultă:

$$dT = -\frac{T}{c_H} \left(\frac{\partial s}{\partial H} \right)_T dH \quad (3.400)$$

Pentru a exprima ultima derivată parțială se consideră diferențiala densității de magnetizare.

$$dM = \left(\frac{\partial M}{\partial T} \right)_H dT + \left(\frac{\partial M}{\partial H} \right)_T dH \quad (3.401)$$

Ținând cont de relațiile 3.398 și 3.401, diferențiala energiei interne

$$du = Tds + \mu_0 H dM \quad (3.402)$$

se poate exprima astfel:

$$\begin{aligned}
du &= \left[T \left(\frac{\partial s}{\partial T} \right)_H + \mu_0 H \left(\frac{\partial M}{\partial T} \right)_H \right] dT + \\
&+ \left[T \left(\frac{\partial s}{\partial H} \right)_T + \mu_0 H \left(\frac{\partial M}{\partial H} \right)_T \right] dH
\end{aligned} \tag{3.403}$$

Cum du este o diferențială totală exactă rezultă că:

$$\begin{aligned}
\frac{\partial}{\partial H} \left[T \left(\frac{\partial s}{\partial T} \right)_H + \mu_0 H \left(\frac{\partial M}{\partial T} \right)_H \right]_T &= \\
\frac{\partial}{\partial T} \left[T \left(\frac{\partial s}{\partial H} \right)_T + \mu_0 H \left(\frac{\partial M}{\partial H} \right)_T \right]_H
\end{aligned} \tag{3.404}$$

Se obține:

$$\mu_0 \left(\frac{\partial M}{\partial T} \right)_H = \left(\frac{\partial s}{\partial H} \right)_T \tag{3.405}$$

Atunci relația 3.400 devine:

$$dT = -\frac{\mu_0 T}{c_H} \left(\frac{\partial M}{\partial T} \right)_H dH \tag{3.406}$$

Deoarece $M = CH/T$

$$\left(\frac{\partial M}{\partial T} \right)_H = -\frac{CH}{T^2} \tag{3.407}$$

astfel 3.406 devine:

$$dT = \mu_0 \frac{CH}{c_H T} dH \tag{3.408}$$

PROBLEMA 3.59 Să se demonstreze relația

$$\left(\frac{\partial V}{\partial H} \right)_{T,p} = -\mu_0 \left(\frac{\partial M}{\partial p} \right)_{T,H} \tag{3.409}$$

unde

$$\left(\frac{\partial V}{\partial H}\right)_{T,p} \quad (3.410)$$

se numește coeficient de magnetizare iar

$$\mu_0 \left(\frac{\partial M}{\partial p}\right)_{T,H} \quad (3.411)$$

se numește coeficient paramagnetic (M este magnetizarea totală).

SOLUȚIE

Forma diferențială a primului principiu al termodinamicii în acest caz este:

$$dU = TdS - pdV + \mu_0 HdM \quad (3.412)$$

La temperatură constantă:

$$dS = \left(\frac{\partial S}{\partial p}\right)_H dp + \left(\frac{\partial S}{\partial H}\right)_p dH \quad (3.413)$$

$$dV = \left(\frac{\partial V}{\partial p}\right)_H dp + \left(\frac{\partial V}{\partial H}\right)_p dH \quad (3.414)$$

$$dM = \left(\frac{\partial M}{\partial p}\right)_H dp + \left(\frac{\partial M}{\partial H}\right)_p dH \quad (3.415)$$

Atunci relația 3.412 devine:

$$\begin{aligned} dU = T \left[\left(\frac{\partial S}{\partial p}\right)_H dp + \left(\frac{\partial S}{\partial H}\right)_p dH \right] - p \left[\left(\frac{\partial V}{\partial p}\right)_H dp + \left(\frac{\partial V}{\partial H}\right)_p dH \right] + \\ + \mu_0 H \left[\left(\frac{\partial M}{\partial p}\right)_H dp + \left(\frac{\partial M}{\partial H}\right)_p dH \right] \end{aligned}$$

sau

$$dU = \left[T \left(\frac{\partial S}{\partial p}\right)_H - p \left(\frac{\partial V}{\partial p}\right)_H + \mu_0 H \left(\frac{\partial M}{\partial p}\right)_H \right] dp$$

$$\left[T \left(\frac{\partial S}{\partial H} \right)_p - p \left(\frac{\partial V}{\partial H} \right)_p + \mu_0 H \left(\frac{\partial M}{\partial H} \right)_p \right] dH$$

Cum dU este o diferențială totală exactă:

$$\begin{aligned} \frac{\partial}{\partial H} \left[T \left(\frac{\partial S}{\partial p} \right)_H - p \left(\frac{\partial V}{\partial p} \right)_H + \mu_0 H \left(\frac{\partial M}{\partial p} \right)_H \right] = \\ \frac{\partial}{\partial p} \left[T \left(\frac{\partial S}{\partial H} \right)_p - p \left(\frac{\partial V}{\partial H} \right)_p + \mu_0 H \left(\frac{\partial M}{\partial H} \right)_p \right] \end{aligned}$$

Rezultă:

$$\mu_0 \left(\frac{\partial M}{\partial p} \right)_{T,H} = - \left(\frac{\partial V}{\partial H} \right)_{T,p}$$

PROBLEMA 3.60 Să se arate că atunci când câmpul magnetic este variat izoterm de la valoarea 0 la H , variația volumului ($\Delta V \ll V_0$) este dată de relația:

$$\Delta V = \mu_0 V_0 \left(\frac{H^2}{2} \right) \left\{ \beta \chi - \left(\frac{\partial \chi}{\partial p} \right)_T \right\} \quad (3.416)$$

unde

$$\beta = - \left(\frac{1}{V} \right) \left(\frac{\partial V}{\partial p} \right)_{H,T} \quad (3.417)$$

și

$$\chi = \frac{M}{VH} \quad (3.418)$$

Se va presupune că în interiorul probei câmpul este uniform iar β și χ nu depind de intensitatea câmpului magnetic (M - este magnetizarea totală, χ - susceptibilitatea, β - coeficientul de compresibilitate).

SOLUȚIE

Deoarece:

$$M = \chi V H \quad (3.419)$$

ținând cont de rezultatul obținut la problema precedentă:

$$\left(\frac{\partial V}{\partial H}\right)_{T,p} = -\mu_0 \left(\frac{\partial M}{\partial p}\right)_{T,H} = -\mu_0 H \left[\chi \left(\frac{\partial V}{\partial p}\right)_{T,H} + V \left(\frac{\partial \chi}{\partial p}\right)_{T,H} \right]$$

sau

$$\left(\frac{\partial V}{\partial H}\right)_{T,p} = -\mu_0 H \left[-\chi V \beta + V \left(\frac{\partial \chi}{\partial p}\right)_T \right] = \mu_0 V H \left[\chi \beta - \left(\frac{\partial \chi}{\partial p}\right)_T \right] \quad (3.420)$$

Se notează pentru simplificare:

$$k = \chi \beta - \left(\frac{\partial \chi}{\partial p}\right)_T$$

și 3.420 devine:

$$\left(\frac{\partial V}{\partial H}\right)_{T,p} = k \mu_0 H V \quad (3.421)$$

sau:

$$\frac{dV}{V} = k \mu_0 H dH \quad (3.422)$$

Prin integrare se obține:

$$\int_{V_0}^V \frac{dV}{V} = k \mu_0 \int_0^H H dH$$

Rezultă:

$$\ln \frac{V}{V_0} = \mu_0 k \frac{H^2}{2} \quad (3.423)$$

Cum $V = V_0 + \Delta V$ și $\Delta V \ll V_0$

$$\ln \frac{V}{V_0} = \ln \frac{(V_0 + \Delta V)}{V_0} = \ln \left(1 + \frac{\Delta V}{V_0} \right) \cong \frac{\Delta V}{V_0} \quad (3.424)$$

Deci:

$$\frac{\Delta V}{V_0} = \mu_0 \frac{H^2}{2} k = \mu_0 \frac{H^2}{2} \left[\chi \beta - \left(\frac{\partial \chi}{\partial p} \right)_T \right]$$

PROBLEMA 3.61 Să se arate că energia internă și entropia pe unitatea de volum a unei substanțe feromagnetice, a cărei susceptibilitate în faza paramagnetică satisface legea Curie – Weiss:

$$\chi = \frac{C}{T - T_0} \quad (3.425)$$

unde C și T_0 sunt constante, pot fi scrise astfel:

$$u = \int_0^T c_M dT - \frac{\mu_0 T_0 M^2}{2C} + \text{const} \quad (3.426)$$

$$s = \int_0^T c_M \frac{dT}{T} - \frac{\mu_0 M^2}{2} + \text{const} \quad (3.427)$$

unde c_M este căldura specifică a unității de volum la densitate de magnetizare constantă.

SOLUȚIE

Conform relației 3.390:

$$\left(\frac{\partial u}{\partial M} \right)_T = -\mu_0 T^2 \frac{\partial}{\partial T} \left(\frac{H}{T} \right)_M \quad (3.428)$$

Cum:

$$M = \chi H \quad \text{și} \quad \chi = \frac{C}{T - T_0}$$

rezultă:

$$H = \frac{M(T - T_0)}{C} \quad (3.429)$$

Atunci:

$$\frac{H}{T} = \frac{M}{C} \frac{(T - T_0)}{T} \quad (3.430)$$

Se derivează relația 3.430 și se obține:

$$\frac{\partial}{\partial T} \left(\frac{H}{T} \right) = \frac{M}{C} \frac{\partial}{\partial T} \left(\frac{T - T_0}{T} \right) = \frac{M}{C} \frac{T_0}{T^2}$$

Atunci relația 3.428 devine:

$$\left(\frac{\partial u}{\partial M} \right)_T = -\mu_0 \frac{MT_0}{C} \quad (3.431)$$

Considerând $s = s(T, M)$

$$du = Tds + \mu_0 H dM = T \left(\frac{\partial s}{\partial T} \right)_M dT + \left[T \left(\frac{\partial s}{\partial M} \right)_T + \mu_0 H \right] dM \quad (3.432)$$

Cum du este o diferențială totală exactă:

$$\frac{\partial}{\partial M} \left[T \left(\frac{\partial s}{\partial T} \right)_M \right]_T = \frac{\partial}{\partial T} \left[T \left(\frac{\partial s}{\partial M} \right)_T + \mu_0 H \right]_M$$

sau

$$T \frac{\partial^2 s}{\partial M \partial T} = \left(\frac{\partial s}{\partial M} \right)_T + T \frac{\partial^2 s}{\partial T \partial M} + \mu_0 \left(\frac{\partial H}{\partial T} \right)_M$$

rezultă:

$$\left(\frac{\partial s}{\partial M} \right)_T = -\mu_0 \left(\frac{\partial H}{\partial T} \right)_M \quad (3.433)$$

Cum:

$$c_M = T \left(\frac{\partial s}{\partial T} \right)_M$$

atunci:

$$\left(\frac{\partial c_M}{\partial M} \right)_T = T \frac{\partial}{\partial M} \left(\frac{\partial s}{\partial T} \right)_M = T \frac{\partial^2 s}{\partial M \partial T} = T \frac{\partial}{\partial T} \left(\frac{\partial s}{\partial M} \right)_T$$

sau ținând cont de 3.433:

$$\left(\frac{\partial c_M}{\partial M}\right)_T = -T\mu_0 \frac{\partial^2 H}{\partial T^2}$$

Ținând cont de relația 3.429 rezultă:

$$\frac{\partial^2 H}{\partial T^2} = 0$$

și

$$\left(\frac{\partial c_M}{\partial M}\right)_T = 0$$

adică c_M este independent de M . Atunci:

$$du = \left(\frac{\partial u}{\partial T}\right)_M dT + \left(\frac{\partial u}{\partial M}\right)_T dM = c_M dT - \mu_0 \frac{T_0 M}{C} dM$$

și:

$$\begin{aligned} u &= \int_0^T c_M dT - \mu_0 \frac{T_0}{C} \int_0^M M dM + \text{const} \\ u &= \int_0^T c_M dT - \mu_0 \frac{T_0}{C} \frac{M^2}{2} + \text{const} \end{aligned} \quad (3.434)$$

Pentru calculul entropiei se pornește de la diferențiala acesteia:

$$ds = \frac{du - \mu_0 H dM}{T} = c_M \frac{dT}{T} - \mu_0 \frac{M dM}{C} \quad (3.435)$$

Prin integrare se obține:

$$s = \int c_M \frac{dT}{T} - \frac{\mu_0 M^2}{2C} + \text{const}$$

PROBLEMA 3.62 Să se stabilească formula:

$$\frac{\Delta V}{V} = - \left(\frac{E^2}{2} \right) \left(\frac{\partial \varepsilon}{\partial p} \right)_\varphi \quad (3.436)$$

care dă variația relativă a volumului unui corp dielectric supus acțiunii unui câmp electric (φ - este diferența de potențial).

SOLUȚIE

Electrostricțiunea reprezintă fenomenul de deformare a unui dielectric sub acțiunea câmpului electric. Considerând un dielectric ce umple un condensator cu aria armăturilor S și distanța dintre armături d , lucrul mecanic furnizat sistemului pentru a varia volumul cu dV și a modifica sarcina cu dq este:

$$\delta L = -pdV + \varphi dq$$

unde φ este diferența de potențial dintre armăturile condensatorului.

Atunci:

$$dU = TdS + \delta L = TdS - pdV + \varphi dq \quad (3.437)$$

Se introduce funcția caracteristică numită entalpie liberă:

$$G = U - TS + pV - \varphi q \quad (3.438)$$

Se diferențiază relația 3.438 și ținând cont de relația 3.437 se obține:

$$dG = SdT + Vdp - qd\varphi \quad (3.439)$$

Considerând un proces izoterm $dT = 0$, deoarece dG este o diferențială totală exactă:

$$\left(\frac{\partial V}{\partial \varphi}\right)_p = -\left(\frac{\partial q}{\partial p}\right)_\varphi \quad (3.440)$$

Menționăm că:

$$q = C\varphi = \varepsilon \frac{S}{d}\varphi = \varepsilon SE \quad (3.441)$$

unde C este capacitatea iar E intensitatea câmpului electric. Cum $\varphi = Ed$, φ și d fiind constante rezultă că și E este constant. Atunci ținând cont de relația 3.441 rezultă:

$$\left(\frac{\partial q}{\partial p}\right)_\varphi = ES \left(\frac{\partial \varepsilon}{\partial p}\right)_\varphi \quad (3.442)$$

Se utilizează relația 3.442 și relația 3.440 devine:

$$\left(\frac{\partial V}{\partial \varphi}\right)_p = -ES \left(\frac{\partial \varepsilon}{\partial p}\right)_\varphi = -E \frac{V}{d} \left(\frac{\partial \varepsilon}{\partial p}\right)_\varphi$$

Menționăm că $V = Sd$. Rezultă

$$dV = -\frac{EV}{d} \left(\frac{\partial \varepsilon}{\partial p}\right)_\varphi d\varphi \quad (3.443)$$

Cum $\varphi = Ed$, $d\varphi = d(dE)$, relația 3.443 se poate scrie:

$$\frac{dV}{V} = -\left(\frac{\partial \varepsilon}{\partial p}\right)_\varphi EdE \quad (3.444)$$

Se integrează această relație și se ține cont că

$$\left(\frac{\partial \varepsilon}{\partial p}\right)_\varphi$$

este un coeficient care nu depinde de intensitatea câmpului electric. Se obține:

$$\ln \frac{V}{V_0} = -\left(\frac{\partial \varepsilon}{\partial p}\right)_\varphi \frac{E^2}{2} \quad (3.445)$$

Se notează $V = V_0 + \Delta V$ și ținând cont că $\Delta V \ll V_0$ (variațiile de volum sunt mici în cazul acestui fenomen) se obține:

$$\ln \left(\frac{V}{V_0}\right) = \ln \left(\frac{V_0 + \Delta V}{V_0}\right) = \ln \left(1 + \frac{\Delta V}{V_0}\right) \cong \frac{\Delta V}{V_0} \quad (3.446)$$

Din 3.445 și 3.446 rezultă:

$$\frac{\Delta V}{V_0} = -\left(\frac{\partial \varepsilon}{\partial p}\right)_\varphi \frac{E^2}{2}$$

PROBLEMA 3.63 Să se calculeze efectul termic care apare datorită polarizării unității de volum a unui dielectric. Se va neglija variația volumului la temperatură constantă. Se consideră că densitatea de polarizare

este dată de relația $\vec{P} = \varepsilon_0 \chi \vec{E}$ unde $\chi = \varepsilon_r(T) - 1$. Se va particulariza rezultatul pentru cazul în care

$$\varepsilon_r = 1 + \frac{\text{const}}{T} \quad (3.447)$$

SOLUȚIE

Se notează cu u energia unității de volum, iar cu s entropia unității de volum. Utilizând expresia lucrului mecanic de polarizare, evaluat în problema (3.4), variația energiei interne este:

$$du = Tds + EdP \quad (3.448)$$

Se consideră un proces izoterm care are loc ca urmare a aplicării unui câmp electric ce variază de la valoarea 0 la valoarea E . Atunci:

$$ds = \left(\frac{\partial s}{\partial E} \right)_T dE$$

astfel încât:

$$\delta q = T \left(\frac{\partial s}{\partial E} \right)_T dE \quad (3.449)$$

Pentru a exprima derivata

$$\left(\frac{\partial s}{\partial E} \right)_T$$

se introduce entalpia liberă a unității de volum:

$$g = u - Ts - EP \quad (3.450)$$

Prin diferențierea lui g , ținând cont de relația 3.448 se obține:

$$dg = -sdT - PdE \quad (3.451)$$

Cum dg este o diferențială totală exactă:

$$\left(\frac{\partial s}{\partial E} \right)_T = \left(\frac{\partial P}{\partial T} \right)_E = \left[\frac{\partial (\varepsilon_0 \chi E)}{\partial T} \right]_E = \varepsilon_0 E \left(\frac{\partial \chi}{\partial T} \right)_E = \varepsilon_0 E \left(\frac{\partial \varepsilon_r}{\partial T} \right)_E \quad (3.452)$$

Atunci:

$$\delta q = T ds = \varepsilon_0 T \left(\frac{\partial \varepsilon_r}{\partial T} \right)_E E dE \quad (3.453)$$

Prin integrarea acestei relații rezultă:

$$\Delta Q = \int_o^E T \varepsilon_0 \left(\frac{\partial \varepsilon_r}{\partial T} \right)_E E dE = \frac{1}{2} T \varepsilon_0 \frac{d\varepsilon_r}{dT} E^2 \quad (3.454)$$

Admițând cazul particular:

$$\varepsilon_r = 1 + \frac{\text{const}}{T}$$

și evaluând derivata:

$$\frac{d\varepsilon_r}{dT} = -\frac{\text{const}}{T^2} \quad (3.455)$$

relația 3.454 devine:

$$\Delta Q = -\frac{1}{2} E^2 \varepsilon_0 \frac{\text{const}}{T} < 0$$

De aici rezultă că dielectricul cedează căldură în cursul polarizării sale.

PROBLEMA 3.64 Să se demonstreze că în procesele reversibile în care T și V sunt constante variația energiei libere $F = U - TS$, cu semn schimbat, este egală cu lucrul mecanic efectuat de forțele generalizate altele decât presiunea.

SOLUȚIE

Cum:

$$dF = dU - T dS - S dT \quad (3.456)$$

iar conform principiului I al termodinamicii

$$dU = T dS - \delta L \quad (3.457)$$

Vom exprima lucrul mecanic sub forma:

$$\delta L = pdV + \delta \tilde{L} \quad (3.458)$$

unde $\delta \tilde{L}$ reprezintă lucrul mecanic al forțelor generalizate altele decât presiunea. Atunci relația 3.456 devine:

$$dF = -SdT - pdV - \delta \tilde{L} \quad (3.459)$$

Pentru $T = \text{const}$ și $V = \text{const}$ rezultă $dF = -\delta \tilde{L}$

PROBLEMA 3.65 Să se demonstreze că în procesele reversibile în care S și p sunt constante, variația cu semn schimbat a entalpiei $H = U + pV$ este egală cu lucrul mecanic al forțelor generalizate altele decât presiunea.

SOLUȚIE

Deoarece:

$$dH = dU + pdV + Vdp \quad (3.460)$$

și

$$dU = TdS - \delta L \quad (3.461)$$

unde

$$\delta L = pdV + \delta \tilde{L} \quad (3.462)$$

$\delta \tilde{L}$ este lucrul mecanic al forțelor generalizate altele decât presiunea. Se obține:

$$dH = TdS + Vdp - \delta \tilde{L} \quad (3.463)$$

Când $p = \text{const}$ și $T = \text{const}$ rezultă:

$$dH = -\delta \tilde{L}$$

PROBLEMA 3.66 Să se arate că în procesele reversibile variația cu semn schimbat a entalpiei libere $G = U - TS + pV$ când p și T sunt constante este egală cu lucrul mecanic al forțelor generalizate altele decât presiunea.

SOLUȚIE

Pornind de la expresia entalpiei libere:

$$G = U - TS + pV \quad (3.464)$$

se obține:

$$dG = dU - TdS - SdT + pdV + Vdp \quad (3.465)$$

Cum:

$$dU = TdS - pdV - \delta\tilde{L} \quad (3.466)$$

unde $\delta\tilde{L}$ este lucrul mecanic al forțelor generalizate altele decât presiunea se obține:

$$dG = Vdp - SdT - \delta\tilde{L} \quad (3.467)$$

Când $p = \text{const}$ și $T = \text{const}$

$$dG = -\delta\tilde{L}$$

PROBLEMA 3.67 Să se demonstreze că într-un proces ireversibil realizat de un sistem în contact cu un termostat aflat la temperatura T , variația energiei libere reprezintă lucrul maxim ce poate fi efectuat de sistem.

SOLUȚIE

În cazul proceselor ireversibile:

$$\frac{\delta Q_{irev}}{T} < dS \quad (3.468)$$

și:

$$\int_i^f \frac{\delta Q_{irev}}{T} < S_f - S_i \quad (3.469)$$

unde indicii i și f se referă la starea inițială, respectiv starea finală.

În relația de mai sus T reprezintă temperatura termostatului cu care sistemul este în contact. T nu este temperatura sistemului deoarece pentru eventualele stări de neechilibru prin care trece sistemul aceasta nici nu poate fi definită. Rezultă:

$$\frac{1}{T} \int_i^f \delta Q_{irev} < S_f - S_i \quad (3.470)$$

adică:

$$Q_{irev} < TS_f - TS_i \quad (3.471)$$

Cum:

$$Q_{irev} = \Delta U + L_{irev} = U_f - U_i + L_{irev} \quad (3.472)$$

atunci:

$$\begin{aligned} U_f - U_i + L_{irev} &< TS_f - TS_i \\ +L_{irev} &< (U_i - TS_i) - (U_f - TS_f) \\ +L_{irev} &< F_i - F_f = -(F_f - F_i) \end{aligned}$$

Rezultatul arată că sistemul nu poate efectua asupra mediului un lucru mecanic care să depășească o valoare maximă. Din acest motiv F a primit denumirea de energie liberă deoarece variația ei (și nu a energiei interne) determină valoarea maximă a lucrului mecanic pe care sistemul îl poate furniza în exterior.

PROBLEMA 3.68 Să se arate că pentru un sistem care nu efectuează lucru mecanic și care este în contact cu un termostat, energia sa liberă nu poate crește.

SOLUȚIE

Se ține cont de rezultatul obținut în problema precedentă:

$$L_{irev} < F_i - F_f \quad (3.473)$$

cum $L_{rev} = 0$ rezultă că:

$$F_f < F_i \quad (3.474)$$

sau:

$$\Delta F < 0 \quad (3.475)$$

Într-o astfel de situație starea de echilibru se atinge când energia liberă este minimă.

Capitolul 4

FIZICĂ STATISTICĂ

PROBLEMA 4.1 Să se determine constanta ” C ” din distribuția lui Maxwell a moleculelor după viteze și să se scrie explicit această distribuție.

SOLUȚIE

Constanta ” C ” poate fi determinată din condiția ca integrala din $dn(v_x, v_y, v_z)$, pe toate vitezele posibile, să ne dea numărul total de molecule n din unitatea de volum. Legea de distribuție Maxwell a moleculelor după viteze este

$$dn(v_x, v_y, v_z) = nC e^{-m(v_x^2 + v_y^2 + v_z^2)/2k_B T} dv_x dv_y dv_z \quad (4.1)$$

sau

$$dn(v_x, v_y, v_z) = n f(v_x, v_y, v_z) dv_x dv_y dv_z \quad (4.2)$$

unde $f(v_x, v_y, v_z)$ este funcția de distribuție după viteze.

Avem astfel:

$$nC \int \int \int e^{-m(v_x^2 + v_y^2 + v_z^2)/2k_B T} dv_x dv_y dv_z = n$$

sau

$$C \left(\int_{-\infty}^{\infty} e^{-mv^2/2k_B T} dv \right)^3 = 1 \quad (4.3)$$

Ținând cont de integrala Poisson,

$$\int_{-\infty}^{\infty} e^{-\alpha x^2} = \sqrt{\frac{\pi}{\alpha}}$$

rezultă:

$$\int_{-\infty}^{\infty} e^{-mv^2/2k_B T} = \sqrt{\frac{2\pi k_B T}{m}} \quad (4.4)$$

Relația 4.3 devine:

$$C \left(\frac{2\pi k_B T}{m} \right)^{3/2} = 1$$

și

$$C = \left(\frac{m}{2\pi k_B T} \right)^{3/2}$$

PROBLEMA 4.2 Să se găsească funcția de distribuție a moleculelor după viteza absolută.

SOLUȚIE

În acest scop se scrie expresia funcției de distribuție Maxwell în coordonate sferice:

$$v_x = v \sin \theta \cos \varphi$$

$$v_y = v \sin \theta \sin \varphi$$

$$v_z = v \cos \theta$$

unde

$$v \in [0, +\infty)$$

$$\theta \in [0, \pi]$$

$$\varphi \in [0, 2\pi]$$

Atunci:

$$dv_x dv_y dv_z = v^2 \sin \theta d\theta d\varphi dv$$

Rezultă:

$$\begin{aligned} f(v_x, v_y, v_z) &= C e^{-\frac{mv^2}{2k_B T}} v^2 \sin \theta dv d\theta d\varphi \\ &= C e^{-\frac{mv^2}{2k_B T}} v^2 \sin \theta dv d\theta d\varphi = f(v, \theta, \varphi) dv d\theta d\varphi \end{aligned}$$

Din relația de mai sus se obține forma funcției de distribuție în coordonate sferice:

$$f(v, \theta, \varphi) = C e^{-\frac{mv^2}{2k_B T}} v^2 \sin \theta$$

Atunci:

$$f(v) = \int_0^\pi \int_0^{2\pi} f(v, \theta, \varphi) v^2 d\theta d\varphi = C e^{-\frac{mv^2}{2k_B T}} v^2 \int_0^\pi \int_0^{2\pi} \sin \theta d\theta d\varphi$$

de unde rezultă funcția de distribuție după viteza absolută.

$$f(v) = C 4\pi v^2 e^{-\frac{mv^2}{2k_B T}} \quad (4.5)$$

PROBLEMA 4.3 Să se determine constanta "C" din legea de distribuție a moleculelor după viteza absolută și să se scrie în mod explicit aceasta.

SOLUȚIE

Metoda I.

O variantă a funcției lui Maxwell de distribuție a moleculelor după modulul vitezelor este:

$$dn(v) = n C e^{-mv^2/2k_B T} 4\pi v^2 dv \quad (4.6)$$

Constanta "C" se obține integrând $dn(v)$ pe toate vitezele posibile (modulul vitezelor poate fi cuprins între 0 și ∞) și egalând cu numărul

total de molecule "n" din unitatea de volum. $dn(v)$ reprezintă numărul de molecule din unitatea de volum care au viteza cuprinsă în intervalul $(v, v + dv)$.

Pentru determinarea constantei C se pune condiția de normare:

$$\int_0^{\infty} dn(v) = n$$

Atunci:

$$4\pi n C \int_0^{\infty} e^{-mv^2/2k_B T} v^2 dv = n$$

sau

$$4\pi C \int_0^{\infty} e^{-mv^2/2k_B T} v^2 dv = 1 \quad (4.7)$$

Cunoscând că:

$$\int_0^{\infty} e^{-\alpha x^2} dx = \frac{1}{2} \sqrt{\frac{\pi}{\alpha}}$$

Prin derivarea sub semnul integralei în raport cu parametrul α , se obține

$$\int_0^{\infty} x^2 e^{-\alpha x^2} dx = \frac{1}{4} \pi^{1/2} \alpha^{-3/2}$$

Introducând

$$\alpha = \frac{m}{2k_B T}$$

și folosind relația 4.7 se obține:

$$C = \left(\frac{m}{2\pi k_B T} \right)^{3/2} \quad (4.8)$$

Metoda a II-a.

Conform condiției de normare

$$\int_0^{\infty} f(v) dv = 1 \quad (4.9)$$

unde $f(v)$ este dată de relația 4.5

$$\int_0^{\infty} C 4\pi v^2 e^{-\frac{mv^2}{2k_B T}} dv = 1$$

Avem astfel

$$C = \frac{1}{4\pi \int_0^{\infty} v^2 e^{-\frac{mv^2}{2k_B T}} dv}.$$

Prin urmare

$$C = \left(\frac{m}{2\pi k_B T} \right)^{3/2}$$

Forma funcției de distribuție după modulul vitezelor este:

$$f(v) = 4\pi \left(\frac{m}{2\pi k_B T} \right)^{3/2} v^2 e^{-\frac{mv^2}{2k_B T}} \quad (4.10)$$

PROBLEMA 4.4 Să se găsească viteza cea mai probabilă în cazul distribuției lui Maxwell a moleculelor după viteza absolută.

SOLUȚIE

Viteza cea mai probabilă corespunde maximului funcției de distribuție $f(v)$ dată de relația 4.10:

$$f(v) = 4\pi \left(\frac{m}{2\pi k_B T} \right)^{3/2} v^2 e^{-\frac{mv^2}{2k_B T}} \quad (4.11)$$

Condiția

$$\frac{df}{dv} = 0$$

implică

$$4\pi \left(\frac{m}{2\pi k_B T} \right)^{3/2} v^2 e^{-\frac{mv^2}{2k_B T}} \left(2v - \frac{mv^2}{k_B T} \right) = 0 \quad (4.12)$$

Se obține:

$$v_p = \sqrt{\frac{2k_B T}{m}} \quad (4.13)$$

Dar

$$\frac{k_B}{m} = \frac{R}{\mu}$$

unde R este constanta universală a gazelor și μ este masa molară a gazului.

Atunci relația 4.13 devine:

$$v_p = \sqrt{\frac{2RT}{\mu}} \quad (4.14)$$

Observație. Maximul funcției de distribuție $f_{max} = f(v = v_p)$ are valoarea

$$f_{max} = \frac{4}{e\sqrt{\pi}} \sqrt{\frac{m}{2k_B T}} = \frac{4}{e\sqrt{\pi}} \frac{1}{v_p}$$

PROBLEMA 4.5 Să se găsească viteza medie în cazul distribuției Maxwell a moleculelor după viteza absolută.

SOLUȚIE

Conform definiției valorii medii:

$$\bar{v} = \int_0^{\infty} v f(v) dv \quad (4.15)$$

unde $f(v)$ este dată de relația 4.11. Atunci relația 4.15 devine:

$$\bar{v} = 4\pi \left(\frac{m}{2\pi k_B T} \right)^{3/2} \int_0^\infty v^3 e^{-mv^2/2k_B T} dv \quad (4.16)$$

Folosind un rezultat cunoscut

$$\int_0^\infty e^{-\alpha x^2} x^{2r+1} dx = \frac{r!}{2\alpha^{r+1}} \quad (4.17)$$

integrala din 4.16, pentru $r = 1$, $\alpha = m/2k_B T$ și $x = v$ are valoarea:

$$\int_0^\infty v^3 e^{-mv^2/2k_B T} dv = \frac{1}{2} \left(\frac{2k_B T}{m} \right)^2 \quad (4.18)$$

Se ține cont de relația 4.18 și atunci relația 4.16 devine:

$$\bar{v} = 2\pi \left(\frac{m}{2\pi k_B T} \right)^{3/2} \left(\frac{2k_B T}{m} \right)^2 = 2 \left(\frac{2k_B T}{\pi m} \right)^{1/2} \quad (4.19)$$

adică:

$$\bar{v} = \sqrt{\frac{8k_B T}{\pi m}} \quad (4.20)$$

Cum

$$\frac{m}{k} = \frac{\mu}{R}$$

relația 4.20 se mai scrie astfel:

$$\bar{v} = \sqrt{\frac{8RT}{\pi \mu}} \quad (4.21)$$

PROBLEMA 4.6 Să se găsească viteza pătratică medie în cazul distribuției lui Maxwell a moleculelor după viteza absolută.

SOLUȚIE

Conform definiției valorii medii:

$$\overline{v^2} = \int_0^{\infty} v^2 f(v) dv \quad (4.22)$$

unde $f(v)$ este dată de relația 4.11

$$\overline{v^2} = 4\pi \left(\frac{m}{2\pi k_B T} \right)^{\frac{3}{2}} \int_0^{\infty} v^4 e^{-\frac{mv^2}{2k_B T}} dv \quad (4.23)$$

Se cunoaște valoarea integralelor de tipul:

$$I_{2r} = \int_0^{\infty} x^{2r} e^{-\alpha x^2} dx = \frac{(2r-1)!!}{2^{r+1}} \sqrt{\frac{\pi}{\alpha^{2r+1}}} \quad (4.24)$$

iar integrala din 4.24, pentru $x = v$, $r = 2$ și $\alpha = m/2k_B T$, va avea valoarea:

$$\int_0^{\infty} v^4 e^{-mv^2/2k_B T} dv = \frac{3}{8} \sqrt{\frac{\pi}{\alpha^5}} \quad (4.25)$$

Se obține astfel:

$$\overline{v^2} = 4\pi \left(\frac{m}{2\pi k_B T} \right)^{\frac{3}{2}} \frac{3}{8} \pi^{1/2} \left(\frac{m}{2k_B T} \right)^{-\frac{5}{2}} = \frac{3k_B T}{m} \quad (4.26)$$

$$\overline{v^2} = \frac{3k_B T}{m} \quad (4.27)$$

sau

$$\overline{v^2} = \frac{3RT}{\mu} \quad (4.28)$$

Observație. Uneori se folosește denumirea de viteză termică

$$v_T = \sqrt{\overline{v^2}} = \sqrt{\frac{3k_B T}{m}} = \sqrt{\frac{3RT}{\mu}}$$

Discuție. Dispunem acum de rezultatele care stabilesc o relație de ordonare între cele trei mărimi determinate v_p, \bar{v}, v_T . Avem $v_p < \bar{v} < v_T$.

PROBLEMA 4.7 Să se stabilească o variantă a legii lui Maxwell, unde distribuția se exprimă ținând cont de viteza redusă, $u = v/v_p$.

SOLUȚIE

Se pleacă de la distribuția

$$dn(v) = n \left(\frac{m}{2\pi k_B T} \right)^{3/2} e^{-mv^2/2k_B T} 4\pi v^2 dv \quad (4.29)$$

Se efectuează schimbarea de variabilă:

$$u = \frac{v}{v_p} \quad (4.30)$$

unde

$$v_p = \sqrt{\frac{2k_B T}{m}}$$

După calcule simple, se obține:

$$dn(u) = n \frac{4}{\sqrt{\pi}} e^{-u^2} u^2 du \quad (4.31)$$

Observație. Așa cum

$$dn(v) = n f(v) dv$$

avem și

$$dn(u) = n f(u) du.$$

Utilitatea folosirii unei astfel de funcții constă în faptul că $f(u)$ este o funcție universală, independentă de m și T .

PROBLEMA 4.8 Să se găsească numărul de molecule din unitatea de volum care au vitezele reduse cuprinse în intervalul $[u_1, u_2]$.

SOLUȚIE

Numărul de molecule se obține prin integrarea lui $dn(u)$ între limitele date

$$n(u_1, u_2) = \int_{u_1}^{u_2} dn(u) = n \frac{4}{\sqrt{\pi}} \int_{u_1}^{u_2} e^{-u^2} u^2 du \quad (4.32)$$

Se introduce funcția:

$$F(u) = \int_u^{\infty} f(t) dt = \frac{4}{\sqrt{\pi}} \int_u^{\infty} e^{-t^2} t^2 dt \quad (4.33)$$

și rezultă:

$$n(u_1, u_2) = n[F(u_1) - F(u_2)] \quad (4.34)$$

După cum se observă, $nF(u)$ reprezintă numărul moleculelor din unitatea de volum care au viteza redusă mai mare decât u . Pentru $u \gg 1$ (practic pentru $u > 3$) se poate folosi o formulă aproximativă:

$$F(u) \approx 1,128ue^{-u^2}$$

PROBLEMA 4.9 Să se găsească valoarea medie a puterii a n -a a valorii absolute a vitezei, în cazul distribuției maxwelliene.

SOLUȚIE

Prin definiție avem

$$\overline{v^n} = 4\pi \left(\frac{m}{2\pi k_B T} \right)^{3/2} \int_0^{\infty} e^{-mv^2/2k_B T} v^{n+2} dv \quad (4.35)$$

Folosind rezultatele matematice cunoscute:

$$\overline{v^n} = \frac{2}{\sqrt{\pi}} \left(\frac{2k_B T}{m} \right)^{n/2} \Gamma\left(\frac{n+3}{2}\right) \quad (4.36)$$

Se deosebesc două cazuri:

i) $n = 2r$, adică n este număr par și relația 4.36 devine:

$$\overline{v^{2r}} = \langle v^{2r} \rangle = \left(\frac{k_B T}{m} \right)^r (2r + 1)!! \quad (4.37)$$

ii) $n = 2r + 1$, adică n este număr impar și relația 4.36 devine:

$$\overline{v^{2r+1}} = \langle v^{2r+1} \rangle = \frac{2}{\sqrt{\pi}} \left(\frac{2k_B T}{m} \right)^{\frac{2r+1}{2}} (r + 1)! \quad (4.38)$$

PROBLEMA 4.10 Să se găsească media pătratului abaterii vitezei absolute de la valoarea ei medie $\overline{(\Delta v)^2} = \overline{(v - \bar{v})^2}$, adică abaterea pătratică medie a vitezei absolute, în cazul distribuției maxwelliene.

SOLUȚIE

Se folosesc proprietățile mediei și se calculează abaterea pătratică medie a vitezei absolute:

$$\overline{(\Delta v)^2} = \overline{(v^2)} + (\bar{v})^2 - 2\bar{v}\bar{v} = \overline{(v^2)} - (\bar{v})^2$$

În cazul distribuției Maxwell, s-a obținut anterior:

$$\overline{v^2} = \frac{3k_B T}{m}$$

$$(\bar{v})^2 = \frac{8k_B T}{\pi m}.$$

Atunci:

$$\overline{(\Delta v)^2} = \left(3 - \frac{8}{\pi} \right) \frac{k_B T}{m}.$$

PROBLEMA 4.11 Să se calculeze abaterea pătratică medie a energiei cinetice de translație a moleculelor unui gaz ideal $\overline{(\Delta \varepsilon)^2} = \overline{(\varepsilon - \bar{\varepsilon})^2}$, în cazul distribuției maxwelliene.

SOLUȚIE

Se folosesc proprietățile mediei și se calculează abaterea pătratică medie a energiei cinetice:

$$\overline{(\Delta\varepsilon)^2} = \overline{(\varepsilon - \bar{\varepsilon})^2} = \overline{\varepsilon^2} - (\bar{\varepsilon})^2.$$

Ținem cont de rezultatele obținute în problema 4.10. Atunci:

$$\overline{(\Delta\varepsilon)^2} = \frac{1}{4}m^2 \left(\overline{v^4}\right) - \frac{1}{4}m^2 \left(\overline{v^2}\right)^2.$$

Se au în vedere rezultatele unor probleme anterioare și se obține:

$$\overline{(\Delta\varepsilon)^2} = \frac{15}{4} (k_B T)^2 - \frac{9}{4} (k_B T)^2 = \frac{3}{2} (k_B T)^2$$

adică

$$\overline{(\Delta\varepsilon)^2} = \frac{3}{2} (k_B T)^2.$$

PROBLEMA 4.12 Arătați că pentru o distribuție Maxwell, a moleculelor după viteze, este valabil rezultatul general:

$$|v_x|^n = |v_y|^n = |v_z|^n.$$

SOLUȚIE

Conform definiției valorilor medii

$$\overline{|v_i|^n} = \int_{-\infty}^{\infty} \int_{-\infty}^{\infty} \int_{-\infty}^{\infty} |v_i|^n F(v) dv_x dv_y dv_z,$$

unde $i = x, y, z$

Datorită izotropiei, nici o direcție nu e privilegiată. Valoarea integralei nu se schimbă dacă se face o schimbare de variabilă:

$$\begin{aligned}
\overline{|v_x|^n} &= \int_{-\infty}^{\infty} \int_{-\infty}^{\infty} \int_{-\infty}^{\infty} |v_x|^n F(v) dv_x dv_y dv_z = \\
&= C \int_{-\infty}^{\infty} \int_{-\infty}^{\infty} \int_{-\infty}^{\infty} |v_x|^n e^{-\frac{m(v_x^2 + v_y^2 + v_z^2)}{2k_B T}} dv_x dv_y dv_z = \\
&= \left(\frac{m}{2\pi k_B T} \right)^{3/2} \int_{-\infty}^{\infty} \int_{-\infty}^{\infty} \left(\int_{-\infty}^{\infty} |v_x|^n e^{-\frac{mv_x^2}{2k_B T}} dv_x \right) e^{-\frac{m(v_y^2 + v_z^2)}{2k_B T}} dv_y dv_z = \\
&= \left(\frac{m}{2\pi k_B T} \right)^{3/2} \left(\int_{-\infty}^{\infty} |v_x|^n e^{-\frac{mv_x^2}{2k_B T}} dv_x \right) \left(\int_{-\infty}^{\infty} e^{-\frac{mv_y^2}{2k_B T}} dv_y \right) \left(\int_{-\infty}^{\infty} e^{-\frac{mv_z^2}{2k_B T}} dv_z \right)
\end{aligned}$$

Cum ultimele două ecuații sunt integrale Poisson se obține:

$$|v_x|^n = \left(\frac{m}{2\pi k_B T} \right)^{3/2} \frac{2\pi k_B T}{m} \int_{-\infty}^{\infty} |v_x|^n e^{-\frac{mv_x^2}{2k_B T}} dv_x \quad (4.39)$$

În mod analog:

$$|v_y|^n = \left(\frac{m}{2\pi k_B T} \right)^{3/2} \frac{2\pi k_B T}{m} \int_{-\infty}^{\infty} |v_y|^n e^{-\frac{mv_y^2}{2k_B T}} dv_y \quad (4.40)$$

și

$$|v_z|^n = \left(\frac{m}{2\pi k_B T} \right)^{3/2} \frac{2\pi k_B T}{m} \int_{-\infty}^{\infty} |v_z|^n e^{-\frac{mv_z^2}{2k_B T}} dv_z \quad (4.41)$$

Rezultă:

$$\overline{|v_x|^n} = \overline{|v_y|^n} = \overline{|v_z|^n} \quad (4.42)$$

PROBLEMA 4.13 Stabiliți legătura dintre $\overline{|v_z|^n}$ și $\overline{|v|^n}$, unde n este un întreg.

SOLUȚIE

Se determină forma funcției de distribuție a lui Maxwell după viteze în coordonate sferice. Pentru aceasta se ține cont de definiția coordonatelor sferice și de forma funcției de distribuție a lui Maxwell.

Atunci:

$$\begin{aligned} f(v_x, v_y, v_z) &= \left(\frac{m}{2\pi k_B T} \right)^{\frac{3}{2}} e^{-\frac{mv^2}{2k_B T}} dv_x dv_y dv_z = \\ &= \left(\frac{m}{2\pi k_B T} \right)^{\frac{3}{2}} e^{-\frac{mv^2}{2k_B T}} v^2 \sin \theta dv d\theta d\varphi = f(v, \theta, \varphi) dv d\theta d\varphi \end{aligned}$$

de unde:

$$f(v, \theta, \varphi) = \left(\frac{m}{2\pi k_B T} \right)^{\frac{3}{2}} e^{-\frac{mv^2}{2k_B T}} v^2 \sin \theta \quad (4.43)$$

În coordonate sferice

$$v_z = v \cos \theta \quad (4.44)$$

Se calculează media $\overline{|v_z|^n}$, atât pentru n par ($n = 2r$) cât și pentru n impar ($n = 2r + 1$).

$$\overline{v_z^{2r}} = \int_0^{2\pi} d\varphi \int_0^\pi \cos^{2r} \theta \sin \theta d\theta \int_0^\infty v^{2r} \left(\frac{m}{2\pi k_B T} \right)^{\frac{3}{2}} e^{-\frac{mv^2}{2k_B T}} v^2 dv \quad (4.45)$$

Pentru efectuarea calculului se folosește funcția de distribuție după viteza absolută.

$$f(v) = 4\pi \left(\frac{m}{2\pi k_B T} \right)^{\frac{3}{2}} e^{-\frac{mv^2}{2k_B T}} v^2$$

Se obține:

$$\overline{|v_z|^{2r}} = \frac{1}{4\pi} \int_0^{2\pi} d\varphi \int_0^\pi (\cos \theta)^{2r} \sin \theta d\theta \int_0^\infty v^{2r} f(v) dv \quad (4.46)$$

Deoarece:

$$\int_0^{2\pi} d\varphi = 2\pi$$

și

$$\int_0^{\pi} \cos^{2r} \theta \sin \theta d\theta = - \left. \frac{\cos^{2r+1} \theta}{2r+1} \right|_0^{\pi} = \frac{2}{2r+1}$$

relația 4.46 devine:

$$\overline{|v_z|^{2r}} = \frac{1}{2r+1} \int_0^{\infty} v^{2r} f(v) dv = \frac{1}{2r+1} \overline{v^{2r}} \quad (4.47)$$

În mod analog se obține:

$$\begin{aligned} \overline{|v_z|^{2r+1}} &= \frac{1}{4\pi} \int_0^{2\pi} d\varphi \int_0^{\pi} (\cos \theta)^{2r+1} \sin \theta d\theta \int_0^{\infty} v^{2r+1} f(v) dv = \\ &= \frac{1}{2} \left[\int_0^{\pi/2} (\cos \theta)^{2r+1} \sin \theta d\theta - \int_{\pi/2}^{\pi} (\cos \theta)^{2r+1} \sin \theta d\theta \right] \\ \overline{|v_z|^{2r+1}} &= \frac{1}{2(r+1)} \overline{v^{2r+1}} \end{aligned} \quad (4.48)$$

cu $r \neq -1$

Atunci:

$$\overline{|v_z|^n} = \frac{1}{n+1} \overline{v^n}, \quad n \neq -1,$$

Dar cum $\overline{|v_x|^n} = \overline{|v_y|^n} = \overline{|v_z|^n}$, avem deci $\overline{|v_x|^n} = \frac{1}{n+1} \overline{v^n}$, $n \neq -1$.

Cazuri particulare:

1) $n = 1$

$$\overline{|v_x|} = \overline{|v_y|} = \overline{|v_z|} = \frac{1}{2} \overline{v}$$

$$2) \quad n = 2$$

$$\overline{v_x^2} = \overline{v_y^2} = \overline{v_z^2} = \frac{1}{3} \overline{v^2}$$

PROBLEMA 4.14 Un gaz, compus din molecule de mase m , este în repaus și în echilibru termic la temperatura absolută T . Să se găsească următoarele valori medii:

a) $\overline{v_x}$, $\overline{v_x^2}$, $\overline{v^2 v_x}$, $\overline{v_x^2 v_y}$

b) $\overline{(v_x + bv_y)^2}$, unde b este o constantă.

SOLUȚIE

a) Prin definiție

$$\overline{v_x^n} = \int_{-\infty}^{\infty} \int_{-\infty}^{\infty} \int_{-\infty}^{\infty} v_x^n f(v) dv_x dv_y dv_z \quad (4.49)$$

cu

$$f(v) = C e^{-\frac{mv^2}{2k_B T}}$$

unde

$$C = \left(\frac{m}{2k_B \pi T} \right)^{\frac{3}{2}}$$

$$\begin{aligned} \overline{v_x} &= C \int_{-\infty}^{\infty} \int_{-\infty}^{\infty} \int_{-\infty}^{\infty} v_x e^{-\frac{mv_x^2}{2k_B T}} e^{-\frac{m(v_y^2 + v_z^2)}{2k_B T}} dv_x dv_y dv_z = \\ &= C \int_{-\infty}^{\infty} \int_{-\infty}^{\infty} \left(\int_{-\infty}^{\infty} v_x e^{-\frac{mv_x^2}{2k_B T}} dv_x \right) e^{-\frac{m(v_y^2 + v_z^2)}{2k_B T}} dv_y dv_z = 0, \end{aligned}$$

deoarece

$$\int_{-\infty}^{\infty} v_x e^{-\frac{mv_x^2}{2k_B T}} dv_x = 0$$

(Integrala unei funcții impare care se efectuează pe un interval simetric față de origine este nulă.)

Atunci:

$$\overline{v_x} = 0 \quad (4.50)$$

$$\begin{aligned} \overline{v_x^2} &= \left(\frac{m}{2\pi k_B T} \right)^{3/2} \int_{-\infty}^{\infty} \int_{-\infty}^{\infty} \int_{-\infty}^{\infty} v_x^2 e^{-\frac{m(v_x^2 + v_y^2 + v_z^2)}{2k_B T}} dv_x dv_y dv_z = \\ &= \left(\frac{m}{2\pi k_B T} \right)^{3/2} \int_{-\infty}^{\infty} \int_{-\infty}^{\infty} \left(\int_{-\infty}^{\infty} v_x^2 e^{-\frac{mv_x^2}{2k_B T}} dv_x \right) e^{-\frac{mv_y^2}{2k_B T}} e^{-\frac{mv_z^2}{2k_B T}} dv_y dv_z = \\ &= \left(\frac{m}{2\pi k_B T} \right)^{3/2} \left(\frac{2\pi k_B T}{m} \right) \frac{1}{2} \sqrt{\pi} \left(\frac{2k_B T}{m} \right)^{3/2} \end{aligned}$$

Astfel că:

$$\overline{v_x^2} = \frac{k_B T}{m} \quad (4.51)$$

Rezultă:

$$\begin{aligned} \overline{v^2 v_x} &= \overline{(v_x^2 + v_y^2 + v_z^2) v_x} = \overline{v_x^3 + v_y^2 v_x + v_z^2 v_x} = \\ &= \overline{v_x^3} + \overline{v_y^2 v_x} + \overline{v_z^2 v_x} = 0, \end{aligned}$$

deoarece

$$\overline{v_x^3} = C \int_{-\infty}^{\infty} \int_{-\infty}^{\infty} \int_{-\infty}^{\infty} v_x^3 e^{-\frac{mv_x^2}{2k_B T}} e^{-\frac{m(v_y^2 + v_z^2)}{2k_B T}} dv_x dv_y dv_z = 0,$$

întrucât

$$\int_{-\infty}^{\infty} v_x^3 e^{-\frac{mv_x^2}{2k_B T}} dv_x = 0$$

este funcție impară integrată pe un interval simetric. În mod similar rezultă că:

$$\overline{v_y^2 v_x} = 0$$

$$\overline{v_z^2 v_x} = 0$$

deoarece

$$\begin{aligned} \overline{v_y^2 v_x} &= \left(\frac{m}{2\pi k_B T} \right)^{3/2} \int_{-\infty}^{\infty} \int_{-\infty}^{\infty} \int_{-\infty}^{\infty} v_y^2 v_x e^{-\frac{mv_x^2}{2k_B T}} e^{-\frac{mv_y^2}{2k_B T}} e^{-\frac{mv_z^2}{2k_B T}} dv_x dv_y dv_z = \\ &= \left(\frac{m}{2\pi k_B T} \right)^{3/2} \int_{-\infty}^{\infty} \left(\int_{-\infty}^{\infty} \left(\int_{-\infty}^{\infty} v_x e^{-\frac{mv_x^2}{2k_B T}} dv_x \right) v_y^2 e^{-\frac{mv_y^2}{2k_B T}} dv_y \right) e^{-\frac{mv_z^2}{2k_B T}} dv_z = 0 \end{aligned}$$

Analog,

$$\overline{v_x^2 v_y} = \left(\frac{m}{2\pi k_B T} \right)^{3/2} \int_{-\infty}^{\infty} \left(\int_{-\infty}^{\infty} \left(\int_{-\infty}^{\infty} v_y e^{-\frac{mv_y^2}{2k_B T}} dv_y \right) v_x^2 e^{-\frac{mv_x^2}{2k_B T}} dv_x \right) e^{-\frac{mv_z^2}{2k_B T}} dv_z = 0$$

b) Se aplică rezultatele de mai sus și se obține:

$$\begin{aligned} \overline{(v_x + bv_y)^2} &= \overline{v_x^2 + 2bv_x v_y + b^2 v_y^2} = \\ &= \overline{v_x^2} + 2b\overline{v_x v_y} + b^2 \overline{v_y^2} = \frac{k_B T}{m} + b^2 \frac{k_B T}{m} = \\ &= \frac{k_B T}{m} (1 + b^2), \end{aligned}$$

PROBLEMA 4.15 În cadrul fizicii statistice clasice să se găsească distribuția de probabilitate a vitezelor unghiulare de rotație și distribuția de probabilitate pentru componentele momentului de rotație ale unei molecule.

SOLUȚIE

Distribuția probabilităților pentru mișcarea de rotație a fiecărei molecule se poate scrie separat. Energia cinetică de rotație a unei molecule, considerată un solid rigid, este

$$\varepsilon_{rot} = \frac{1}{2} (I_1 \Omega_1^2 + I_2 \Omega_2^2 + I_3 \Omega_3^2) = \frac{1}{2} \left(\frac{M_1^2}{I_1} + \frac{M_2^2}{I_2} + \frac{M_3^2}{I_3} \right) \quad (4.52)$$

unde I_1, I_2, I_3 sunt momentele principale de inerție, $\Omega_1, \Omega_2, \Omega_3$ sunt proiecțiile vitezei unghiulare pe axele principale de inerție, iar $M_1 = I_1 \Omega_1$, $M_2 = I_2 \Omega_2$, $M_3 = I_3 \Omega_3$ sunt componentele momentului de rotație, care joacă (în mecanica analitică) rolul impulsurilor generalizate pentru vitezele generalizate $\Omega_1, \Omega_2, \Omega_3$.

Distribuția de probabilitate pentru componentele momentului este

$$d\omega_M = C_1 \exp \left[-\frac{1}{2k_B T} \left(\frac{M_1^2}{I_1} + \frac{M_2^2}{I_2} + \frac{M_3^2}{I_3} \right) \right] dM_1 dM_2 dM_3. \quad (4.53)$$

funcția de distribuție fiind:

$$f(M_1, M_2, M_3) = C_1 \exp \left[-\frac{1}{2k_B T} \left(\frac{M_1^2}{I_1} + \frac{M_2^2}{I_2} + \frac{M_3^2}{I_3} \right) \right] \quad (4.54)$$

Se face înlocuirea $M_i = I_i \Omega_i$, $i=1,2,3$, și se obține distribuția de probabilitate pentru vitezele unghiulare

$$d\omega_\Omega = C_2 \exp \left[-\frac{1}{2k_B T} (I_1 \Omega_1^2 + I_2 \Omega_2^2 + I_3 \Omega_3^2) \right] d\Omega_1 d\Omega_2 d\Omega_3 \quad (4.55)$$

Atunci funcția de distribuție este:

$$f(\Omega_1, \Omega_2, \Omega_3) = C_2 \exp \left[-\frac{1}{2k_B T} (I_1 \Omega_1^2 + I_2 \Omega_2^2 + I_3 \Omega_3^2) \right] \quad (4.56)$$

PROBLEMA 4.16 Să se găsească constantele de normare C_1 și C_2 din formula de definiție a distribuției de probabilitate normată la unitate pentru componentele momentului, respectiv a distribuției de probabilitate normată la unitate pentru vitezele unghiulare.

SOLUȚIE

Condițiile de normare impun:

$$\int_{-\infty}^{\infty} \int_{-\infty}^{\infty} \int_{-\infty}^{\infty} C_1 e^{-\frac{1}{2k_B T} \left(\frac{M_1^2}{I_1} + \frac{M_2^2}{I_2} + \frac{M_3^2}{I_3} \right)} dM_1 dM_2 dM_3 = 1 \quad (4.57)$$

$$\int_{-\infty}^{\infty} \int_{-\infty}^{\infty} \int_{-\infty}^{\infty} C_2 e^{-\frac{1}{2k_B T} (I_1 \Omega_1^2 + I_2 \Omega_2^2 + I_3 \Omega_3^2)} d\Omega_1 d\Omega_2 d\Omega_3 = 1 \quad (4.58)$$

unde s-a ținut cont de formele funcțiilor de distribuție după componentele momentului de rotație (relația 4.55) și după vitezele unghiulare (relația 4.56).

Astfel:

$$C_1 = \frac{1}{\int_{-\infty}^{\infty} \int_{-\infty}^{\infty} \int_{-\infty}^{\infty} e^{-\frac{1}{2k_B T} \left(\frac{M_1^2}{I_1} + \frac{M_2^2}{I_2} + \frac{M_3^2}{I_3} \right)} dM_1 dM_2 dM_3}$$

$$C_1 = \frac{1}{\left(\int_{-\infty}^{\infty} e^{-\frac{M_1^2}{2k_B T I_1}} dM_1 \right) \left(\int_{-\infty}^{\infty} e^{-\frac{M_2^2}{2k_B T I_2}} dM_2 \right) \left(\int_{-\infty}^{\infty} e^{-\frac{M_3^2}{2k_B T I_3}} dM_3 \right)} \quad (4.59)$$

Deoarece

$$\int_{-\infty}^{\infty} e^{-\frac{M_i^2}{2k_B T I_i}} dM_i = (2\pi k_B T I_i)^{1/2} \quad n = 1, 2, 3$$

Valoarea constantei este:

$$C_1 = (2\pi k_B T)^{-3/2} (I_1 I_2 I_3)^{-1/2} \quad (4.60)$$

Analog,

$$\begin{aligned}
C_2 &= \frac{1}{\int_{-\infty}^{\infty} \int_{-\infty}^{\infty} \int_{-\infty}^{\infty} e^{-\frac{I_1 \Omega_1^2}{2k_B T}} e^{-\frac{I_2 \Omega_2^2}{2k_B T}} e^{-\frac{I_3 \Omega_3^2}{2k_B T}} d\Omega_1 d\Omega_2 d\Omega_3} = \\
&= \frac{1}{\left(\int_{-\infty}^{\infty} e^{-\frac{I_1 \Omega_1^2}{2k_B T}} d\Omega_1 \right) \left(\int_{-\infty}^{\infty} e^{-\frac{I_2 \Omega_2^2}{2k_B T}} d\Omega_2 \right) \left(\int_{-\infty}^{\infty} e^{-\frac{I_3 \Omega_3^2}{2k_B T}} d\Omega_3 \right)} = \\
&= \frac{1}{\left(\frac{2\pi k_B T}{I_1} \right)^{1/2} \left(\frac{2\pi k_B T}{I_2} \right)^{1/2} \left(\frac{2\pi k_B T}{I_3} \right)^{1/2}} \\
C_2 &= (2\pi k_B T)^{-3/2} (I_1 I_2 I_3)^{1/2} \tag{4.61}
\end{aligned}$$

deoarece

$$\int_{-\infty}^{\infty} e^{-\frac{I_i \Omega_i^2}{2k_B T}} d\Omega_i = \left(\frac{2\pi k_B T}{I_i} \right)^{1/2}$$

În concluzie constantele de normare au valorile

$$C_1 = (2\pi k_B T)^{-3/2} (I_1 I_2 I_3)^{-1/2}$$

și

$$C_2 = (2\pi k_B T)^{-3/2} (I_1 I_2 I_3)^{1/2}.$$

PROBLEMA 4.17 Folosind distribuția de probabilitate normată pentru componentele momentului de rotație, să se găsească media pătratului valorii absolute a momentului de rotație a moleculei.

SOLUȚIE

Distribuția de probabilitate normată, pentru componentele momentului de rotație, este

$$d\omega_M = (2\pi k_B T)^{-3/2} (I_1 I_2 I_3)^{-1/2} [\exp(-A)] dM_1 dM_2 dM_3 \tag{4.62}$$

unde

$$A = \frac{1}{2k_B T} \left(\frac{M_1^2}{I_1} + \frac{M_2^2}{I_2} + \frac{M_3^2}{I_3} \right)$$

Media pătratului valorii absolute a momentului de rotație este prin definiție:

$$\overline{M^2} = \int_D M^2 d\omega_M \quad (4.63)$$

unde D este domeniul de definiție.

Atunci:

$$\begin{aligned} \overline{M^2} &= (2\pi k_B T)^{-3/2} (I_1 I_2 I_3)^{-1/2} \times \\ &\times \int_{-\infty}^{\infty} \int_{-\infty}^{\infty} \int_{-\infty}^{\infty} (M_1^2 + M_2^2 + M_3^2) e^{-\frac{1}{2k_B T} \left(\frac{M_1^2}{I_1} + \frac{M_2^2}{I_2} + \frac{M_3^2}{I_3} \right)} dM_1 dM_2 dM_3 = \\ &= (2\pi k_B T)^{-3/2} (I_1 I_2 I_3)^{-1/2} \sum_{i=1}^3 \left[\int_{-\infty}^{\infty} \int_{-\infty}^{\infty} \int_{-\infty}^{\infty} M_i \exp(A) dM_1 dM_2 dM_3 \right] \end{aligned}$$

Să rezolvăm una din integralele din sumă, pentru $i = 1$:

$$\begin{aligned} &\int_{-\infty}^{\infty} \int_{-\infty}^{\infty} \int_{-\infty}^{\infty} M_1^2 e^{-\frac{1}{2k_B T} \left(\frac{M_1^2}{I_1} + \frac{M_2^2}{I_2} + \frac{M_3^2}{I_3} \right)} dM_1 dM_2 dM_3 = \\ &= \left(\int_{-\infty}^{\infty} M_1^2 e^{-\frac{1}{2k_B T} \frac{M_1^2}{I_1}} dM_1 \right) \left(\int_{-\infty}^{\infty} e^{-\frac{1}{2k_B T} \frac{M_2^2}{I_2}} dM_2 \right) \left(\int_{-\infty}^{\infty} e^{-\frac{1}{2k_B T} \frac{M_3^2}{I_3}} dM_3 \right) = \\ &= \frac{\pi^{1/2}}{2} (2k_B T I_1)^{3/2} (2\pi k_B T I_2)^{1/2} (2\pi k_B T I_3)^{1/2} = \\ &= (2\pi k_B T)^{3/2} (I_1 I_2 I_3)^{1/2} I_1 k_B T. \end{aligned}$$

Rezultă:

$$\overline{M^2} = (2\pi k_B T)^{-3/2} (I_1 I_2 I_3)^{-1/2} \sum_{i=1}^3 \left[(2\pi k_B T)^{3/2} (I_1 I_2 I_3)^{1/2} I_i k_B T \right]$$

$$\overline{M^2} = k_B T \sum_{i=1}^3 I_i = k_B T (I_1 + I_2 + I_3)$$

Rezultatul căutat este

$$\langle M^2 \rangle = \overline{M^2} = k_B T (I_1 + I_2 + I_3) \quad (4.64)$$

PROBLEMA 4.18 Folosind distribuția de probabilitate normată pentru vitezele unghiulare de rotație, să se găsească media pătratului valorii absolute a vitezei unghiulare de rotație a moleculei.

SOLUȚIE

Distribuția de probabilitate normată pentru vitezele unghiulare de rotație, este

$$d\omega_\Omega = (2\pi k_B T)^{-3/2} (I_1 I_2 I_3)^{1/2} A d\Omega_1 d\Omega_2 d\Omega_3$$

unde

$$A = \exp \left[-\frac{1}{2k_B T} (I_1 \Omega_1^2 + I_2 \Omega_2^2 + I_3 \Omega_3^2) \right]$$

Media pătratului valorii absolute a vitezei unghiulare prin definiție, este dată de

$$\overline{\Omega^2} = (2\pi k_B T)^{-3/2} (I_1 I_2 I_3)^{1/2} \int_{-\infty}^{\infty} \int_{-\infty}^{\infty} \int_{-\infty}^{\infty} (\Omega_1^2 + \Omega_2^2 + \Omega_3^2) A d\Omega_1 d\Omega_2 d\Omega_3$$

$$\overline{\Omega^2} = (2\pi k_B T)^{-3/2} (I_1 I_2 I_3)^{1/2} \sum_{i=1}^3 \left[\int_{-\infty}^{\infty} \int_{-\infty}^{\infty} \int_{-\infty}^{\infty} \Omega_i^2 A d\Omega_1 d\Omega_2 d\Omega_3 \right]$$

$$\overline{\Omega^2} = (2\pi k_B T)^{-3/2} (I_1 I_2 I_3)^{1/2} \sum_{i=1}^3 \left[(2\pi k_B T)^{3/2} (I_1 I_2 I_3)^{-1/2} \frac{k_B T}{I_i} \right]$$

$$\overline{\Omega^2} = k_B T \sum_{i=1}^3 \frac{1}{I_i}$$

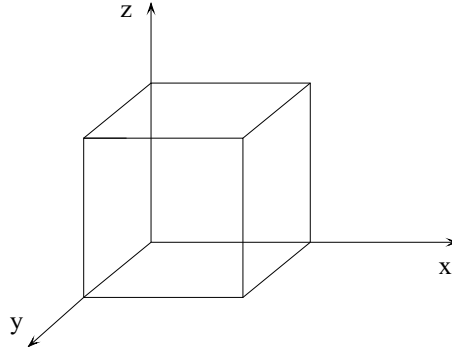


Figura 4.1: Incintă paralelipipedică

Calculule se efectuează în mod similar cu cele din problema precedentă.

Rezultatul cerut este

$$\langle \Omega^2 \rangle = \overline{\Omega^2} = k_B T \left(\frac{1}{I_1} + \frac{1}{I_2} + \frac{1}{I_3} \right).$$

PROBLEMA 4.19 Într-o cutie paralelipipedică se află un gaz la temperatura T . Considerând că moleculele gazului având fiecare masa m se supun legii de distribuție a lui Maxwell, să se determine viteza medie a moleculelor ce părăsesc incinta printr-un orificiu mic, practicat în unul din colțuri.

SOLUȚIE

Fie un sistem de axe $xOyz$ cu axele paralele cu muchiile cutiei (Fig. 4.1). Se consideră orificiul în colțul unei muchii perpendiculară pe axa Oy . Atunci viteza cerută este $\overline{v_y}$.

Prin definiție

$$\overline{v_y} = \left(\frac{m}{2\pi k_B T} \right)^{3/2} \int_{-\infty}^{\infty} \int_0^{\infty} \int_{-\infty}^{\infty} v_y e^{-\frac{m(v_x^2 + v_y^2 + v_z^2)}{2k_B T}} dv_x dv_y dv_z \quad (4.65)$$

După cum se observă s-a considerat $v_y \in (0, \infty)$, deoarece prin acel orificiu vor ieși numai moleculele cu viteza paralelă cu axa Oy, dar orientate în sensul pozitiv al axei (acolo unde este practicat orificiul).

Prin urmare

$$\begin{aligned}\overline{v_y} &= \left(\frac{m}{2\pi k_B T} \right)^{3/2} \left(\int_{-\infty}^{\infty} e^{-\frac{mv_x^2}{2k_B T}} dv_x \right) \left(\int_0^{\infty} v_y e^{-\frac{mv_y^2}{2k_B T}} dv_y \right) \left(\int_{-\infty}^{\infty} e^{-\frac{mv_z^2}{2k_B T}} dv_z \right) \\ \overline{v_y} &= \left(\frac{m}{2\pi k_B T} \right)^{3/2} \left(\sqrt{\frac{2\pi k_B T}{m}} \right)^2 \frac{k_B T}{m} = \sqrt{\frac{k_B T}{2\pi m}}.\end{aligned}$$

Rezultă că viteza medie a moleculelor ce părăsesc incinta este

$$\overline{v_y} = \sqrt{\frac{k_B T}{2\pi m}} \quad (4.66)$$

PROBLEMA 4.20 Aplicând distribuția Maxwell să se determine probabilitatea ca direcția vitezei să fie cuprinsă într-un unghi solid dat.

SOLUȚIE

Se folosește funcția de distribuție a lui Maxwell după viteze scrisă în coordonate sferice (relația 4.43). Cum

$$d\Omega = \sin^2 \theta d\theta d\varphi \quad (4.67)$$

distribuția de probabilitate devine:

$$dP = \left(\frac{m}{2\pi k_B T} \right)^{3/2} e^{-\frac{mv^2}{2k_B T}} v^2 dv d\Omega \quad (4.68)$$

Pentru a se obține distribuția după unghiul solid se integrează după modulul vitezei:

$$dP(\Omega) = \left(\frac{m}{2\pi k_B T} \right)^{3/2} \left(\int_0^{\infty} e^{-\frac{mv^2}{2k_B T}} v^2 dv \right) d\Omega \quad (4.69)$$

Pentru a calcula integrala se pornește de la identitatea:

$$\int_0^{\infty} e^{-ax^2} dx = \frac{1}{2} \sqrt{\frac{\pi}{a}}$$

care se derivează în funcție de parametrul a . Se obține:

$$\int_0^{\infty} x^2 e^{-ax^2} dx = \frac{\sqrt{\pi}}{4} \frac{1}{a^{3/2}}$$

Se derivează încă o dată și se obține:

$$\int_0^{\infty} x^4 e^{-ax^2} dx = \frac{3}{8} \frac{\sqrt{\pi}}{a^{5/2}}$$

Astfel se poate determina:

$$\int_0^{\infty} x^{2n} e^{-ax^2} dx = \frac{1}{2} \frac{\sqrt{\pi}}{2^n} (2n-1)!! \frac{1}{a^{\frac{2n+1}{2}}} \quad (4.70)$$

În cazul dat $a = m/2k_B T$ și $n = 1$ astfel că:

$$\int_0^{\infty} e^{-\frac{mv^2}{2k_B T}} v^2 dv = \frac{\sqrt{\pi}}{4} \left(\frac{2k_B T}{m} \right)^{\frac{3}{2}} \quad (4.71)$$

Atunci relația 4.69 devine:

$$dP = \left(\frac{m}{2\pi k_B T} \right)^{\frac{3}{2}} \frac{\sqrt{\pi}}{4} \left(\frac{2k_B T}{m} \right)^{\frac{3}{2}} d\Omega = \frac{1}{4\pi} d\Omega \quad (4.72)$$

PROBLEMA 4.21 În apă se află o suspensie de particule foarte fine de densitate $\rho > \rho_0$, ρ_0 fiind densitatea apei. În două straturi paralele aflate la distanța h se măsoară concentrația particulelor și se găsește că raportul acestora este n_1/n_2 . Să se determine numărul lui Avogadro. (Se va ține seamă că dimensiunile particulelor sunt de ordinul micrometrilor iar h de ordinul sutelor de micrometri).

SOLUȚIE

Particulele aflate în suspensie se comportă ca un gaz ideal a cărui distribuție este de tip Boltzmann.

$$n = n_0 e^{-E_p/k_B T}$$

iar energia potențială este:

$$E_p = m_0 h g \left(1 - \frac{\rho}{\rho_0} \right)$$

S-a ținut cont că asupra particulelor acționează forța arhimedică. La distanțele h_1 , respectiv h_2 numărul de molecule este:

$$n_1 = n_0 \exp \left[-\frac{m_0 g h_1}{k_B T} \left(1 - \frac{\rho}{\rho_0} \right) \right]$$

$$n_2 = n_0 \exp \left[-\frac{m_0 g h_2}{k_B T} \left(1 - \frac{\rho}{\rho_0} \right) \right]$$

iar raportul lor este:

$$\frac{n_1}{n_2} = \exp \left[\frac{m_0 g}{k_B T} (h_2 - h_1) \left(1 - \frac{\rho_0}{\rho} \right) \right]$$

Se logaritmează expresia de mai sus și observând că $1/k_B = N_A/R$ se obține:

$$\ln \frac{n_1}{n_2} = \frac{N_A m_0 g}{RT} (h_2 - h_1) \left(1 - \frac{\rho_0}{\rho} \right)$$

Atunci:

$$N_A = \frac{RT \ln n_1/n_2}{m_0 g (h_2 - h_1) \left(1 - \frac{\rho_0}{\rho} \right)}$$

PROBLEMA 4.22 Un gaz ideal se găsește într-un cilindru vertical de înălțime h_0 și rază r_0 care se rotește în jurul axei sale verticale în câmpul gravitațional terestru cu viteza unghiulară constantă ω . Să se calculeze distribuția moleculelor după coordonate.

SOLUȚIE

Distribuția moleculelor este de tip Boltzmann

$$dN(\vec{r}) = C \exp\left(-\frac{\varepsilon_p}{k_B T}\right) dx dy dz$$

Se alege un sistem de coordonate cilindrice cu axa Oz verticală de-a lungul cilindrului. Atunci:

$$x = r \cos \varphi$$

$$y = r \sin \varphi$$

Dar:

$$dx dy dz = r dr d\varphi dz$$

Atunci:

$$dN(r, \varphi, z) = C \exp\left(-\frac{E_p}{k_B T}\right) r dr d\varphi dz \quad (4.73)$$

Energia potențială este datorată energiei gravitaționale (E_{p1}) și energiei potențiale în câmpul forței centrifuge (E_{p2}). Energia potențială se scrie astfel:

$$E_p = E_{p1} + E_{p2} \quad (4.74)$$

unde:

$$E_{p1} = mgh \quad (4.75)$$

Pentru determinarea energiei potențiale datorate forței centrifuge se pornește de la relația:

$$dE_{p2} = -dL = -F dr = -m\omega^2 r dr$$

Prin integrare:

$$\begin{aligned} E_{p2} &= - \int m\omega^2 r dr \\ E_{p2} &= -\frac{m\omega^2 r^2}{2} + \text{const} \end{aligned} \quad (4.76)$$

În 4.76 constanta se poate presupune nulă. Ținând cont de 4.75 și 4.76 relația 4.74 devine:

$$E_p = mgz - \frac{m\omega^2 r^2}{2} \quad (4.77)$$

atunci:

$$dN(r, \varphi, z) = \exp \left[\frac{-mgz + (m\omega^2 r^2)/2}{k_B T} \right] r dr d\varphi dz \quad (4.78)$$

Constanta C se determină din condiția de normare. Se pune condiția ca în interiorul vasului de volum V numărul de molecule să fie N .

$$N = C \int_0^{r_0} \left[\exp \left(\frac{m\omega^2 r^2}{2k_B T} \right) \right] r dr \int_0^{h_0} \left[\exp \left(-\frac{mgz}{k_B T} \right) \right] dz \int_0^{2\pi} d\varphi \quad (4.79)$$

Integralele au următoarele valori:

$$\int_0^{r_0} \exp \left(\frac{m\omega^2 r^2}{2k_B T} \right) r dr = \frac{k_B T}{m\omega^2} \left[\exp \left(\frac{m\omega^2 r_0^2}{2k_B T} \right) - 1 \right] \quad (4.80)$$

$$\int_0^{2\pi} d\varphi = 2\pi \quad (4.81)$$

$$\int_0^{h_0} \exp \left(-\frac{mgz}{k_B T} \right) dz = \frac{k_B T}{mg} \left[1 - \exp \left(-\frac{mgh_0}{k_B T} \right) \right] \quad (4.82)$$

Se obține:

$$N = C \left(\frac{k_B T}{m\omega} \right)^2 \frac{2\pi}{g} \left[1 - \exp \left(-\frac{mgh_0}{k_B T} \right) \right] \left[\exp \left(\frac{m\omega^2 r_0^2}{2k_B T} \right) - 1 \right] \quad (4.83)$$

Atunci:

$$C = N \left\{ \left(\frac{k_B T}{m\omega} \right)^2 \frac{2\pi}{g} \left[1 - \exp \left(-\frac{mgh_0}{k_B T} \right) \right] \left[\exp \left(\frac{m\omega^2 r_0^2}{2k_B T} \right) - 1 \right] \right\}^{-1}$$

PROBLEMA 4.23 În cazul problemei precedente să se determine distribuția densității în interiorul cilindrului.

SOLUȚIE

Considerăm distribuția particulelor obținută în problema precedentă

$$dN(r, \varphi, z) = C \left[\exp \left(\frac{-mgz + \frac{m\omega^2 r^2}{2}}{k_B T} \right) \right] r dr d\varphi dz \quad (4.84)$$

Deoarece în situația dată simetria este cilindrică se poate integra după φ

$$dN(r, \varphi, z) = 2\pi C \left[\exp \left(\frac{-mgz + \frac{m\omega^2 r^2}{2}}{k_B T} \right) \right] r dr dz \quad (4.85)$$

Elementul de volum fiind $2\pi r dr dz$ concentrația moleculelor din sistem este:

$$n(r, z) = \frac{dN(r, \varphi, z)}{2\pi r dr dz} = C \exp \left[\frac{-mgz + \frac{m\omega^2 r^2}{2}}{k_B T} \right] \quad (4.86)$$

Deoarece densitatea este proporțională cu concentrația particulelor (densitatea este produsul dintre masa unei molecule și concentrația de molecule) se obține:

$$\rho(r, z) = C \exp \left[\frac{mgz - \frac{m\omega^2 r^2}{2}}{k_B T} \right]$$

PROBLEMA 4.24 Să se determine traiectoria punctului reprezentativ în spațiul fazelor în cazul unui oscilator armonic liniar.

SOLUȚIE

Coordonatele canonice sunt coordonata q corespunzătoare axei de oscilații și impulsul p . Legătura dintre acestea este dată de legea conservării energiei

$$E_c + E_p = E_0 \quad (4.87)$$

unde

$$E_c = \frac{p^2}{2m}$$

este energia cinetică a particulei ce oscilează iar

$$E_p = \frac{m\omega^2 q^2}{2}$$

este energia potențială a oscilatorului de masă m și pulsație ω . E_0 este energia totală (care rămâne constantă în timp). Rezultă:

$$\frac{p^2}{2mE_0} + \frac{q^2 m \omega^2}{2E_0} = 1 \quad (4.88)$$

Traectoria în spațiul fazelor este o elipsă cu semiaxele

$$a = \sqrt{2mE_0}$$

și

$$b = \sqrt{\frac{2E_0}{m\omega^2}}$$

PROBLEMA 4.25 Să se studieze cu ajutorul distribuției microcanonice un sistem format din N particule libere (gaz monoatomic) conținute în volumul V .

SOLUȚIE

Gazul ideal monoatomic se caracterizează prin aceea că particulele sunt punctiforme și nu interacționează între ele.

Fiecare particulă are câte trei grade de libertate. Astfel întreg sistemul posedă $3N$ grade de libertate. Se aleg ca variabile canonice ansamblul format din coordonatele carteziane ale particulelor precum și proiecțiile impulsului fiecărei particule după axe de coordonate.

Se notează cu (q_i, p_i) , $i = 1, 2, \dots, 3N$, ansamblul variabilelor canonice și se aleg:

$$q_{3i-2} = x_i \quad q_{3i-1} = y_i \quad q_{3i} = z_i \quad (4.89)$$

coordonatele carteziene ale particulei i . Analog pentru impulsul particulei i avem:

$$P_{3i-2} = p_{xi} \quad P_{3i-1} = p_{yi} \quad P_{3i} = p_{zi} \quad (4.90)$$

Deoarece particulele nu interacționează între ele, energia sistemului, care în acest caz este dată doar de natură cinetică, are expresia:

$$W_0 = H_0 = \sum_{i=1}^N \frac{p_{xi}^2 + p_{yi}^2 + p_{zi}^2}{2m} = \sum_{i=1}^{3N} \frac{P_i^2}{2m} \quad (4.91)$$

Volumul din spațiul fazelor cuprins în interiorul suprafeței de energie constantă $H = W_0$ este:

$$\Omega_0 = \Omega(W_0) = \int \dots \int_{H \leq W_0} dq_1 \dots dq_{3N} dP_1 \dots dP_{3N} \quad (4.92)$$

Ținând cont că fiecare particulă se mișcă doar în volumul V expresia de mai sus se scrie ca:

$$\begin{aligned} \Omega_0 &= \left(\int_V dq_1 dq_2 dq_3 \dots \int_V dq_{3N-2} dq_{3N-1} dq_{3N} \right) \times \\ &\times \left(\int_{H \leq W_0} (dP_1 dP_2 dP_3) \dots (dP_{3N-2} dP_{3N-1} dP_{3N}) \right) \end{aligned}$$

Cum:

$$\int_V dq_{3i-2} dq_{3i-1} dq_{3i} = \int_V dx_i dy_i dz_i = V$$

$$i = 1, 2, \dots, N$$

Atunci:

$$\Omega_0 = V^N \int_{H \leq W_0} \dots \int (dP_1 dP_2 dP_3) \dots (dP_{3N-2} dP_{3N-1} dP_{3N}) \quad (4.93)$$

Condiția ca $H \leq W_0$ se scrie:

$$\sum_{i=1}^{3N} (P_i)^2 \leq 2mW_0 \quad (4.94)$$

Atunci integrala de mai sus reprezintă practic volumul unei sfere situate într-un spațiu $3N$ - dimensional de rază $\sqrt{2mW_0}$.

Nu se va calcula cu exactitate acest volum, ci se va face o evaluare. Dacă în spațiul tridimensional volumul sferei este proporțional cu R^3 , prin generalizare, se presupune că și în spațiul $3N$ - dimensional volumul sferei va fi proporțional cu R^{3N} . Atunci:

$$\Omega_0 = CV^N (2mW_0)^{\frac{3N}{2}} \quad (4.95)$$

unde C este un factor de proporționalitate. Astfel:

$$\left. \frac{\partial \Omega_0}{\partial W} \right|_{W=W_0} = C \frac{3N}{2} (2m)^{\frac{3N}{2}} V^N W_0^{\frac{3N}{2}-1} \quad (4.96)$$

Atunci entropia sistemului va fi:

$$S = k_B \ln \left[\left(\frac{\partial \Omega_0}{\partial W} \right)_{W=W_0} \right] = k_B \ln \left[CV^N W_0^{\frac{3N}{2}-1} \frac{3N}{2} (2m)^{\frac{3N}{2}} \right] \quad (4.97)$$

sau:

$$S = k_B N \ln V + k_B \left(\frac{3N}{2} - 1 \right) \ln W_0 + k_B \ln \left[\frac{3N}{2} (2m)^{\frac{3N}{2}} \right] + k_B \ln C \quad (4.98)$$

Numărul de particule fiind foarte mare se poate considera că:

$$\frac{3N}{2} - 1 \cong \frac{3N}{2} \quad (4.99)$$

Ținând cont că W_0 este energia internă a sistemului, pentru a folosi notații consacrate vom nota W_0 cu U . Atunci

$$S = k_B N \ln V + \frac{3N}{2} k_B \ln U + k_B \ln \frac{3N}{2} (2m)^{\frac{3N}{2}} + \text{const} \quad (4.100)$$

Cum numărul de particule din sistem este constant se obține

$$\frac{\partial S}{\partial U} = \frac{1}{T}$$

$$\frac{\partial S}{\partial U} = \frac{3k_B N}{2} \frac{1}{U} = \frac{1}{T} \quad (4.101)$$

sau

$$U = \frac{3}{2} k_B N T \quad (4.102)$$

Aceasta reprezintă ecuația calorică de stare a gazului ideal. Deoarece

$$\frac{\partial S}{\partial V} = \frac{p}{T}$$

se derivează relația 4.100 și rezultă:

$$\begin{aligned} \frac{p}{T} &= \frac{\partial S}{\partial V} = \frac{k_B N}{V} \\ pV &= Nk_B T \end{aligned}$$

Aceasta reprezintă ecuația termică de stare a gazului ideal.

Se poate calcula și capacitatea calorică la volum constant. Rezultă:

$$C_V = \left(\frac{\partial U}{\partial T} \right)_V = \frac{3}{2} N k_B$$

PROBLEMA 4.26 Să se studieze cu ajutorul distribuției canonice un sistem format din N particule conținute în volumul V care nu interacționează între ele (gaz monoatomic ideal)

SOLUȚIE

Se aleg ca variabile canonice coordonatele carteziane ale particulelor precum și componentele impulsului fiecărei particule.

$$q_{3i-2} = x_i$$

$$q_{3i-1} = y_i$$

$$q_{3i} = z_i$$

și

$$P_{3i-2} = p_{xi}$$

$$P_{3i-1} = p_{yi}$$

$$P_{3i} = p_{zi}$$

Hamiltonianul sistemului este:

$$H = \sum_{i=1}^{3N} \frac{P_i^2}{2m} \quad (4.103)$$

Atunci funcția de partiție este:

$$Z = \int \dots \int e^{-\sum_{i=1}^N \frac{P_i^2}{2mk_B T}} dq_1 dq_2 \dots dq_{3N} dP_1 dP_2 \dots dP_{3N} \quad (4.104)$$

sau:

$$Z = \left(\prod_{i=1}^{3N} \int_{-\infty}^{\infty} e^{-\frac{P_i^2}{2mk_B T}} dP_i \right) \left(\prod_{i=1}^N \int_V dq_{3i-2} dq_{3i-1} dq_{3i} \right) \quad (4.105)$$

deoarece componentele impulsului fiecărei particule pot lua valori de la $-\infty$ la $+\infty$. Fiecare particulă poate să se miște doar în interiorul volumului V . Atunci:

$$\int_V dq_{3i-2} dq_{3i-1} dq_{3i} = V \quad (4.106)$$

$$Z = V^N \prod_{i=1}^{3N} \int_{-\infty}^{\infty} e^{-\frac{P_i^2}{2mk_B T}} dP_i \quad (4.107)$$

Deoarece:

$$\int_{-\infty}^{\infty} e^{-\frac{1}{2}ax^2} dx = \sqrt{\frac{2\pi}{a}} \quad (4.108)$$

atunci:

$$\int_{-\infty}^{\infty} e^{-\frac{p_i^2}{2mk_BT}} dp_i = \sqrt{2\pi mk_BT} \quad (4.109)$$

iar 4.107 devine:

$$Z = V^N (2\pi mk_BT)^{\frac{3N}{2}} \quad (4.110)$$

Se obține energia liberă:

$$\begin{aligned} F &= -k_BT \ln Z = -k_BT \ln \left[V^N (2\pi mk_BT)^{3N/2} \right] \\ F &= -k_BT \left[N \ln V + \frac{3N}{2} \ln (2\pi mk_BT) \right] \end{aligned} \quad (4.111)$$

și de aici entropia, energia internă, capacitatea calorică specifică și presiunea:

$$S = \frac{\partial F}{\partial T} = - \left[N \ln V + \frac{3N}{2} \ln (2\pi mk_BT) \right] + \frac{3Nk_B}{2} \quad (4.112)$$

$$U = F + TS = \frac{3Nk_BT}{2}$$

$$C_V = \left(\frac{\partial U}{\partial T} \right)_V = \frac{3N}{2} k_B$$

$$p = -\frac{\partial F}{\partial V} = \frac{k_B T N}{V}$$

Se regăsește teoretic legea gazelor ideale $pV = k_B NT$ și proprietatea specifică acestuia: energia internă depinde numai de T .

PROBLEMA 4.27 Un sistem are un spectru de energie nedege-
nerat de forma

$$\varepsilon_l = l\varepsilon \quad \text{unde } l = 0, 1, 2, \dots, n-1 \quad (4.113)$$

Să se studieze proprietățile termodinamice ale unui astfel de sistem.

SOLUȚIE

Funcția de partiție a sistemului este

$$Z = \sum_{l=0}^{n-1} \exp(-\beta \varepsilon l) = \frac{1 - e^{-\beta \varepsilon n}}{1 - e^{-\beta \varepsilon}} \quad (4.114)$$

unde $\beta = 1/k_B T$.

Energia liberă a sistemului este:

$$F = -k_B T \ln \frac{1 - e^{-\beta \varepsilon n}}{1 - e^{-\beta \varepsilon}} \quad (4.115)$$

Energia internă se obține ținând cont de faptul că energia $\varepsilon_l = l\varepsilon$ se realizează cu probabilitatea

$$P(\varepsilon_l) = \frac{1}{Z} e^{-\beta \varepsilon l} \quad (4.116)$$

Atunci:

$$U = \frac{1}{Z} \sum_{l=0}^{n-1} \varepsilon l \exp(-\beta \varepsilon l) \quad (4.117)$$

Pentru a calcula suma de mai sus se va deriva relația 4.114. Se obține

$$-\sum_{l=0}^{n-1} \varepsilon l \exp(-\beta \varepsilon l) = \frac{\varepsilon n e^{-\beta \varepsilon n}}{1 - e^{-\beta \varepsilon}} - \frac{\varepsilon e^{-\beta \varepsilon} (1 - e^{-\beta \varepsilon n})}{(1 - e^{-\beta \varepsilon})^2} \quad (4.118)$$

Atunci

$$U = -\varepsilon \left[\frac{n e^{-\beta \varepsilon n}}{1 - e^{-\beta \varepsilon n}} - \frac{e^{-\beta \varepsilon}}{1 - e^{-\beta \varepsilon}} \right] \quad (4.119)$$

$$U = \varepsilon \left[\frac{1}{e^{\beta \varepsilon} - 1} - \frac{n}{e^{\beta \varepsilon n} - 1} \right] \quad (4.120)$$

Capacitatea calorică la volum constant este:

$$C_V = \frac{\partial U}{\partial T} = \frac{\varepsilon^2}{k_B T^2} \left[-\frac{n^2 e^{\beta \varepsilon n}}{(e^{\beta \varepsilon n} - 1)^2} + \frac{e^{\beta \varepsilon}}{(e^{\beta \varepsilon} - 1)^2} \right] \quad (4.121)$$

PROBLEMA 4.28 Să se studieze cu ajutorul distribuției canonice un sistem format din N oscilatori clasici independenți.

SOLUȚIE

Deoarece oscilatorii sunt independenți funcția de partiție Z a sistemului Z depinde de funcția de partiție Z_i a unui singur oscilator astfel:

$$Z = (Z_i)^N \quad (4.122)$$

Pentru a calcula pe Z_i se consideră hamiltonianul unui singur oscilator:

$$H_i = \frac{1}{2m}p_i^2 + \frac{1}{2}m\omega^2 x_i^2 \quad (4.123)$$

Atunci

$$Z_i = \int_{-\infty}^{\infty} \int_{-\infty}^{\infty} e^{-\beta[\frac{1}{2m}p_i^2 + \frac{1}{2}m\omega^2 x_i^2]} dp_i dx_i, \quad (4.124)$$

unde $\beta = 1/k_B T$.

$$Z_i = \int_{-\infty}^{\infty} e^{-\frac{\beta m}{2}\omega^2 x_i^2} dx_i \int_{-\infty}^{\infty} e^{-\frac{\beta}{2m}p_i^2} dp_i \quad (4.125)$$

$$Z_i = \left(\frac{2\pi}{\beta m \omega^2}\right)^{\frac{1}{2}} \left(\frac{2\pi m}{\beta}\right)^{\frac{1}{2}} = \frac{2\pi}{\beta \omega} = \frac{2\pi k_B T}{\omega} \quad (4.126)$$

Rezultă:

$$Z = (Z_i)^N = \left(\frac{2\pi k_B T}{\omega}\right)^N \quad (4.127)$$

Energia liberă este:

$$F = -k_B T \ln Z = -k_B T N \ln \frac{2\pi k_B T}{\omega} \quad (4.128)$$

iar entropia este:

$$S = -\frac{\partial F}{\partial T} = k_B N \ln \frac{2\pi k_B T}{\omega} + k_B N \quad (4.129)$$

Energia internă este:

$$U = F + TS = Nk_B T \quad (4.130)$$

iar capacitatea calorică a sistemului este:

$$C = \frac{\partial U}{\partial T} = k_B N \quad (4.131)$$

PROBLEMA 4.29 Un sistem fizic este format din N oscilatori armonici independenți și are un spectru de energie dat de expresia:

$$\varepsilon_n = \left(n + \frac{1}{2}\right) \hbar \omega \quad n = 0, 1, 2, \dots \quad (4.132)$$

Să se studieze proprietățile termodinamice ale acestui sistem.

SOLUȚIE

Deoarece oscilatorii sunt independenți se calculează funcția de partiție pentru un singur oscilator.

$$Z_0 = \sum_{n=0}^{\infty} e^{-\beta(n+\frac{1}{2})\hbar\omega} \quad (4.133)$$

unde $\beta = 1/k_B T$. Se obține:

$$Z_0 = e^{-\beta\frac{\hbar\omega}{2}} \sum_{n=0}^{\infty} e^{-\beta n\hbar\omega} = \frac{e^{-\beta\frac{\hbar\omega}{2}}}{1 - e^{-\beta\hbar\omega}} \quad (4.134)$$

Pentru întreg sistemul funcția de partiție este:

$$Z = (Z_0)^N = \frac{e^{-\frac{\beta N\hbar\omega}{2}}}{(1 - e^{-\beta\hbar\omega})^N} \quad (4.135)$$

iar energia liberă:

$$F = -k_B T \ln Z = -k_B T \ln \frac{e^{-\frac{\beta N\hbar\omega}{2}}}{(1 - e^{-\beta\hbar\omega})^N} \quad (4.136)$$

$$F = N \left[\frac{\hbar\omega}{2} + k_B T \ln(1 - e^{-\beta\hbar\omega}) \right] \quad (4.137)$$

Entropia este:

$$S = -\frac{\partial F}{\partial T} = -Nk_B \ln(1 - e^{-\beta\hbar\omega}) + \frac{1}{T} \left(\frac{N\hbar\omega}{1 - e^{-\beta\hbar\omega}} \cdot e^{-\beta\hbar\omega} \right) \quad (4.138)$$

$$S = N \left[\frac{\hbar\omega}{T(e^{\beta\hbar\omega} - 1)} - k_B \ln(1 - e^{-\beta\hbar\omega}) \right] \quad (4.139)$$

iar energia internă:

$$U = F + TS = N \left[\frac{1}{2}\hbar\omega + \frac{\hbar\omega}{e^{\beta\hbar\omega} - 1} \right] \quad (4.140)$$

Capacitatea calorică este:

$$C_p = C_v = \frac{\partial U}{\partial T} = Nk_B(\beta\hbar\omega)^2 \frac{e^{\beta\hbar\omega}}{(e^{\beta\hbar\omega} - 1)^2} \quad (4.141)$$

PROBLEMA 4.30 Când o particulă cu spinul $\frac{1}{2}$ este plasată în câmpul magnetic B , nivelul energetic al acestuia se despică în două nivele μB și $-\mu B$, unde μ este momentul magnetic al particulei respective.

Se presupune că un astfel de sistem care constă din N particule este menținut într-un câmp magnetic B la temperatura T . Să se găsească energia internă, entropia și capacitatea calorică a sistemului.

SOLUȚIE

Funcția de partiție pentru o particulă este:

$$Z_i = e^{\beta\mu B} + e^{-\beta\mu B} = 2\text{ch}\left(\frac{\mu B}{k_B T}\right) \quad (4.142)$$

Deoarece spinii particulelor sunt independenți funcția de partiție este egală cu puterea a N -a a funcției de partiție pentru o singură particulă.

Atunci

$$Z = Z_i^N = 2^N \left[\text{ch}\left(\frac{\mu B}{k_B T}\right) \right]^N \quad (4.143)$$

Energia liberă este:

$$F = -Nk_B T \ln \left[2 \operatorname{ch} \left(\frac{\mu B}{k_B T} \right) \right] \quad (4.144)$$

iar entropia sistemului este:

$$S = - \left(\frac{\partial F}{\partial T} \right) = Nk_B \ln \left[2 \operatorname{ch} \left(\frac{\mu B}{k_B T} \right) \right] - \frac{\mu B N}{T} \operatorname{th} \left(\frac{\mu B}{k_B T} \right) \quad (4.145)$$

Energia internă a sistemului este:

$$U = F + TS = -N\mu B \operatorname{th} \left(\frac{\mu B}{k_B T} \right) \quad (4.146)$$

PROBLEMA 4.31 Să se arate că densitatea de polarizare P a unui gaz constând din N molecule biatomice ce au un moment dipolar p , este dată de:

$$P = \frac{N}{V} \left[\operatorname{cth} \left(\frac{pE}{k_B T} \right) - \frac{k_B T}{pE} \right] p \quad (4.147)$$

unde V este volumul gazului, iar E este intensitatea câmpului electric. Să se demonstreze că dacă

$$pE \ll k_B T \quad (4.148)$$

constanta dielectrică a gazului este

$$\varepsilon_r = 1 + \frac{N}{V} \frac{p^2}{3k_B T \varepsilon_0} \quad (4.149)$$

SOLUȚIE

Se presupune că în această situație câmpul electric local ce acționează asupra unei molecule este egal cu câmpul electric extern E , interacția dintre molecule fiind presupusă neglijabilă.

Datorită agitației termice \vec{E} nu este paralel cu \vec{p} și formează între ele un unghi θ . Energia potențială a unui dipol în câmp electric este:

$$E_p = -Ep \cos \theta \quad (4.150)$$

În cazul distribuției canonice probabilitatea ca direcția dipolului \vec{p} să fie în unghiul solid $d\Omega$ este:

$$\rho(\theta)d\Omega = Ce^{-\frac{Ep}{k_B T}} d\Omega = Ce^{\frac{Ep \cos \theta}{k_B T}} d\Omega \quad (4.151)$$

În expresia de mai sus C este constanta de normare care se obține din condiția:

$$\int \rho(\theta)d\Omega = 1 \quad (4.152)$$

Atunci

$$C = \frac{1}{\int \exp \left[\frac{Ep \cos \theta}{k_B T} \right] d\Omega} \quad (4.153)$$

Valoarea medie a proiecției momentului electric dipolar în direcția lui \vec{E} este dată de:

$$\overline{p \cos \theta} = p \int \rho(\theta) \cos \theta d\Omega \quad (4.154)$$

sau explicit:

$$\overline{p \cos \theta} = \frac{p \int_0^{2\pi} d\varphi \int_0^\pi \cos \theta \exp \left[\frac{Ep \cos \theta}{k_B T} \right] \sin \theta d\theta}{\int_0^{2\pi} d\varphi \int_0^\pi \exp \left[\frac{Ep \cos \theta}{k_B T} \right] \sin \theta d\theta} \quad (4.155)$$

Pentru a calcula integralele se face schimbarea de variabilă

$$\xi = \cos \theta \quad (4.156)$$

$$d\xi = -\sin \theta d\theta \pi \quad (4.157)$$

și se obține:

$$\overline{p \cos \theta} = p \frac{\int_{-1}^1 \xi \exp \left[\frac{Ep\xi}{k_B T} \right] d\xi}{\int_{-1}^1 \exp \left[\frac{Ep\xi}{k_B T} \right] d\xi} \quad (4.158)$$

Se notează cu $a = Ep/k_B T$ și se observă că:

$$\frac{1}{2} \int_{-1}^1 e^{a\xi} d\xi = \frac{e^a - e^{-a}}{2a} = \frac{\text{sha}}{a} \quad (4.159)$$

Se derivează 4.159 în raport cu parametrul a

$$\frac{1}{2} \int_{-1}^1 \xi e^{a\xi} d\xi = \frac{1}{2} \frac{d}{da} \left(\int_{-1}^1 e^{a\xi} d\xi \right) \quad (4.160)$$

Atunci

$$\overline{p \cos \theta} = \frac{\frac{d}{da} \left(\frac{1}{2} \int_{-1}^1 e^{a\xi} d\xi \right)}{\frac{1}{2} \int_{-1}^1 e^{a\xi} d\xi} \quad (4.161)$$

Rezultă:

$$\overline{p \cos \theta} = \frac{d}{da} \ln \left(\frac{1}{2} \int_{-1}^1 e^{a\xi} d\xi \right) = \frac{d}{da} \ln \left(\frac{1}{a} \text{sha} \right) \quad (4.162)$$

$$\overline{p \cos \theta} = \text{ctha} - \frac{1}{a} = L(a), \quad (4.163)$$

unde $L(a)$ este funcția lui Langevin.

Atunci:

$$\overline{p \cos \theta} = p \left[\text{cth} \left(\frac{Ep}{k_B T} \right) - \frac{k_B T}{Ep} \right] \quad (4.164)$$

$$\overline{p \cos \theta} = pL \left(\frac{Ep}{k_B T} \right) \quad (4.165)$$

Deoarece densitatea de polarizare P pe unitatea de volum este egală cu momentul electric dipolar al celor N/V molecule rezultă:

$$P = \frac{Np}{V} L \left(\frac{Ep}{k_B T} \right) \quad (4.166)$$

În cazul în care $Ep \ll k_B T$

$$L \left(\frac{Ep}{k_B T} \right) \simeq \frac{Ep}{3k_B T} \quad (4.167)$$

Pentru $a \ll 1$

$$L(a) = \frac{e^a + e^{-a}}{e^a - e^{-a}} - \frac{1}{a}$$

$$\begin{aligned}
L(a) &\simeq \frac{1+a+\frac{a^2}{2}+\frac{a^3}{6}+1-a+\frac{a^2}{2}-\frac{a^3}{6}}{1+a+\frac{a^2}{2}+\frac{a^3}{6}-1+a-\frac{a^2}{2}+\frac{a^3}{6}} - \frac{1}{a} \approx \frac{a}{3} \\
L(a) &\simeq \frac{2+a^2}{2a+\frac{a^3}{3}} - \frac{1}{a} = \frac{2a}{6+a^2} \simeq \frac{a}{3}
\end{aligned} \tag{4.168}$$

Astfel

$$P = \frac{N}{V} \frac{Ep^2}{3k_B T} \tag{4.169}$$

Introducând inducția electrică D prin relația:

$$D = \varepsilon_0 E + P \tag{4.170}$$

și ținând cont de 4.169

$$\varepsilon_r \varepsilon_0 E = \varepsilon_0 E + \frac{N}{V} \frac{Ep^2}{3k_B T} \tag{4.171}$$

Se obține astfel constanta dielectrică:

$$\varepsilon_r = 1 + \frac{N}{V} \frac{p^2}{3k_B T \varepsilon_0} \tag{4.172}$$

Capitolul 5

CÂMPUL ELECTROMAGNETIC

PROBLEMA 5.1 O sarcină q pozitivă este distribuită uniform în interiorul unei sfere dielectrice omogene cu permitivitatea ε . Se cere intensitatea câmpului electric în afara sferei și în interiorul ei.

SOLUȚIE

Din considerente de simetrie câmpul electric în interiorul și în exteriorul sferei are direcția razei sferei (Fig. 5.1). Se folosește forma integrală a legii lui Gauss:

$$\iint \vec{D} d\vec{S} = q \quad (5.1)$$

Deoarece pentru un mediu omogen $\vec{D} = \varepsilon \vec{E}$ relația 5.1 devine pentru punctele din exteriorul sferei:

$$\varepsilon_0 \iint \vec{E} \vec{n} dS = q$$

Atunci:

$$E 4\pi R^2 = \frac{q}{\varepsilon_0}$$

de unde

$$E = \frac{q}{4\pi\varepsilon_0 R^2} \quad (5.2)$$

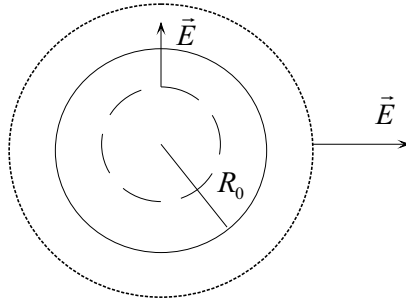


Figura 5.1: Câmpul electric al unei sfere dielectrice încărcate uniform cu sarcină electrică

Pentru punctele din interiorul sferei relația 5.1 devine

$$E4\pi r^2 = \frac{q'}{\varepsilon} \quad (5.3)$$

unde q' reprezintă sarcina din interiorul sferei de rază r . Cum:

$$q' = q \frac{\frac{4}{3}\pi r^3}{\frac{4}{3}\pi R_0^3} = q \left(\frac{r}{R_0} \right)^3$$

utilizând 5.3 se obține intensitatea câmpului electric în interiorul sferei:

$$E = \frac{1}{4\pi\varepsilon} \frac{qr}{R_0^3}$$

PROBLEMA 5.2 Se dă o distribuție liniară de sarcină, a cărei densitate este λ (sarcina pe unitatea de lungime). Să se găsească expresia intensității câmpului electric la distanța r de aceasta dacă distribuția de sarcină se găsește în vid.

SOLUȚIE

Din considerente de simetrie, \vec{E} are o direcție radială ca în Fig. 5.2. Pentru a determina câmpul electric se consideră o suprafață cilindrică a cărei axă de simetrie o constituie distribuția liniară de sarcină. Se

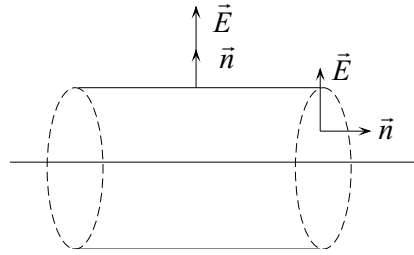


Figura 5.2: Câmpul electric al unei distribuții liniare de sarcină

observă ca fluxul câmpului electric este diferit de zero doar pe suprafața laterală a cilindrului. Pe baze fluxul este nul deoarece unghiul dintre normală și intensitatea câmpului electric este $\pi/2$. Deoarece $D = \varepsilon_0 E$ legea lui Gauss se scrie

$$\varepsilon_0 \iint \vec{E} \vec{n} dS = q$$

Rezultă:

$$\varepsilon_0 E (2\pi r h) = \lambda h$$

$$E = \frac{\lambda}{2\pi\varepsilon_0 r} \quad (5.4)$$

PROBLEMA 5.3 Într-un plan există o distribuție infinită de sarcină, cu densitatea superficială σ . Să se determine câmpul electric creat de aceasta.

SOLUȚIE

Din considerente de simetrie vectorul intensitate câmp electric este perpendicular pe planul încărcat electric (Fig. 5.3). Aceasta se datorează faptului că pentru orice element de sarcină din plan se poate găsi un element simetric. Pentru aceste două elemente componentele orizontale ale câmpurilor create se anulează și nu rămân să se însumeze decât componentele verticale. Pentru aplicarea legii lui Gauss se alege ca suprafață

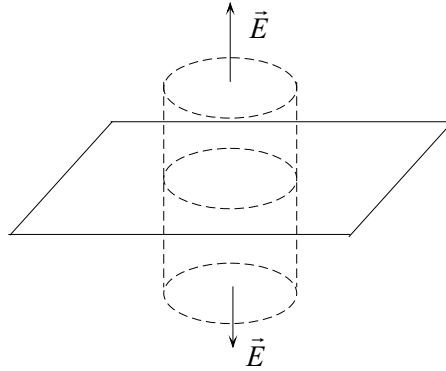


Figura 5.3: Câmpul unei distribuții plane de sarcină

închisă un cilindru cu bazele ΔS simetrice față de planul încărcat electric și cu generatoarea perpendiculară pe acest plan. Se observă ca doar pe baze există un flux diferit de zero. Pe suprafața laterală normala și vectorul intensitate câmp electric sunt perpendiculare. Aplicând legea lui Gauss:

$$\varepsilon_0 (E\Delta S + E\Delta S) = \sigma\Delta S$$

rezultă:

$$E = \frac{\sigma}{2\varepsilon_0}$$

PROBLEMA 5.4 Permittivitatea unei sfere neomogene de rază R aflată în vid variază după legea

$$\varepsilon(r) = \varepsilon_0 \left(\frac{r}{R} + 2 \right) \quad (5.5)$$

Să se calculeze câmpul electric creat de o sarcină Q distribuită în întregul volum al sferei.

SOLUȚIE

Aplicăm legea lui Gauss

$$\iint \vec{D} \vec{n} dS = Q$$

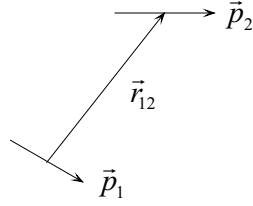


Figura 5.4: Dipoli ce interacționează între ei

Pentru $r < R$ unde R este raza sferei rezultă:

$$D4\pi r^2 = Q_{int} \quad (5.6)$$

Ținând cont de variația permitivității mediului și de 5.5 se obține:

$$\varepsilon_0 \left(\frac{r}{R} + 2 \right) E4\pi r^2 = Q_{int} = \frac{r^3}{R^3} Q$$

Rezultă:

$$E = \frac{Qr}{4\pi\varepsilon_0 R^2 (r + 2R)} \quad (5.7)$$

Pentru $r > R_0$ aplicarea legii lui Gauss pe o suprafață sferică concentrică cu sfera data conduce la:

$$\varepsilon_0 E4\pi r^2 = Q$$

Rezultă:

$$E = \frac{Q}{4\pi\varepsilon_0 r^2} \quad (5.8)$$

PROBLEMA 5.5 Să se determine energia potențială de interacție dintre doi dipoli \vec{p}_1 și \vec{p}_2 aflați la distanța \vec{r}_{12} unul de altul (Fig. 5.4).

SOLUȚIE

Energia potențială a unui dipol în câmp electric este:

$$W = -\vec{p}\vec{E} \quad (5.9)$$

Considerăm dipolul \vec{p}_2 în câmpul electric \vec{E}_1 al dipolului \vec{p}_1 unde:

$$\vec{E}_1 = \frac{1}{4\pi\epsilon_0} \left[\frac{3(\vec{p}_1\vec{r}_{12})\vec{r}_{12}}{r_{12}^5} - \frac{\vec{p}_1}{r_{12}^3} \right] \quad (5.10)$$

Atunci energia de interacție se scrie:

$$W = -\vec{p}_2\vec{E}_1 = \frac{1}{4\pi\epsilon_0} \left[\frac{\vec{p}_1\vec{p}_2}{r_{12}^3} - 3\frac{(\vec{p}_1\vec{r}_{12})(\vec{p}_2\vec{r}_{12})}{r_{12}^5} \right] \quad (5.11)$$

PROBLEMA 5.6 Un mediu neomogen dar izotrop, caracterizat prin constantele ϵ si σ este străbătut de un curent staționar de densitate \vec{j} . Să se arate că în mediul respectiv există sarcini de volum și să se calculeze densitatea ρ a acestora.

SOLUȚIE

Conform legii lui Gauss:

$$\nabla\vec{D} = \rho \quad (5.12)$$

Cum:

$$\vec{D} = \epsilon\vec{E} \quad (5.13)$$

și

$$\vec{j} = \sigma\vec{E} \quad (5.14)$$

rezultă:

$$\rho = \nabla\left(\frac{\epsilon}{\sigma}\vec{j}\right) \quad (5.15)$$

Utilizând identitatea

$$\nabla(a\vec{b}) = a\nabla\vec{b} + \vec{b}\nabla a$$

se obține:

$$\nabla\left(\frac{\epsilon}{\sigma}\vec{j}\right) = \frac{\epsilon}{\sigma}\nabla\vec{j} + \vec{j}\nabla\left(\frac{\epsilon}{\sigma}\right) \quad (5.16)$$

Deoarece densitatea de curent \vec{j} este aceeași în orice punct al mediului $\nabla\vec{j} = 0$, relația 5.16 devine:

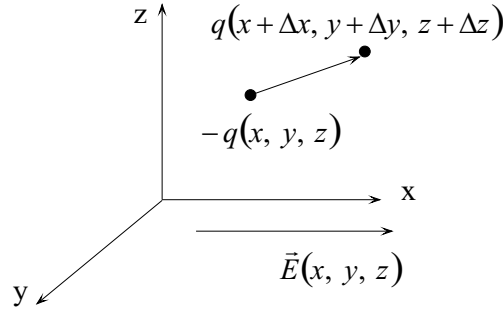


Figura 5.5: Dipol în câmp electric neuniform

$$\rho = \vec{j} \cdot \nabla \left(\frac{\varepsilon}{\sigma} \right) \quad (5.17)$$

PROBLEMA 5.7 Să se calculeze forța ce acționează asupra unui dipol arbitrar orientat într-un câmp electric neuniform $\vec{E}(x, y, z)$.

SOLUȚIE

Se consideră că distanța dintre cele două sarcini ale dipolului este Δl , iar segmentul respectiv este orientat în așa fel încât proiecțiile acestei distanțe pe axele de coordonate Δx , Δy , Δz să fie diferite de zero (Fig. 5.5). Forța care acționează asupra dipolului pe direcția Ox este:

$$F_x = qE_x(x + \Delta x, y + \Delta y, z + \Delta z) - qE_x(x, y, z) \quad (5.18)$$

Deoarece:

$$E_x(x + \Delta x, y + \Delta y, z + \Delta z) = E_x(x, y, z) + \frac{\partial E_x}{\partial x} \Delta x + \frac{\partial E_x}{\partial y} \Delta y + \frac{\partial E_x}{\partial z} \Delta z$$

se obține:

$$F_x = q\Delta x \frac{\partial E_x}{\partial x} + q\Delta y \frac{\partial E_x}{\partial y} + q\Delta z \frac{\partial E_x}{\partial z} \quad (5.19)$$

Dar:

$$\vec{p} = (q\Delta x) \vec{e}_x + (q\Delta y) \vec{e}_y + (q\Delta z) \vec{e}_z \quad (5.20)$$

și relația 5.19 devine:

$$F_x = p_x \frac{\partial E_x}{\partial x} + p_y \frac{\partial E_x}{\partial y} + p_z \frac{\partial E_x}{\partial z} = \vec{p} \cdot \nabla E_x \quad (5.21)$$

În mod analog se obțin și celelalte componente ale forței ce acționează asupra dipolului:

$$F_y = \vec{p} \cdot \nabla E_y \quad (5.22)$$

$$F_z = \vec{p} \cdot \nabla E_z \quad (5.23)$$

În concluzie:

$$\vec{F} = (\vec{p} \cdot \nabla) \vec{E}$$

PROBLEMA 5.8 Să se determine potențialul creat de un dipol cu momentul dipolar \vec{p} și cu distanța dintre cele două sarcini egală cu $2a$ (Fig. 5.6).

SOLUȚIE

Conform Fig. 5.6 potențialul în punctul P este suma potențialelor celor două sarcini

$$V = V_1 + V_2 = \frac{q}{4\pi\epsilon} \left(\frac{1}{r_1} - \frac{1}{r_2} \right) = \frac{q}{4\pi\epsilon} \frac{r_2 - r_1}{r_1 r_2} \quad (5.24)$$

Dacă $r \gg 2a$ atunci:

$$r_1 r_2 \simeq r^2$$

unde r este distanța de la centrul dipolului la punctul considerat. Deoarece:

$$r_2 - r_1 \simeq 2a \cos \theta$$

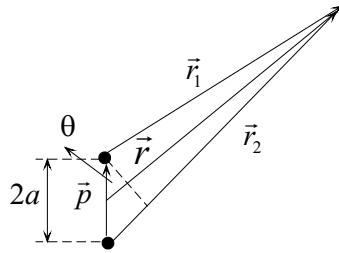


Figura 5.6: Schema pentru calculul potențialului creat de un dipol

relația 5.24 devine:

$$V = \frac{q}{4\pi\epsilon_0} \frac{2a \cos \theta}{r^2} = \frac{p \cos \theta}{4\pi\epsilon_0 r^2} \quad (5.25)$$

Deoarece

$$\vec{p} \vec{r} = p r \cos \theta$$

potențialul se exprimă astfel:

$$V = \frac{1}{4\pi\epsilon_0} \frac{\vec{p} \vec{r}}{r^3} \quad (5.26)$$

PROBLEMA 5.9 Să se determine câmpul electric creat de un dipol, (ale cărui sarcini q și $-q$ se află la distanța $2a$), într-un punct P situat la distanța r în lungul perpendicularei dusă la jumătatea distanței dintre cele două sarcini (Fig. ??).

SOLUȚIE

Câmpul electric rezultat este:

$$\vec{E} = \vec{E}_1 + \vec{E}_2 \quad (5.27)$$

unde

$$E_1 = E_2 = \frac{q}{4\pi\epsilon_0 (a^2 + r^2)} \quad (5.28)$$

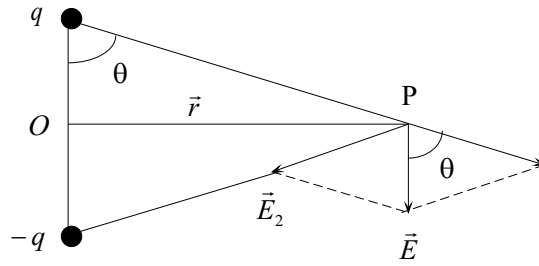


Figura 5.7: Câmpul electric creat de un dipol într-un punct P situat pe perpendiculara dusă la jumătatea distanței dintre cele două sarcini

Câmpul electric rezultat (Fig. ??) este perpendicular pe dreapta OP și

$$E = 2E_1 \cos \theta = 2E_1 \frac{a}{\sqrt{a^2 + r^2}} \quad (5.29)$$

Atunci

$$E = \frac{q}{4\pi\epsilon_0} \frac{2a}{(a^2 + r^2)^{3/2}} \quad (5.30)$$

Dacă $r \gg a$ atunci:

$$E = \frac{1}{4\pi\epsilon_0} \frac{2aq}{r^3} = \frac{1}{4\pi\epsilon_0} \frac{p}{r^3} \quad (5.31)$$

PROBLEMA 5.10 Potențialul câmpului electrostatic creat de un dipol de moment dipolar \vec{p} aflat în vid este

$$V = \frac{1}{4\pi\epsilon_0} \frac{\vec{p} \cdot \vec{r}}{r^3}$$

Să se calculeze intensitatea câmpului electric.

SOLUȚIE

Pentru aceasta se utilizează formula:

$$\vec{E} = -\nabla V = -\frac{1}{4\pi\epsilon_0} \nabla \frac{\vec{p} \cdot \vec{r}}{r^3} \quad (5.32)$$

Vom demonstra identitatea

$$\nabla (AB) = A\nabla B + B\nabla A \quad (5.33)$$

unde A și B sunt scalari

$$\nabla (AB) = \vec{e}_x \frac{\partial}{\partial x} (AB) + \vec{e}_y \frac{\partial}{\partial y} (AB) + \vec{e}_z \frac{\partial}{\partial z} (AB)$$

$$\nabla (AB) = \vec{e}_x \left(A \frac{\partial B}{\partial x} + B \frac{\partial A}{\partial x} \right) + \vec{e}_y \left(A \frac{\partial B}{\partial y} + B \frac{\partial A}{\partial y} \right) + \vec{e}_z \left(A \frac{\partial B}{\partial z} + B \frac{\partial A}{\partial z} \right)$$

$$\nabla (AB) = A \left(\frac{\partial B}{\partial x} \vec{e}_x + \frac{\partial B}{\partial y} \vec{e}_y + \frac{\partial B}{\partial z} \vec{e}_z \right) + B \left(\frac{\partial A}{\partial x} \vec{e}_x + \frac{\partial A}{\partial y} \vec{e}_y + \frac{\partial A}{\partial z} \vec{e}_z \right)$$

Astfel identitatea 5.33 este demonstrată

În cazul problemei propuse se consideră $A = \vec{p}\vec{r}$ și $B = 1/r^3$ și se obține:

$$\nabla \left(\frac{\vec{p}\vec{r}}{r^3} \right) = (\vec{p}\vec{r}) \nabla \left(\frac{1}{r^3} \right) + \frac{1}{r^3} \nabla (\vec{p}\vec{r}) \quad (5.34)$$

Dar:

$$\nabla \left(\frac{1}{r^3} \right) = \frac{\partial}{\partial x} \left(\frac{1}{r^3} \right) \vec{e}_x + \frac{\partial}{\partial y} \left(\frac{1}{r^3} \right) \vec{e}_y + \frac{\partial}{\partial z} \left(\frac{1}{r^3} \right) \vec{e}_z \quad (5.35)$$

Deoarece

$$\frac{\partial}{\partial x} \left(\frac{1}{r^3} \right) = -\frac{3}{r^4} \frac{\partial}{\partial x} \sqrt{x^2 + y^2 + z^2} = -\frac{3x}{r^5} \quad (5.36)$$

$$\frac{\partial}{\partial y} \left(\frac{1}{r^3} \right) = -\frac{3y}{r^5} \quad (5.37)$$

$$\frac{\partial}{\partial z} \left(\frac{1}{r^3} \right) = -\frac{3z}{r^5} \quad (5.38)$$

putem exprima relația 5.35 astfel:

$$\nabla \left(\frac{1}{r^3} \right) = -\frac{3x\vec{e}_x + 3y\vec{e}_y + 3z\vec{e}_z}{r^5} = -\frac{3\vec{r}}{r^5} \quad (5.39)$$

Cum:

$$\nabla (\vec{p}\vec{r}) = \nabla (xp_x + yp_y + zp_z) = \vec{p}_x\vec{e}_x + \vec{p}_y\vec{e}_y + \vec{p}_z\vec{e}_z = \vec{p} \quad (5.40)$$

atunci din relațiile 5.39 și 5.40 se obține:

$$\vec{E} = \frac{1}{4\pi\epsilon_0} \left[\frac{3(\vec{p}\vec{r})\vec{r}}{r^5} - \frac{\vec{p}}{r^3} \right] \quad (5.41)$$

PROBLEMA 5.11 Să se găsească capacitatea unui condensator având electrozii de formă sferică cu razele a și b dacă permitivitatea absolută a mediului dintre cei doi electrozi este:

$$\epsilon(r) = \begin{cases} \epsilon_1 & \text{când } a \leq r < c \\ \epsilon_2 & \text{când } c \leq r \leq b \end{cases}$$

SOLUȚIE

Aplicând legea lui Gauss pentru suprafața S_1 când $a \leq r < c$ se obține:

$$E_1 = \frac{Q}{4\pi\epsilon_1 r^2} \quad (5.42)$$

Aplicând legea lui Gauss pentru suprafața S_2 când $c \leq r < b$ se obține:

$$E_2 = \frac{Q}{4\pi\epsilon_2 r^2} \quad (5.43)$$

Tensiunea dintre armăturile condensatorului este:

$$U = \int_a^b E dr = \int_a^c E_1 dr + \int_c^b E_2 dr$$

Rezultă:

$$U = \frac{Q}{4\pi\epsilon_1} \left(\frac{1}{a} - \frac{1}{c} \right) + \frac{Q}{4\pi\epsilon_2} \left(\frac{1}{c} - \frac{1}{b} \right)$$

Astfel se poate calcula capacitatea condensatorului.

$$C = \frac{Q}{U} = \left[\frac{1}{4\pi\epsilon_1} \left(\frac{1}{a} - \frac{1}{c} \right) + \frac{1}{4\pi\epsilon_2} \left(\frac{1}{c} - \frac{1}{b} \right) \right]^{-1}$$

PROBLEMA 5.12 Un condensator cilindric este realizat din doi cilindri concentrici cu razele a și $b > a$ și lungimea l . Cunoscând că cei doi cilindri sunt în vid să se calculeze capacitatea acestui dispozitiv considerând că lungimea lui este foarte mare.

SOLUȚIE

Se calculează câmpul electric în interiorul condensatorului respectiv. Pentru aceasta se utilizează legea lui Gauss sub formă integrală. Pentru efectuarea integralei de suprafață se consideră o suprafață cilindrică coaxială cu cei doi cilindri, de lungime l și rază r . Datorită simetriei, câmpul electric are aceiași valoare pe suprafața laterală. Pe bazele cilindrului considerat fluxul este nul.

Atunci relația

$$\epsilon_0 \int \int \vec{E} d\vec{S} = q \quad (5.44)$$

devine:

$$\epsilon_0 2\pi r l E = q$$

de unde:

$$E = \frac{q}{2\pi\epsilon_0 l r} \quad (5.45)$$

Tensiunea dintre armături este:

$$U = \int_a^b \vec{E} d\vec{r} = \int_a^b \frac{q}{2\pi\epsilon_0 l} \frac{dr}{r} = \frac{q}{2\pi\epsilon_0 l} \ln \frac{b}{a} \quad (5.46)$$

iar capacitatea condensatorului este:

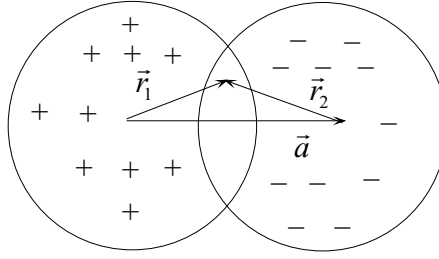


Figura 5.8: Cavitare formată prin intersecția a două sfere încărcate

$$C = \frac{q}{U} = \frac{2\pi\epsilon_0 l}{\ln(b/a)} \quad (5.47)$$

PROBLEMA 5.13 Care este câmpul electric într-o cavitare formată prin intersecția a două sfere încărcate cu densitățile de sarcină ρ și $-\rho$ uniform distribuite în volumul lor. Distanța dintre centrele celor două sfere este a (Fig. 5.8).

SOLUȚIE

Așa cum am discutat anterior câmpul electric într-o sferă uniform încărcată la distanța $r < R$ este:

$$\vec{E} = \frac{Q}{4\pi\epsilon_0 R^3} \vec{r} = \frac{\rho}{3\epsilon_0} \vec{r} \quad (5.48)$$

unde \vec{r} este vectorul de poziție din centrul sferei la punctul de observație, Q este sarcina totală, ρ este densitatea de sarcină și R este raza sferei.

Astfel în interiorul cavității câmpul electric este dat de suprapunerea câmpurilor datorate celor două sfere considerate uniform încărcate.

$$\vec{E} = \vec{E}_1 + \vec{E}_2 = \frac{\rho}{3\epsilon_0} \vec{r}_1 - \frac{\rho}{3\epsilon_0} \vec{r}_2 = \frac{\rho}{3\epsilon_0} (\vec{r}_1 - \vec{r}_2) = \frac{\rho}{3\epsilon_0} \vec{a} \quad (5.49)$$

Rezultă că în interiorul cavității câmpul este uniform

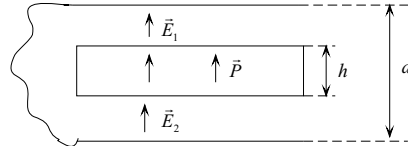


Figura 5.9: Placă dielectrică plasată între placile unui condensator aflate la același potențial

PROBLEMA 5.14 O placă de dielectric de grosime h având o polarizare $P = \text{const}$ este plasată în interiorul unui condensator cu fețe plan paralele, armăturile condensatorului fiind legate printr-un conductor. Vectorul polarizare este perpendicular pe cele două fețe ale dielectricului. Să se determine câmpul electric și inducția în interiorul plăcii dielectrice. Distanța dintre armăturile condensatorului este d .

SOLUȚIE

Notăm cu \vec{E}_1 , \vec{E}_2 , \vec{E}_3 intensitățile câmpului electric în cele trei regiuni și cu \vec{D}_1 , \vec{D}_2 , \vec{D}_3 inducțiile câmpului electric (Fig. 5.9).

Vom pune condiția de continuitate a componentei normale a vectorului inducție câmp electric

$$D_1 = D_2 = D_3 \quad (5.50)$$

Deoarece

$$D_1 = \varepsilon_0 E_1$$

$$D_3 = \varepsilon_0 E_3$$

Rezultă că $E_1 = E_3$. Cum:

$$D_2 = \varepsilon_0 E_2 + P \quad (5.51)$$

condiția de continuitate 5.50 se scrie:

$$\varepsilon_0 E_1 = \varepsilon_0 E_2 + P \quad (5.52)$$

de unde

$$E_1 = E_2 + \frac{P}{\varepsilon_0} \quad (5.53)$$

Condiția ca diferența de potențial dintre cele două plăci să fie nulă este:

$$E_1 (d - h) + E_2 h = 0$$

și substituind E_1 din 5.53 se obține:

$$\left(E_2 + \frac{P}{\varepsilon_0}\right) (d - h) + E_2 h = 0 \quad (5.54)$$

Rezultă:

$$E_2 = -\frac{P}{\varepsilon_0} \left(1 - \frac{h}{d}\right) \quad (5.55)$$

$$D_2 = \varepsilon_0 E_2 + P = P \frac{h}{d} \quad (5.56)$$

PROBLEMA 5.15 Fie o placă deformată de grosime $2d$. Datorită acestui fapt polarizarea nu este uniformă: polarizarea în mijlocul plăcii este P_0 și în rest este dată de expresia:

$$P = P_0 \left(1 - \frac{x^2}{d^2}\right) \quad (5.57)$$

unde x este distanța de la mijlocul plăcii la punctul considerat. Vectorul polarizare este orientat de-a lungul axei Ox perpendiulară pe fețele plăcii dielectrice. Să se determine câmpul electric în interiorul și în exteriorul plăcii, precum și diferența de potențial dintre suprafețele laterale ale acesteia.

SOLUȚIE

Deoarece nici în interiorul plăcii nici în exteriorul plăcii nu există sarcină electrică liberă:

$$\vec{D} = 0 \quad (5.58)$$

Cum

$$\vec{D} = \varepsilon_0 \vec{E} + \vec{P} \quad (5.59)$$

în exteriorul plăcii dielectrice polarizarea este nulă și rezultă $\vec{E} = 0$.

În interiorul plăcii $P \neq 0$ și atunci din relațiile 5.58 și 5.59 se obține:

$$E = -\frac{1}{\varepsilon_0} P = -\frac{P_0}{\varepsilon_0} \left(1 - \frac{x^2}{d^2}\right) \quad (5.60)$$

Diferența de potențial dintre plăci este:

$$V_2 - V_1 = -\int_{-d}^d E dx = \frac{P_0}{\varepsilon_0} \int_{-d}^d \left(1 - \frac{x^2}{d^2}\right) dx = \frac{4}{3\varepsilon_0} P d \quad (5.61)$$

PROBLEMA 5.16 Să se arate că într-un conductor omogen densitatea de sarcină electrică liberă tinde la zero.

SOLUȚIE

Se consideră ecuația de continuitate:

$$\nabla \cdot \vec{j} + \frac{\partial \rho}{\partial t} = 0 \quad (5.62)$$

Deoarece

$$\vec{j} = \sigma \vec{E} \quad (5.63)$$

ecuația 5.62 devine:

$$\sigma \nabla \cdot \vec{E} + \frac{\partial \rho}{\partial t} = 0 \quad (5.64)$$

sau

$$\frac{\sigma}{\varepsilon_0} \nabla \cdot (\varepsilon_0 \vec{E}) + \frac{\partial \rho}{\partial t} = 0$$

$$\frac{\sigma}{\varepsilon_0} \nabla \vec{D} + \frac{\partial \rho}{\partial t} = 0 \quad (5.65)$$

Notăm

$$\frac{\varepsilon_0}{\sigma} = +\mathfrak{S}$$

Cum $\nabla \vec{D} = \rho$ ecuația 5.65 devine:

$$\frac{1}{\mathfrak{S}} \rho + \frac{d\rho}{dt} = 0$$

Prin integrarea acestei ecuații rezultă:

$$\ln \frac{\rho}{\rho_0} = -\frac{t}{\mathfrak{S}}$$

adică:

$$\rho = \rho_0 e^{-\frac{t}{\mathfrak{S}}}$$

Rezultă că densitatea de sarcină electrică liberă din interiorul unui conductor scade exponențial în timp și după un timp suficient de lung se va anula.

PROBLEMA 5.17 Două plăci dielectrice paralele sunt plasate în interiorul unui condensator cu fețe plan paralele (Fig. 5.10). Grosimile celor două plăci sunt h_1 și h_2 conductivitățile σ_1 și σ_2 iar permitivitățile ε_1 și ε_2 . Între armăturile condensatorului este menținută o diferență de potențial U . Să se determine câmpul electric E , inducția D , densitatea curentului j și densitatea de sarcini libere și sarcini legate pe cele trei suprafețe de separare.

SOLUȚIE

La suprafața de separare dintre plăcile 1 și 2 punem condiția de continuitate a densității de curent.

$$j = \sigma_1 E_1 = \sigma_2 E_2 \quad (5.66)$$

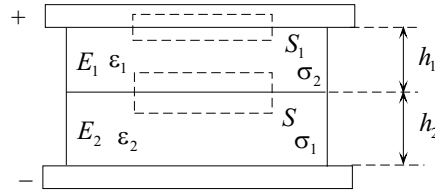


Figura 5.10: Condensator cu două plăci dielectrice plasate în interiorul său

În plus

$$U = E_1 h_1 + E_2 h_2 \quad (5.67)$$

De aici

$$E_1 = \frac{\sigma_2 U}{\sigma_1 h_2 + \sigma_2 h_1}$$

$$E_2 = \frac{\sigma_1 U}{\sigma_1 h_2 + \sigma_2 h_1}$$

Atunci

$$D_1 = \varepsilon_1 E_1 = \frac{\varepsilon_1 \sigma_2 U}{\sigma_1 h_2 + \sigma_2 h_1} \quad (5.68)$$

$$D_2 = \varepsilon_2 E_2 = \frac{\varepsilon_2 \sigma_1 U}{\sigma_1 h_2 + \sigma_2 h_1} \quad (5.69)$$

Densitatea de curent este:

$$j = \sigma_1 E_1 = \frac{\sigma_1 \sigma_2 U}{\sigma_1 h_2 + \sigma_2 h_1}$$

Condiția de continuitate a componentelor normale ale inducției electrice la suprafața de separare dintre cele două plăci este:

$$D_1 - D_2 = \sigma_l \quad (5.70)$$

unde σ_l este densitatea superficială de sarcini libere. Introducând 5.68 și 5.69 rezultă:

$$\sigma_l = \frac{(\varepsilon_1 \sigma_2 - \varepsilon_2 \sigma_1) U}{\sigma_1 h_2 + \sigma_2 h_1}$$

Se aplică legea lui Gauss pe suprafața S .

$$SE_1 - SE_2 = \frac{S\sigma}{\varepsilon_0} = \frac{S(\sigma_l + \sigma_p)}{\varepsilon_0}$$

unde σ este densitatea totală de sarcini iar σ_p este densitatea de sarcini de polarizare.

De aici rezultă, ținând cont de 5.70:

$$\varepsilon_0 (E_1 - E_2) = (D_1 - D_2) + \sigma_p$$

sau:

$$\sigma_p = (\varepsilon_0 E_1 - D_1) + (D_2 - \varepsilon_0 E_2)$$

Atunci:

$$\sigma_p = \frac{\sigma_2 (\varepsilon_0 - \varepsilon_1) - \sigma_1 (\varepsilon_0 - \varepsilon_2)}{\sigma_1 h_2 + \sigma_2 h_1} U \quad (5.71)$$

La suprafața de separare dintre electrodul aflat la potențial pozitiv și dielectric:

$$D_1 - D_+ = \sigma_l^{(1)}$$

În interiorul plăcii metalice $D_+ = 0$. În relația de mai sus $\sigma_l^{(1)}$ este densitatea de sarcini libere pe această suprafață.

$$D_1 = \sigma_l^{(1)}$$

Aplicăm legea lui Gauss pentru suprafața de separație S_1 .

$$E_1 S = \frac{(\sigma_l^{(1)} + \sigma_p^{(1)}) S}{\varepsilon_0}$$

Rezultă:

$$\sigma_p^{(1)} = \varepsilon_0 E_1 - \sigma_l^{(1)}$$

$$\sigma_p^{(1)} = \varepsilon_0 E_1 - \varepsilon_1 E_1 = (\varepsilon_0 - \varepsilon_1) E_1$$

La cea de a doua frontieră se procedează la fel. Se obține:

$$\begin{aligned}\sigma_l^{(2)} &= -D_2 \\ \sigma_p^{(2)} &= -(\varepsilon_0 - \varepsilon_2) E_2\end{aligned}$$

PROBLEMA 5.18 O sferă de rază a încărcată cu sarcina Q este învelită într-un strat dielectric cu permitivitatea relativă ε_r astfel încât raza sferei astfel construită este b . Să se determine potențialul la care se află sfera.

SOLUȚIE

Se aplică legea lui Gauss pentru o suprafață sferică cu raza r , unde $a < r < b$.

$$\iint \varepsilon_0 \varepsilon_r \vec{E} d\vec{S} = Q \quad (5.72)$$

Rezultă câmpul din interiorul dielectricului:

$$E = \frac{Q}{4\pi \varepsilon_r \varepsilon_0 r^2} \quad (5.73)$$

Se aplică legea lui Gauss în afara dielectricului pentru o suprafață sferică cu raza $r > b$.

$$\iint \varepsilon_0 \vec{E} d\vec{S} = Q \quad (5.74)$$

Rezultă:

$$E = \frac{Q}{4\pi \varepsilon_0 r^2} \quad (5.75)$$

Atunci potențialul este:

$$V = \int_a^\infty \vec{E} d\vec{r} = \int_a^b \vec{E} d\vec{r} + \int_b^\infty \vec{E} d\vec{r} \quad (5.76)$$

Ținând cont de relațiile 5.73 și 5.75, 5.76 devine:

$$V = \frac{Q}{4\pi\epsilon_r\epsilon_0} \int_a^b \frac{dr}{r^2} + \frac{1}{4\pi\epsilon_0} \int_b^\infty \frac{dr}{r^2} = \frac{Q}{4\pi\epsilon_r\epsilon_0} \left(\frac{1}{a} - \frac{1}{b} \right) + \frac{Q}{4\pi\epsilon_0 b} \quad (5.77)$$

PROBLEMA 5.19 Care trebuie să fie densitatea de volum a unui nor electronic uniform repartizat în spațiul dintre plăcile unui condensator plan-paralel cu distanța d dintre plăci astfel încât una dintre plăci să se afle la un potențial nul iar cealaltă la potențialul V_0 . Pe placa aflată la potențial nul câmpul electric este nul.

SOLUȚIE

Se alege axa Ox perpendiculară pe plăci, originea ei fiind pe una din acestea. Conform ecuației Poisson

$$\frac{d^2V}{dx^2} = -\frac{\rho}{\epsilon} \quad (5.78)$$

Prin integrare se obține:

$$\frac{dV}{dx} = -\frac{\rho}{\epsilon}x + C_1 \quad (5.79)$$

Cum $\vec{E} = -dV/dx$ rezultă că $dV/dx = 0$ când $x = 0$. Atunci $C_1 = 0$. Integrând cu aceste condiții ecuația 5.79 se obține:

$$V = -\frac{\rho}{\epsilon_0} \frac{x^2}{2} + C_2 \quad (5.80)$$

Deoarece pentru $x = 0$ și $V = 0$ rezultă $C_2 = 0$. Atunci:

$$V = -\frac{\rho}{\epsilon_0} \frac{x^2}{2}$$

Când $x = d$, $V = V_0$ rezultă:

$$\rho = -\frac{2\epsilon_0 V_0}{d^2}$$

PROBLEMA 5.20 Să se arate că într-un tub electronic curentul electronic care pleacă de la catod (potențialul 0) și ajunge la anod (potențialul V_0) satisface ecuația:

$$I = KV_0^{\frac{3}{2}}$$

Se va ține cont că emisia de electroni este continuă iar densitatea curentului electronic în spațiul dintre armături este constantă în timp.

SOLUȚIE

Notăm cu S suprafața electrozilor și cu d distanța dintre electrozi.

Axa Ox se consideră perpendiculară pe electrozi. În cazul regimului staționar densitatea de curent j este constantă de-a lungul axei Ox .

Deoarece V variază numai în direcția perpendiculară pe electrozi, adică depinde numai de coordonata x , ecuația Poisson se scrie:

$$\frac{d^2V}{dx^2} = -\frac{\rho}{\varepsilon_0} \quad (5.81)$$

În cazul emisiei termoelectronice electronii pleacă de la catod cu viteze de ordinul vitezei de agitație termică, care sunt mici în comparație cu vitezele atinse de electroni sub influența câmpurilor electrice exterioare. De aceea vom considera vitezele inițiale ale electronilor egale cu zero. Când electronul părăsește catodul și se află într-un punct în care potențialul are valoarea V , viteză v este dată de expresia:

$$\frac{mv^2}{2} = eV$$

Densitatea curentului ce ajunge la anod este:

$$j = -\rho v$$

unde $\rho = ne$, n fiind densitatea de electroni.

Semnul minus apare deoarece curentul este determinat de sarcini negative.

Rezultă:

$$j = -\rho \sqrt{\frac{2eV}{m}}$$

de unde

$$\rho = -j\sqrt{\frac{m}{2e}}V^{-\frac{1}{2}} \quad (5.82)$$

și ecuația 5.81 devine:

$$\frac{d^2V}{dx^2} = -\frac{j}{\varepsilon_0}\sqrt{\frac{m}{2e}}V^{-\frac{1}{2}} \quad (5.83)$$

Înmulțim ambii membri cu $\frac{dV}{dx}dx$ și integrăm

$$\int_0^x \frac{d^2V}{dx^2} \frac{dV}{dx} dx = -\frac{j}{\varepsilon_0}\sqrt{\frac{m}{2e}} \int_0^x V^{-\frac{1}{2}} \frac{dV}{dx} dx$$

Deoarece la $x = 0$, $V(x) = 0$ și $dV/dx = 0$ rezultă:

$$\left(\frac{dV}{dx}\right)^2 = \frac{4j}{\varepsilon}\sqrt{\frac{m}{2e}}V^{\frac{1}{2}}$$

de unde:

$$\frac{dV}{dx} = 2\sqrt{\frac{j}{\varepsilon_0}}\sqrt[4]{\frac{m}{2e}} \cdot V^{\frac{1}{4}} \quad (5.84)$$

sau

$$\frac{dV}{V^{\frac{1}{4}}} = 2\sqrt{\frac{j}{\varepsilon_0}}\sqrt[4]{\frac{m}{2e}} \cdot dx$$

Integrând

$$\int_0^{V_0} \frac{dV}{V^{\frac{1}{4}}} = 2\sqrt{\frac{j}{\varepsilon_0}}\sqrt[4]{\frac{m}{2e}} \int_0^d dx$$

se obține:

$$\frac{4}{3}V_0^{\frac{3}{4}} = 2\sqrt{\frac{j}{\varepsilon_0}}\sqrt[4]{\frac{m}{2e}}d \quad (5.85)$$

Din 5.85 rezultă:

$$j = \frac{4}{9}\sqrt{\frac{2e}{m}}\frac{\varepsilon_0}{d^2}V_0^{\frac{3}{2}} \quad (5.86)$$

Atunci intensitatea curentului este:

$$I = jS = \frac{4}{9} \sqrt{\frac{2e}{m}} \frac{\varepsilon_0 S}{d^2} V_0^{\frac{3}{2}} = K V_0^{\frac{3}{2}}$$

Aceasta este așa numita lege "3/2"

PROBLEMA 5.21 Să se arate că unui câmp electrostatic uniform \vec{E}_0 îi corespunde potențialul $V = -\vec{E}_0 \vec{r}$

SOLUȚIE

Deoarece

$$\vec{E} = -\nabla \left(-\vec{E}_0 \vec{r} \right) = \nabla (x E_{0x} + y E_{0y} + z E_{0z}) \quad (5.87)$$

Atunci:

$$E_x = \frac{\partial V}{\partial x} = E_{0x}$$

$$E_y = \frac{\partial V}{\partial y} = E_{0y}$$

$$E_z = \frac{\partial V}{\partial z} = E_{0z}$$

Rezultă:

$$\vec{E}_0 = E_{0x} \vec{e}_x + E_{0y} \vec{e}_y + E_{0z} \vec{e}_z$$

PROBLEMA 5.22 Să se determine câmpul magnetic produs de un curent I care parcurge un conductor rectiliniu infinit într-un punct P la distanța R de acesta.

SOLUȚIE

Câmpul magnetic creat de elementul de curent $d\vec{x}$ are direcția perpendiculară pe planul figurii 5.11 și este date de:

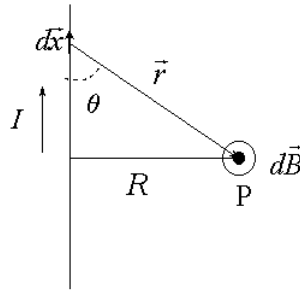


Figura 5.11: Câmpul magnetic produs de un curent rectiliniu infinit de lung

$$dB = \frac{\mu_0 I}{4\pi} \frac{dx \sin \theta}{r^2} \quad (5.88)$$

Cum orientarea câmpului magnetic este aceeași pentru toate elementele de curent, inducția magnetică este dată de integrala expresiei 5.88:

$$B = \frac{\mu_0 I}{4\pi} \int_{-\infty}^{+\infty} \frac{dx \sin \theta}{r^2} \quad (5.89)$$

Deoarece

$$r = \sqrt{x^2 + R^2}$$

$$\sin \theta = \sin (\pi - \theta) = \frac{R}{\sqrt{x^2 + R^2}}$$

rezultă:

$$B = \frac{\mu_0 I}{4\pi} \int_{-\infty}^{+\infty} \frac{R dx}{(x^2 + R^2)^{3/2}} = \frac{\mu_0 I}{2\pi R} \quad (5.90)$$

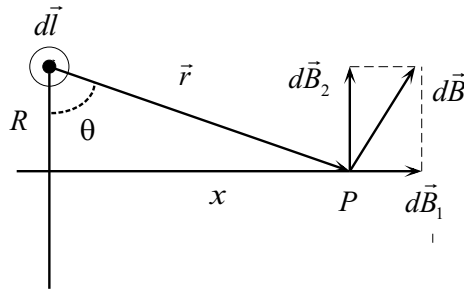


Figura 5.12: Câmpul creat de o spiră de curent

PROBLEMA 5.23 Fie o spiră de rază R prin care trece un curent I . Să se calculeze câmpul magnetic determinat de aceasta în punctele situate pe axa sa de simetrie.

SOLUȚIE

Se consideră un vector $d\vec{l}$ tangent la spira de rază R (Fig. 5.12). Unghiul dintre $d\vec{l}$ și \vec{r} este de 90° . Vectorul $d\vec{B}$ este perpendicular pe planul format de $d\vec{l}$ și \vec{r} și este situat în planul figurii.

$d\vec{B}$ se poate descompune în două componente: $d\vec{B}_1$ având direcția normalei la planul spirei și $d\vec{B}_2$ perpendiculară pe axa de simetrie. În punctul P contribuie doar componenta $d\vec{B}_1$ deoarece componentele $d\vec{B}_2$ la inducția totală \vec{B} corespunzătoare tuturor elementelor de curent sunt în sensul axei de simetrie și se însumează; componentele $d\vec{B}_2$ sunt perpendiculare pe această axă dar având sensuri contrare rezultanta lor este nulă.

Pentru elementul de curent considerat

$$dB = \frac{\mu_0 I}{4\pi} \frac{dl \sin(\pi/2)}{r^2} \quad (5.91)$$

$$dB_1 = dB \cos \theta = \frac{\mu_0 I}{4\pi} \frac{\cos \theta dl}{r^2} \quad (5.92)$$

Cum:

$$r = \sqrt{R^2 + x^2}$$

$$\cos \theta = \frac{R}{\sqrt{R^2 + x^2}}$$

Rezultă:

$$dB_1 = \frac{\mu_0 I}{4\pi} \frac{R dl}{(R^2 + x^2)^{3/2}}$$

Integrând peste toate elementele de circuit și ținând cont că $\int dl = 2\pi R$, rezultă:

$$B_1 = \frac{\mu_0 I}{2} \frac{R^2}{(R^2 + x^2)^{3/2}} \quad (5.93)$$

Dacă $x \gg R$ atunci:

$$B = \frac{\mu_0 I R^2}{2x^3} = \frac{\mu_0}{2\pi} \frac{I \pi R^2}{x^3} \quad (5.94)$$

Deoarece $m = I \pi R^2$ este momentul magnetic dipolar al spirei respective:

$$B = \frac{\mu_0}{2\pi} \frac{m}{x^3} \quad (5.95)$$

PROBLEMA 5.24 Să se arate că un câmp magnetostatic uniform admite potențialul vector

$$\vec{A} = \frac{1}{2} (\vec{B} \times \vec{r}) \quad (5.96)$$

SOLUȚIE

Proiectând produsului vectorial pe axele unui triedru cartezian se obține:

$$A_x = \frac{1}{2} (B_y z - B_z y)$$

$$A_y = \frac{1}{2} (B_z x - B_x z)$$

$$A_z = \frac{1}{2} (B_x y - B_y x)$$

Cum B_x , B_y , B_z sunt constante rezultă:

$$(\nabla \times \vec{A})_x = \frac{\partial A_z}{\partial y} - \frac{\partial A_y}{\partial z} = B_x$$

$$(\nabla \times \vec{A})_y = \frac{\partial A_x}{\partial z} - \frac{\partial A_z}{\partial x} = B_y$$

$$(\nabla \times \vec{A})_z = \frac{\partial A_y}{\partial x} - \frac{\partial A_x}{\partial y} = B_z$$

Atunci:

$$\nabla \times \vec{A} = \vec{B}$$

PROBLEMA 5.25 Cunosând potențialul vector determinat de un moment magnetic dipolar \vec{m}

$$\vec{A}(\vec{r}) = \frac{\mu_0}{4\pi} \frac{\vec{m} \times \vec{r}}{r^3}$$

să se calculeze câmpul magnetic corespunzător. Se va considera că momentul magnetic \vec{m} este orientat de-a lungul axei Oz.

SOLUȚIE

Pentru simplificare se consideră că momentul de dipol magnetic are direcția axei Oz:

$$\vec{m} = m\vec{e}_z \quad (5.97)$$

$$\vec{m} \times \vec{r} = -my\vec{e}_x + mx\vec{e}_y \quad (5.98)$$

Atunci

$$A_x = -\frac{\mu_0 m y}{4\pi r^3}$$

$$A_y = \frac{\mu_0 m x}{4\pi r^3}$$

$$A_z = 0$$

Cum

$$\vec{B} = \nabla \times \vec{A} \quad (5.99)$$

$$B_x = \left(\nabla \times \vec{A} \right)_x = \frac{\partial A_z}{\partial y} - \frac{\partial A_y}{\partial z}$$

$$B_x = -\frac{\mu_0 m}{4\pi} \frac{\partial}{\partial z} \left[\frac{x}{(x^2 + y^2 + z^2)^{3/2}} \right] = \frac{\mu_0 m}{4\pi} \frac{3xz}{r^5} \quad (5.100)$$

$$B_y = \left(\nabla \times \vec{A} \right)_y = \frac{\partial A_x}{\partial z} - \frac{\partial A_z}{\partial x}$$

$$B_y = -\frac{\mu_0 m}{4\pi} \frac{\partial}{\partial z} \left[\frac{y}{(x^2 + y^2 + z^2)^{3/2}} \right] = \frac{\mu_0 m}{4\pi} \frac{3yz}{r^5} \quad (5.101)$$

$$B_z = \left(\nabla \times \vec{A} \right)_z = \frac{\partial A_y}{\partial x} - \frac{\partial A_x}{\partial y} = \frac{\mu_0 m}{4\pi} \frac{3z^2 - r^2}{r^5} \quad (5.102)$$

unde $r = \sqrt{x^2 + y^2 + z^2}$. Atunci:

$$\vec{B} = \frac{\mu_0}{4\pi} \left[\frac{3(mz)\vec{r}}{r^5} - \frac{m\vec{e}_z}{r^3} \right] \quad (5.103)$$

Generalizând:

$$\vec{B} = \frac{\mu_0}{4\pi} \left[\frac{3(\vec{m}\vec{r})\vec{r}}{r^5} - \frac{\vec{m}}{r^3} \right] \quad (5.104)$$

PROBLEMA 5.26 Să se determine câmpul magnetic în interiorul unei bobine toroidale. O bobină toroidală este un solenoid de lungime finită curbat în forma unui tor. Se cunosc N (numărul de spire) și curentul care trece prin bobină (Fig.5.13).

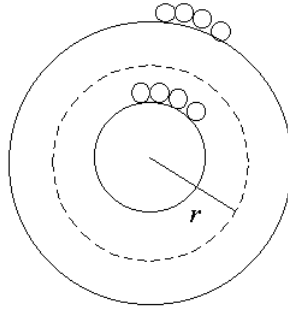


Figura 5.13: Bobină toroidală; liniile de câmp sunt cercuri

SOLUȚIE

Liniile câmpului magnetic formează cercuri concentrice în interiorul torului. Se aplică legea lui Ampère pe un contur circular de rază r .

$$\oint \vec{B} d\vec{l} = \mu_0 I \quad (5.105)$$

unde $I = I_0 N$. Se obține:

$$B 2\pi r = \mu_0 N I_0$$

Rezultă:

$$B = \frac{\mu_0}{2\pi} \frac{I_0 N}{r} \quad (5.106)$$

PROBLEMA 5.27 Să se determine momentul magnetic al unei sfere cu raza R încărcate cu sarcina q uniform distribuită în volum care se rotește cu viteza unghiulară ω în jurul unei axe care trece prin centru.

SOLUȚIE

În elementul de volum $dV = r^2 \sin \theta d\theta d\varphi dr$ sarcina este distribuită cu densitatea ρ :

$$dq = \rho dV \quad (5.107)$$

unde

$$\rho = \frac{3q}{4\pi R^3}$$

este densitatea volumică de sarcină.

Rezultă:

$$dq = \frac{3q}{4\pi R^3} r^2 \sin \theta d\theta d\varphi dr \quad (5.108)$$

Curentul generat în rotație de sarcina dq este

$$dI = \frac{dq}{2\pi} \omega = \frac{3q\omega}{8\pi^2 R^3} r^2 \sin \theta d\theta d\varphi dr \quad (5.109)$$

iar momentul magnetic asociat:

$$dm = (\pi r^2 \sin^2 \theta) dI$$

sau

$$dm = \frac{3q\omega}{8\pi R^3} r^4 \sin^3 \theta d\theta d\varphi dr \quad (5.110)$$

Momentul magnetic total este

$$m = \frac{3q\omega}{8\pi R^3} \int_0^R r^4 dr \int_0^\pi \sin^3 \theta d\theta \int_0^{2\pi} d\varphi = \frac{q\omega R^2}{5}$$

PROBLEMA 5.28 Să se determine momentul magnetic al unei sfere cu raza R încărcate cu sarcina q uniform distribuită pe suprafața ei, care se rotește în jurul axei proprii cu viteza unghiulară ω .

SOLUȚIE

Se ține cont că dacă o sarcină q se rotește în jurul unei axe la distanța r de aceasta ea este echivalentă cu o buclă de curent cu intensitatea:

$$I = \frac{q}{T} = \frac{q\omega}{2\pi} \quad (5.111)$$

unde $\omega = 2\pi/T$ este viteza unghiulară cu care sarcina se rotește pe orbita circulară.

Fie o zonă sferică cu raza $r = R \sin \theta$ și aria $dS = 2\pi R^2 \sin \theta d\theta$
Sarcina superficială a acesteia este egală cu

$$dq = \sigma dS \quad (5.112)$$

Deoarece:

$$\sigma = \frac{q}{4\pi R^2}$$

Rezultă:

$$dq = \frac{q}{2} \sin \theta d\theta \quad (5.113)$$

Curentul generat de această sarcină în mișcare este

$$dI = dq \frac{\omega}{2\pi} = \frac{q\omega}{4\pi} \sin \theta d\theta \quad (5.114)$$

iar momentul magnetic produs:

$$dm = (\pi R^2 \sin^2 \theta) dI = \pi R^2 \sin^2 \theta \frac{q\omega}{4\pi} \sin \theta d\theta \quad (5.115)$$

Atunci momentul magnetic total este:

$$m = \frac{qR^2\omega}{4} \int_0^\pi \sin^3 \theta d\theta = \frac{qR^2\omega}{3}$$

PROBLEMA 5.29 Să se determine câmpul magnetic în interiorul și în exteriorul unui cilindru de rază R prin care circulă un curent de densitate j , știind că liniile de câmp sunt cercuri concentrice în plane perpendiculare pe axa cilindrului.

SOLUȚIE

a) Pentru calculul câmpului magnetic în interiorul cilindrului se aplică legea lui Ampère pe un contur circular cu centrul pe axa cilindrului aflat într-un plan perpendicular pe cilindru de rază $r < R$.

$$\oint_C \vec{B} d\vec{l} = \mu_0 \iint \vec{j} d\vec{S} \quad (5.116)$$

unde S este suprafața care se sprijină pe conturul C .

Rezultă:

$$2\pi r B = \mu_0 j \pi r^2$$

de unde:

$$B = \frac{\mu_0 j r}{2} \quad (5.117)$$

b) Pentru calculul câmpului magnetic în exteriorul cilindrului se aplică legea lui Ampère pe un contur circular cu centrul pe axa cilindrului cu raza $r > R$.

Se obține:

$$2\pi r B = \mu_0 j \pi R^2$$

de unde:

$$B = \frac{\mu_0 R^2 j}{2r} \quad (5.118)$$

PROBLEMA 5.30 Într-o regiune din spațiu există un câmp magnetic uniform paralel cu axa Oz. Mărimea lui variază în timp astfel:

$$B = B_0 \sin \omega t \quad (5.119)$$

Să se determine câmpul electric în fiecare punct.

SOLUȚIE

Pentru a calcula câmpul electric vom alege un contur circular de rază r într-un plan perpendicular pe axa Oz. Se aplică legea inducției electromagnetice:

$$\oint \vec{E} d\vec{l} = -\frac{d\phi}{dt} \quad (5.120)$$

unde ϕ este fluxul magnetic prin suprafața $S = \pi r^2$ Dar:

$$\oint \vec{E} d\vec{l} = 2\pi r E$$

și

$$\Phi = BS = \pi r^2 B_0 \sin \omega t$$

Atunci relația 5.120 devine:

$$2\pi r E = -\pi r^2 B_0 \omega \cos \omega t \quad (5.121)$$

De aici rezultă valoarea câmpului electric:

$$E = -\frac{1}{2} r B_0 \omega \cos \omega t$$

PROBLEMA 5.31 Un condensator plan cu plăcile circulare de rază R paralele este conectat la un generator de curent alternativ astfel încât pe plăci sarcina care se acumulează variază în timp după legea:

$$q = q_0 \sin \omega t$$

Liniile câmpului electric sunt cercuri concentrice având ca axă de simetrie axa cilindrului. Se cere câmpul electric în punctele situate la distanța r de axa condensatorului când

- a) $r \leq R$
- b) $r > R$

SOLUȚIE

Se consideră un contur circular cu centrul pe axa cilindrului într-un plan paralel cu plăcile condensatorului. Aplicând legea lui Ampère se obține:

$$\int_C \vec{B} d\vec{l} = \mu_0 \varepsilon_0 \int_S \frac{\partial \vec{E}}{\partial t} d\vec{S} \quad (5.122)$$

a) Dacă $r < R$ rezultă:

$$B = \frac{1}{2} \mu_0 \varepsilon_0 r \frac{dE}{dt} \quad (5.123)$$

Deoarece

$$E = \frac{q}{\varepsilon_0 A} = \frac{q_0}{\varepsilon_0 A} \sin \omega t$$

unde $A = \pi R^2$ este aria armăturilor condensatorului, atunci:

$$\frac{dE}{dt} = \frac{q_0}{\varepsilon_0 A} \omega \cos \omega t \quad (5.124)$$

Atunci relația 5.123 devine:

$$B = \frac{\mu_0 \omega r q_0}{2\pi R^2} \cos \omega t \quad (5.125)$$

a) Dacă $r > R$ din relația 5.122 se obține:

$$B = \frac{\mu_0 \varepsilon_0 R^2}{2r} \frac{dE}{dt} \quad (5.126)$$

Astfel ținând cont de relația 5.124 rezultă:

$$B = \frac{\mu_0 q_0 \omega \cos \omega t}{2\pi r} \quad (5.127)$$

Bibliografie

- [1] V. V. Batygin, I. N. Toptygin – *Problems in Electrodynamics* , Academic Press, London and New York, 1964
- [2] Cornelia Motoc – *Fizică* , Editura All. București 1994
- [3] Ion M. Popescu – *Fizică* , Editura didactică și Pedagogică, București, 1982
- [4] Ion M. Popescu, Gabriela Cone, Gheorghe Stanciu – *Probleme rezolvate de fizică* , Editura didactică și Pedagogică, București, 1993
- [5] H. Goldstein – *Classical Mechanics* , Addison - Wesley Publishing Co. Mass. 1980
- [6] G. L .Kotkin, V. G. Serbo – *Collection of Problems in Classical Mechanics* , Pergamon Press, 1971
- [7] L. D. Landau, E. M. Lifshitz – *Fizică statistică* , Editura Tehnică, București 1998
- [8] Ryogo Kubo – *Thermodynamics* , North Holland Publishing Company, Amsterdam, 1968
- [9] Ryogo Kubo – *Statistical Mechanics* , North Holland Publishing Company, Amsterdam, 1965